



JABATAN PELAJARAN NEGERI JOHOR
PEPERIKSAAN PERCUBAAN

SIJIL PELAJARAN MALAYSIA 2008

1249/1

SEJARAH

Kertas 1

Sept

1 jam

Satu Jam

JANGAN BUKA KERTAS SOALAN INI SEHINGGA DIBERITAHU

1. *Kertas soalan ini mengandungi 40 soalan*
2. *Jawab semua soalan*
3. *Jawab dengan menghitamkan ruangan yang betul pada kertas jawapan*
4. *Hitamkan satu ruangan sahaja bagi setiap soalan*
5. *Sekiranya anda hendak menukarkan jawapan, padamkan tanda yang telah dibuat. Kemudian hitamkan jawapan yang baru*

Kertas soalan ini mengandungi 15 halaman bercetak dan 1 halaman tidak bercetak

Arkeologi ialah kajian terhadap tinggalan artifak, ekofak, feature masyarakat lampau secara sistematik melalui proses X

1 Apakah proses X?

- A Pemantauan
- B Temuramah
- C Kaji selidik
- D Gali cari

- Memastikan kelangsungan bekalan makanan
- Membawa kepada corak kehidupan yang lebih sistematik

2 Maklumat di atas sesuai untuk menggambarkan

- A petempatan kekal
- B sistem pemerintahan
- C pengkhususan pekerjaan
- D kehidupan berorganisasi

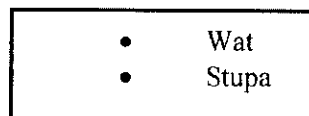
Hanya undang-undang dapat mewujudkan nilai baik dan ketertiban masyarakat

3 Falsafah China yang menekankan fahaman di atas ialah

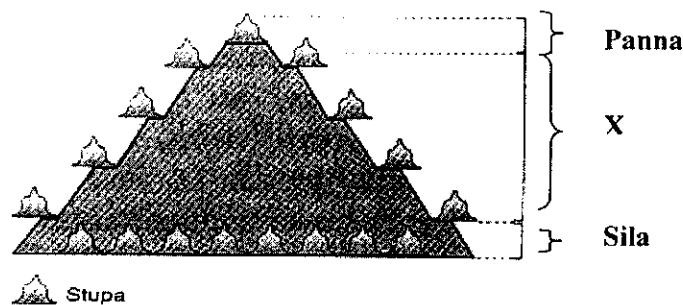
- A Lao Tze
- B Taoisme
- C Legalisme
- D Confucianisme



- 4 Rajah di atas merujuk perubahan jenis pelabuhan daripada X kepada Y di Asia Tenggara. Perubahan berlaku apabila wujud
- A pembentukan negeri
 - B peningkatan teknologi
 - C perkembangan pertanian
 - D pertukaran pucuk pimpinan



- 5 Senarai di atas merujuk
- A kitab Hindu-Buddha
 - B rumah ibadat
 - C nama dewa
 - D istana raja



- 6 Rajah menunjukkan keratan rentas stupa pada Candi Borobudur. Apakah X?
- A Mandapa
 - B Samadhi
 - C Vimana
 - D Phala

{Lihat sebelah

- 7 Antara pernyataan berikut yang manakah menerangkan maksud zaman Jahiliah di Semenanjung Tanah Arab?
- I Zaman pertembungan budaya Arab dan Barat
 - II Zaman kegelapan, kejahilan dan kebodohan
 - III Masyarakat tidak menerima kebenaran
 - IV Masyarakat hidup aman dan damai
- A I dan II
 - B I dan IV
 - C II dan III
 - D III dan IV

Amalan minum arak sehingga mabuk adalah biasa bagi lelaki pada Zaman Jahiliah

- 8 Merujuk pernyataan di atas, amalan tersebut menggambarkan
- A Kebebasan dan kejayaan
 - B Kekuatan fizikal seseorang
 - C Kesempurnaan sebagai lelaki
 - D Kehidupan golongan bangsawan
- 9 Mengapakah golongan bawahan merupakan golongan awal yang memeluk agama Islam ?
- A Keazaman mengubah taraf hidup
 - B Layanan yang adil dan saksama
 - C Sokongan dari pembesar Quraisy
 - D Peluang untuk membebaskan diri

10 Antara berikut yang manakah kepentingan Perjanjian Hudaibiyah?

- I Orang Islam bebas memasuki Makkah
 - II Orang Quraisy mengiktiraf kerajaan Madinah
 - III Tawaran jawatan terhadap Nabi Muhammad
 - IV Meningkatkan kerjasama dalam perdagangan
- A I dan II
 - B I dan IV
 - C II dan III
 - D III dan IV

11 Maksud khalifah dalam konteks agama Islam ialah

- I Menyebarkan agama Islam kepada orang ramai
 - II Mengamalkan pemerintahan bercorak republik
 - III Mengekalkan keharmonian umat Islam
 - IV Memelihara kemurnian agama Islam
- A I dan II
 - B I dan IV
 - C II dan III
 - D III dan IV

- Pihak Muawiyah mengangkat al-Quran
- Saidina Ali bin Abi Talib telah menghentikan peperangan

12 Maklumat di atas berkaitan dengan peperangan

- A Uhud
- B Siffin
- C Badar
- D Khandak

- 13 Antara berikut, yang manakah merupakan cara pertembungan tamadun Islam dengan tamadun lain di dunia?
- I Perkahwinan
 - II Hubungan diplomatik
 - III Perdagangan dan perniagaan
 - IV Pengabungan wilayah taklukan
- A I dan II
 - B I dan IV
 - C II dan III
 - D III dan IV

Bukti Islam di Asia Tenggara berasal dari Semenanjung Tanah Arab ialah persamaan bahan penulisan dan kesusasteraan Asia Tenggara dengan yang terdapat di Semenanjung Tanah Arab.

- 14 Pendapat tentang kedatangan Islam seperti di atas diutarakan oleh
- A S.Q. Fatimi
 - B John Crawford
 - C Emanuel Gadinho Eredia
 - D Syed Muhammad Naquib al-Attas

Institusi ekonomi seperti baitulmal telah diperkenalkan di Aceh oleh Iskandar Muda Mahkota Alam.

- 15 Antara berikut, yang manakah merupakan sumber-sumber baitulmal pada zaman tersebut ?
- I Cukai perniagaan
 - II Kutipan derma
 - III Zakat fitrah
 - IV Zakat harta
- A I dan II
 - B I dan IV
 - C II dan III
 - D III dan IV

- 16 Pendidikan tidak formal merupakan pendidikan awal yang berlaku dalam institusi keluarga. Ibu bapa mengajar anak-anak tentang hal-hal yang berhubung dengan
- I berpidato
 - II cara berkawan
 - III menjaga maruah
 - IV mempertahankan diri
- A I dan II
 - B II dan III
 - C III dan IV
 - D I dan IV

Persaingan antara pedagang Eropah dengan pedagang Islam telah mendorong orang Eropah untuk menjelajah ke Timur.

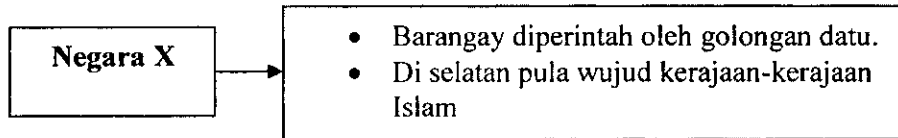
- 17 Apakah faktor yang boleh dikaitkan dengan penjelajahan Eropah?
- I Menyebarkan agama Kristian
 - II Menguasai perdagangan rempah
 - III Mendirikan sekolah-sekolah sains
 - IV Menyebarkan budaya Eropah ke timur
- A I dan II
 - B II dan III
 - C III dan IV
 - D I dan IV



- 18 Apakah sumbangan tokoh di atas dalam bidang pertanian?
- A Menghasilkan tanaman –tanaman baru
 - B Memperkenalkan penggunaan baja tiruan
 - C Memperbaiki sistem penggiliran tanaman
 - D Mencipta peralatan untuk menggali dan menugal

Pada abad ke-19 dan 20, sistem pengangkutan maritim merupakan sistem pengangkutan utama dalam perdagangan.

- 19 Perkhidmatan insurans yang berkaitan dengan maklumat di atas adalah
- A Insurans kemalangan
 - B Insurans kebakaran
 - C Insurans kelautan
 - D Insurans nyawa
- 20 Apakah agensi yang bertanggungjawab dalam aspek kesihatan di Tanah Melayu semenjak tahun 1911?
- A Institut Penyelidikan Perubatan
 - B Jabatan Kesihatan
 - C Pusat Kesihatan
 - D Sanitary Board



21 Pernyataan di atas adalah sistem pentadbiran tempatan sebelum penjajahan.

Negara X ialah

- A Indonesia
- B Vietnam
- C Filipina
- D Burma

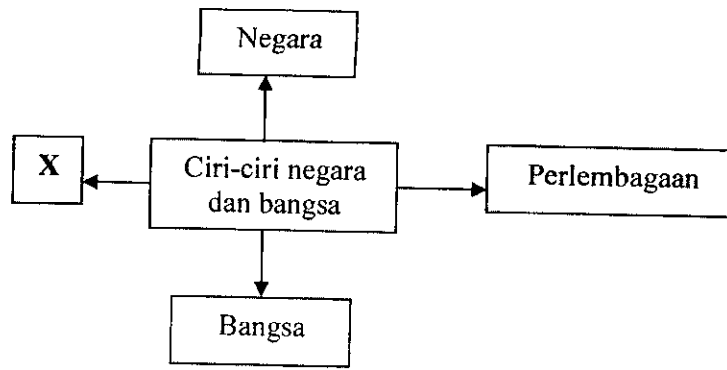
22 Antara berikut yang manakah berkaitan dengan dasar ekonomi Barat yang menindas penduduk peribumi di Asia Tenggara?

- I Sistem Tanaman Paksa
 - II Sistem Buruh Kontrak
 - III Sistem Hamba
 - IV Sistem Polo
- A I dan II
 - B II dan III
 - C III dan IV
 - D I dan IV

[Lihat sebelah

Nama sebenar Libau Berasal dari Hulu Skrang Digelar raja darat	Tokoh X
---	----------------

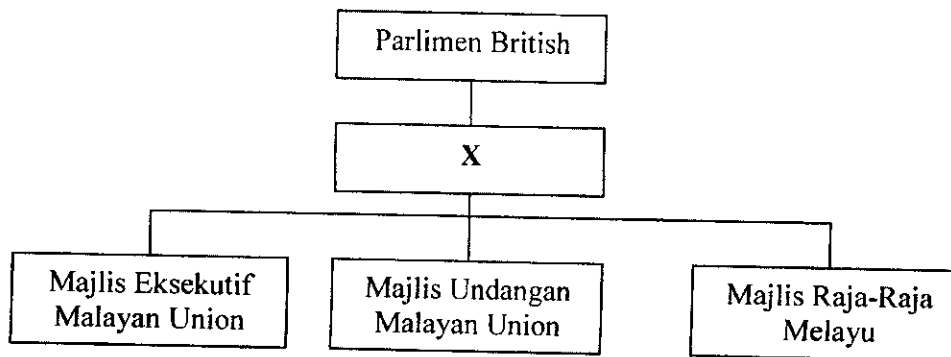
- 23 Tokoh X menentang James Brooke kerana
- A Mengganggu aktiviti perdagangan
 - B Mengenakan cukai yang tinggi
 - C Orang Iban dianggap lanun
 - D Ingin menguasai perdagangan
- 24 Apakah makna “Kawasan Kesemakmuran Asia”?
- A Kebebasan negara Asia
 - B Jepun akan memerintah Asia
 - C Asia akan bersatu dengan Jepun
 - D Kemerdekaan Asia di bawah pemerintahan Jepun.



25 Pembinaan negara dan bangsa berasaskan empat ciri utama.

Apakah **X**?

- A Parlimen
- B Perundangan
- C Kerajaan
- D Rakyat



26 Rajah di atas merujuk kepada sistem pentadbiran Malayan Union.

Apakah **X**?

- A Residen
- B Gabenor
- C Residen Jeneral
- D Gabenor Jeneral

All Malayan Council of Joint Action (AMCJA) dan *Pusat Tenaga Rakyat (PUTERA)* telah ditubuhkan pada tahun 1947 bagi menentang British dan UMNO

- 27 Apakah bentuk penentangan yang telah dilakukan oleh oleh pertubuhan di atas?
- A Berkongres
 - B Rapat umum
 - C Memorandum
 - D Ceramah politik

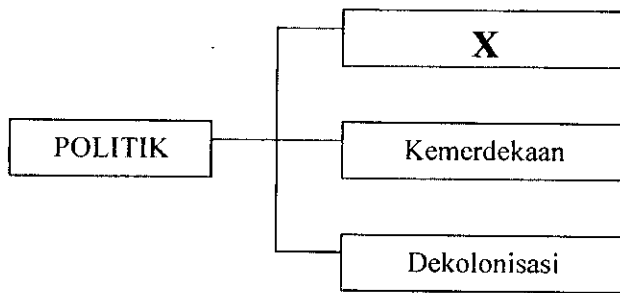
X

- Pelantikannya dibuat oleh Pesuruhjaya Tinggi British
- Terdiri daripada sembilan orang anggota
- Diletakkan di bawah Pesuruhjaya Tinggi British

- 28 Apakah X ?
- A Sistem Ahli
 - B Sistem kabinet
 - C Jawatankuasa Eksekutif
 - D Jawatankuasa Hubungan Antara Kaum

Kerakyatan Jus Soli

- 29 Prinsip kerakyatan tersebut tidak dapat diterima oleh orang Melayu kerana
- A boleh melemahkan kedudukan Raja-raja Melayu
 - B boleh melemahkan kedudukan orang Melayu
 - C Raja-raja Melayu tidak akan dilindungi
 - D orang Melayu tidak akan dilindungi




- 30 Rajah di atas menunjukkan salah satu faktor pembentukan Malaysia. Apakah X?
- A Kemajuan
 - B Kerjasama
 - C Keselamatan
 - D Kependudukan

Jawatankuasa Perunding Perpaduan Kaum (JPPK) Tahun 1961

- 31 Apakah tujuan penubuhan Jawatankuasa tersebut?
- A Mengadakan referendum di Sarawak dan Sabah
 - B Memperjuangkan hak peribumi Sarawak dan Sabah
 - C Membincangkan isu-isu penting pembentukan Malaysia
 - D Mengumpulkan pandangan rakyat Sarawak, Sabah dan Singapura
- 32 Apakah faktor yang menyebabkan sesuatu undang-undang tidak sah?
- A Bercanggah dengan Perlembagaan Malaysia
 - B Bercanggah dengan kehendak mahkamah
 - C Bercanggah dengan undang-undang sivil
 - D Tidak dipersetujui oleh Perdana Menteri

- 33 Mengapakah hak kerakyatan seseorang boleh dilucutkan?
- I Berkunjung ke luar negara melebihi satu tahun
 - II Mempunyai kerakyatan negara lain
 - III Tidak setia kepada negara
 - IV Dijatuhi hukuman mati
- A I dan II
 - B II dan III
 - C III dan IV
 - D I dan IV



- 34 Mengapakah bendera negara dikibarkan apabila mencapai sesuatu kejayaan?
- A Melambangkan kebanggaan terhadap negara
 - B Menunjukkan identiti sesebuah negara
 - C Mengekalkan tradisi sesebuah negara
 - D Menunjukkan negara yang diwakili
- 35 Apakah yang dilambangkan oleh bulan sabit berwarna kuning di perisai Jata Negara?
- A Hak istimewa orang Melayu
 - B Agama Islam sebagai agama rasmi
 - C Negeri-negeri Melayu Tidak Bersekutu
 - D Gabungan negeri-negeri dalam Malaysia
- 36 Apakah iktibar daripada peristiwa 13 Mei 1969?
- A Kepentingan ekonomi negara.
 - B Kepentingan ilmu pengetahuan
 - C Kepentingan perpaduan kaum
 - D Kepentingan perancangan yang teliti

- 37 Berikut ialah matlamat utama dasar ekonomi baru
- I untuk menyusun semula masyarakat
 - II untuk membantu golongan bumiputera
 - III untuk membangunkan kawasan luar bandar
 - IV untuk membasmi kemiskinan tanpa mengira kaum
- A I dan II
 - B II dan III
 - C III dan IV
 - D I dan IV
- 38 Bagaimana Dasar Penswastaan memberi sumbangan kepada pembangunan negara?
- A Membawa pelabur dari luar
 - B Meningkatkan semangat bekerja
 - C Meringankan beban kewangan kerajaan
 - D Menyelesaikan masalah kekurangan tenaga
- 39 “Blok Dunia” merujuk kepada
- A negara-negara maju
 - B negara-negara kapitalis
 - C negara-negara komunis
 - D negara-negara sehaluan
- 40 Bukti Malaysia berpegang teguh kepada prinsip PBB ke arah keamanan dunia ialah
- A menyertai setiap misi pengaman PBB.
 - B menyokong semua resolusi PBB ke arah keamanan dunia.
 - C menganjurkan semua persidangan tajaan PBB berkaitan keamanan
 - D membantu setiap negara anggota PBB yang dicerobohi oleh kuasa luar.

KERTAS SOALAN TAMAT