

SULIT
1249/2
Sejarah
Kertas 2
September
2011
2 ½ jam

Nama :

Tingkatan :



**MAJLIS PENGETUA SEKOLAH - SEKOLAH MALAYSIA (MPSM)
CAWANGAN KELANTAN**

**PEPERIKSAAN PERCUBAAN SPM
TINGKATAN LIMA
2011**

SEJARAH

KERTAS 2

Masa : 2 jam 30 minit

JANGAN BUKA KERTAS SOALAN INI SEHINGGA DIBERITAHU

1. Tulis nama dan angka giliran anda pada ruangan yang disediakan.
2. Kertas soalan ini mengandungi dua bahagian : **Bahagian A dan Bahagian B.**
3. Jawab **semua** soalan di **Bahagian A** dan **tiga** soalan daripada **Bahagian B**
4. Jawapan bagi **Bahagian A** hendaklah ditulis pada ruang yang disediakan dalam kertas soalan.
5. Jawapan bagi **Bahagian B** hendaklah ditulis pada kertas yang bekalkan oleh pengawas peperiksaan.
6. Ikat kertas jawapan bersama-sama dan serahkan kepada guru yang bertugas.
7. Markah yang diperuntukkan bagi setiap soalan atau ceraihan ditunjukkan dalam kurungan.

Untuk Kegunaan Pemeriksa			
Kod Pemeriksa			
Bahagian	Soalan	Markah Penuh	Markah Diperolehi
A	1	10	
	2	10	
	3	10	
	4	10	
B	5	20	
	6	20	
	7	20	
	8	20	
	9	20	
Jumlah		100	

Kertas soalan ini mengandungi 8 halaman bercetak.

1249/2

SULIT

[Lihat halaman sebelah

SEJARAH (2) TING 5 PERCUBAAN SPM 2011

Bahagian A
[40 markah]
Jawab semua soalan

- 1 Jadual merujuk kepada peristiwa yang berlaku pada zaman Nabi Muhamad s.a.w selepas Perjanjian Hudaibiyah.

Tarikh	Peristiwa
630 Masehi bersamaan 8 Hijrah	Pembukaan semula kota Makkah

- a) Nyatakan sebab pembukaan semula kota Makkah.

i
 ii

[2 markah]

- b) Jelaskan faktor yang membawa kejayaan kepada pembukaan semula kota Mekah.

i
 ii
 iii

[3 markah]

- c) Apakah kepentingan pembukaan semula kota Mekah kepada umat Islam?

i
 ii
 iii

[3 markah]

- d) Pada pendapat anda , mengapakah keamanan dan kesejahteraan negara perlu dikekalkan ?

i
 ii

[2 markah]

2. Jadual berikut berkaitan dengan undang-undang tanah yang diperkenalkan oleh British

Tahun	Undang-undang
1913	Akta Tanah Simpanan Melayu
1948	Land Order 1948

a) Nyatakan peraturan pemilikan tanah sebelum kedatangan British

i.

ii.

[2 markah]

b) Mengapakah British memperkenalkan peraturan tanah di Tanah Melayu ?

i.

ii.

[2 markah]

c) Nyatakan syarat yang terkandung dalam Akta Tanah Simpanan Melayu

i.

ii.

[2 markah]

d) Nyatakan dua jenis tanah dalam Land Order 1948 di Sarawak

i.

ii.

[2 markah]

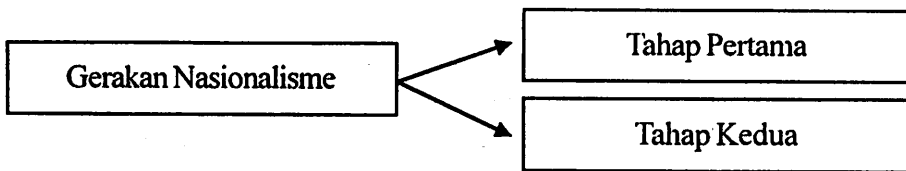
e) Sebagai seorang rakyat Malaysia, apakah pentingnya mempertahankan hak tanah yang kita miliki daripada terlepas ke tangan orang asing?

i.

ii.

[2 markah]

3 Rajah berikut berkaitan gerakan nasionalisme di Thailand



a) Mengapakah gerakan nasionalisme di Thailand berbeza daripada nasionalisme di negara-negara lain di Asia Tenggara ?

i

[1 markah]

b) Mengapakah berlaku gerakan nasionalisme tahap pertama di Thailand ?

i

ii

iii

[3 markah]

c) Jelaskan tindakan yang diambil oleh Phibul Songram untuk mengatasi masalah tidak puas hati rakyat semasa gerakan nasionalisme tahap kedua

i

ii

iii

[3 markah]

d) Berdasarkan pengetahuan sejarah anda , mengapakah Thailand berjaya mengekalkan kemerdekaannya?

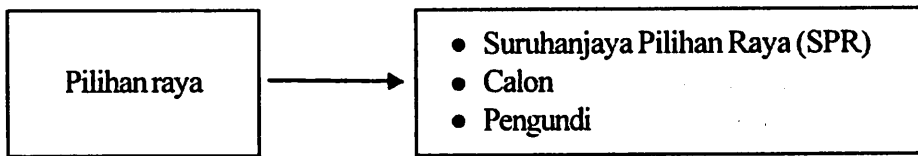
i

ii

iii

[3 markah]

4 Rajah berikut merujuk kepada pihak yang terlibat dalam pilihanraya di Malaysia



a) Nyatakan peranan Suruhanjaya Pilihan Raya dalam sistem demokrasi berparlimen di Malaysia.

- i
- ii

[2 markah]

b) Berikan dua syarat untuk menjadi calon dalam pilihan raya.

- i
- ii

[3 markah]

c) Apakah kelayakan untuk menjadi seorang pengundi dalam pilihanraya ?

- i
- ii
- iii

[2 markah]

d) Sebagai seorang warga negara , apakah tanggungjawab anda dalam sistem demokrasi berparlimen di negara kita?

- i
- ii
- iii

[3 markah]

Bahagian B
[60 markah]
Jawab tiga soalan sahaja

- 5 Jadual berikut menunjukkan sumbangan tamadun China dan India pada zaman peningkatan tamadun.

Tamadun	Bidang
China	Pertanian
India	Pendidikan

- a) Apakah kemajuan yang dicapai oleh tamadun China dalam bidang pertanian ?

[4 markah]

- b) Terangkan perkembangan sistem pendidikan pada Zaman Vedik dalam tamadun India

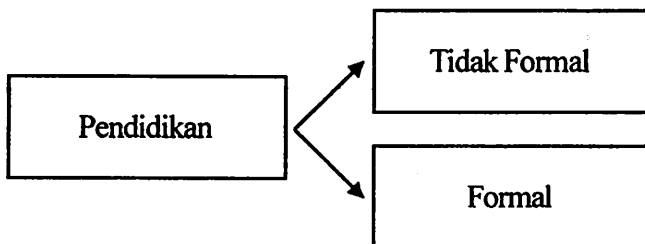
[10 markah]

- c) Pada pendapat anda , mengapakah bidang berikut penting bagi rakyat sesebuah negara ?

- i. Pendidikan
- ii. Pertanian

[6 markah]

6. Rajah berikut berkaitan dengan sistem pendidikan yang diamalkan oleh masyarakat Melayu tradisional di Tanah Melayu



- a) Bagaimanakah masyarakat Melayu tradisional melaksanakan pendidikan tidak formal?
[7 markah]
- b) Terangkan sistem pendidikan formal yang dilaksanakan dalam masyarakat Melayu tradisional
[8 markah]
- c) Andaikan anda seorang pemimpin negara, apakah langkah yang akan diambil untuk melahirkan masyarakat berilmu?
[5 markah]

7

- a) Mengapakah orang Melayu menentang Malayan Union?
[7 markah]
- b) Bagaimanakah cara orang Melayu menentang Malayan Union ?
[8 markah]
- c) Apakah iktibar yang boleh diambil dalam perjuangan orang Melayu menentang Malayan Union ?
[5 markah]

- 8 Jadual berikut berkaitan dengan perkembangan politik di negara kita selepas mencapai kemerdekaan.

Tarikh	Peristiwa
16 September 1963	Pembentukan Persekutuan Malaysia

- a) Jelaskan sebab-sebab pembentukan Malaysia pada tahun 1963.
[6 markah]
- b) Terangkan langkah-langkah yang telah dilaksanakan ke arah pembentukan Malaysia.
[10 markah]
- c) Berdasarkan pengetahuan sejarah anda, apakah kepentingan pembentukan Malaysia ?
[4 markah]

9

Perang Dunia Pertama merupakan konflik antarabangsa yang meninggalkan kesan besar terhadap sejarah dunia.

- a) Jelaskan faktor-faktor yang membawa kepada berlakunya Perang Dunia Pertama
[8 markah]
- b) Nyatakan enam kesan Perang Dunia Pertama
[6 markah]
- c) Sebagai seorang pemimpin yang berwawasan, apakah usaha yang boleh anda lakukan untuk mengelak berlakunya peperangan ?
[6 markah]