

1223/ 1
PENDIDIKAN ISLAM / P
KERTAS 1
SEPT 2011
2 jam

PENDIDIKAN ISLAM

KERTAS 1

Tingkatan 5

Dua jam

JANGAN BUKA KERTAS SOALAN INI SEHINGGA DIBERITAHU

1. *Kertas soalan ini mengandungi dua bahagian. Bahagian A dan Bahagian B*
2. *Bahagian A mengandungi 40 soalan. Jawapan anda hendaklah ditulis pada ruangan yang disediakan*
3. *Bahagian B mengandungi empat soalan subjektif. Jawab tiga soalan : Soalan 1 dan Soalan 2 dan mana-mana satu soalan berikutnya. Jawapan anda hendaklah ditulis dalam helaian tambahan yang disediakan.*
4. *Ceraikan kertas jawapan daripada kertas soalan. Ikat kertas jawapan bersama-sama helaian tambahan dan serahkan kepada pengawas peperiksaan pada akhir peperiksaan.*

Kertas soalan ini mengandungi 9 halaman bercetak .

Bahagian A
[40 markah]

Soalan 1 hingga soalan 20

Tiap-tiap soalan diikuti oleh empat pilihan jawapan A, B, C dan D. **Bulatkan jawapan yang tepat dalam lampiran kertas jawapan yang disediakan**

1 Maksud fasik ialah

- A Orang yang tidak beragama
- B Orang yang keluar daripada Islam
- C Orang yang menyekutukan Allah dengan sesuatu
- D Orang yang tidak taat kepada Allah dan rasulnya dengan melakukan dosa

X

- menghukum kafir selain dari penganutnya
- mendakwa Malaikat sebagai pancaindera Allah
- Menghapuskan jihad

2 X ialah ciri ajaran sesat

- A syiah
- B Bahai
- C Taslim
- D Qadyani

3

- Minda tertutup
- Masa terbuang
- Kehidupan tidak stabil

Pernyataan di atas merujuk kepada kesan buruk ajaran sesat terhadap

- A negara
- B individu
- C keluarga
- D masyarakat

4 Berikut adalah merupakan perbuatan yang boleh membawa kepada Kufur Hakikat kecuali

- A Enggan mengeluarkan zakat
- B Tidak mengakui balasan di akhirat
- C Menolak hukum yang terdapat dalam Al-Quran
- D Enggan berpuasa di bulan Ramadan kerana beranggapan ia akan melemahkan ekonomi

5 Hukuman bagi pezina Ghairi Muhsan (yang belum berkahwin) ialah

- A 40 kali sebatan
- B 80 kali sebatan
- C 100 kali sebatan
- D 120 kali sebatan

- 6 Antara yang berikut yang manakah syarat yang mengharuskan upah haji?
- A Tidak ada mahram bagi wanita untuk menemaninya
 - B Tidak mempunyai perbelanjaan yang mencukupi
 - C Tidak mempunyai kesempatan masa.
 - D Tidak mempunyai keupayaan fizikal
- 7 Antara yang berikut yang manakah merupakan syarat tawaf.?
- A Menjadikan Baitullah di sebelah kanan ketika tawaf.
 - B Dimulai dari Safa dan disudahi di Marwah
 - C Berada di Padang Arafah pada 9 Zulhijjah
 - D Dilakukan di dalam Masjidil Haram
- 8 Perkara makruh semasa sembelihan ialah
- A Mematahkan nyawa leher binatang sebelum nyawa hilang
 - B Menggunakan alat sembelihan yang tajam
 - C Melakukan sembelihan di siang hari
 - D Menghadap binatang ke arah kiblat
- 9 Berikut ialah unsur-unsur yang perlu dielakkan dalam pelaksanaan insurans **kecuall**
- A Riba'
 - B Riak
 - C Judi
 - D Gharar
- 10

Seorang suami bersumpah di hadapan hakim dengan lafaz "*aku bersaksi dengan nama Allah bahawa tuduhan zina terhadap isteriku adalah benar*"
- Lafaz di atas merujuk kepada
- A Nusyuz
 - B Khuluk
 - C Zihar
 - D Lian
- 11 Iddah bagi perempuan yang telah putus haid ialah
- A 3 bulan
 - B 3 kali suci
 - C 4 bulan 10 hari
 - D Tiada iddah

12

Seorang suami melafazkan "aku rujuk engkau selama tiga bulan"

Apakah hukum lafaz rujuk di atas?

- A Sah
- B Tidak sah
- C Wajib
- D Harus

13 Jenis talak dari aspek kesan ialah

- I Talak Bain
- II Talak Rajie
- III Talak Sunni
- IV Talak Bid'ie

- A I dan II
- B I dan IV
- C II dan III
- D III dan IV

14 Berapakah umur kambing yang sah dibuat korban?

- A 1 tahun atau lebih
- B $\frac{1}{2}$ tahun atau lebih
- C 2 tahun atau lebih
- D 5 tahun atau lebih

15 Zaman pemerintahan keturunan Marwan bin al-Hakam yang dikenali sebagai Zaman Kemajuan Bani Umayyah adalah berpusat di

- A Andalus
- B Damsyik
- C Baghdad
- D Madinah

16 Antara yang berikut manakah sumbangan Sayidina Abu Bakar As. Siddiq

- I Menyusun pentadbiran Majlis Syura
- II Menyumbang harta dan kekayaan untuk pertahanan negara
- III Membebaskan negeri-negeri di bawah pengaruh Rom dan Parsi
- IV Mendaulatkan Kerajaan Islam Madinah daripada ancaman golongan murtad

- A I dan II
- B I dan IV
- C III dan IV
- D II dan III

17

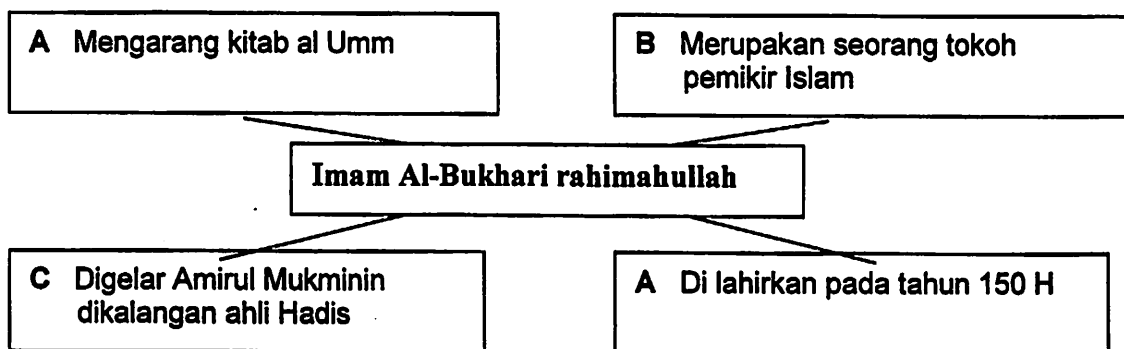
Harta yang diperoleh melalui jalan perdamaian setelah pihak musuh menyerah kalah

Pernyataan di atas merujuk kepada sumber kewangan kerajaan Abbasiyah iaitu

- A Fai
- B Usyur
- C Kharaj
- D Ghanimah

18

Berdasarkan carta di bawah, pernyataan yang manakah benar mengenai Imam Bukhari rahimahullah?



19

Antara yang berikut yang manakah kenyataan yang benar mengenai bukti Imam Ahmad bin Hanbal seorang yang banyak melakukan ibadah semasa hidupnya ?

- I Khatam al Quran sekali setiap bulan
- II Mengerjakan sembahyang pada setiap hari hingga 300 rakaat
- III Membaca 1/7 tujuh al-Quran pada tiap-tiap hari
- IV Ketika sakit mengerjakan solat 50 rakaat setiaphari

- A I dan II
- B I dan IV
- C II dan III
- D III dan IV

20

Sheikh Tahir Jalaluddin merupakan pengembang ilmu falak di Malaysia. Kemahiran dalam ilmu falak menyebabkan beliau di gelar

- A Hujjatul Islam
- B Al-Falaki
- C Al-Hakim
- D Al-Filsuf

Soalan 21 hingga soalan 40

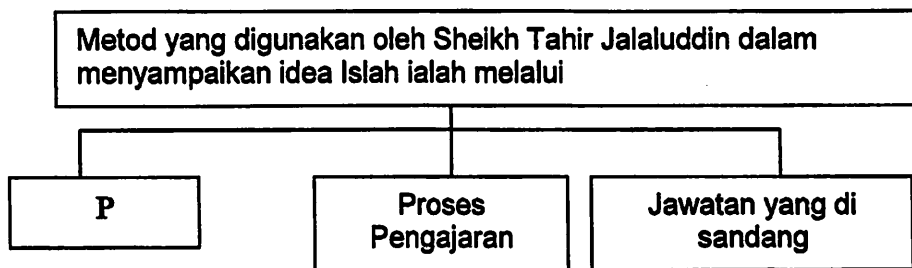
Isi tempat kosong dengan jawapan yang sesuai

- 21 Golongan Khawarij berpendapat bahawa pelaku dosa besar adalah _____
- 22 Melakukan perbuatan yang boleh memisahkan roh daripada jasad ialah pengertian bagi _____
- 23 Hukuman hudud bagi orang yang mencuri yang mencukupi kadar tertentu dan sabit kesalahannya ialah _____
- 24 Maksud istita'ah dalam ibadah haji ialah _____.
- 25 Mempercayai _____ yang boleh menahan sesuatu bahaya daripada berlaku boleh menyebabkan seseorang itu menjadi khurafat.
- 26 Kaum lelaki _____ memakai bau-bauan apabila hendak ke masjid.
- 27 Menziarahi jenazah dapat mengurangkan _____ keluarga jenazah yang kehilangan ahlinya.

- Pembuangan bahan-bahan buangan daripada kilang.
- Pembuangan sampah di merata tempat
- Penggunaan racun serangga yang berlebihan

- 28 Pernyataan di atas adalah merupakan faktor _____
- 29 Seseorang itu disunatkan bermusafir untuk _____
- 30 Imam Malik dianggap sebagai tokoh terkemuka dalam ilmu Fikah dan ilmu _____

Soalan 31 berdasarkan carta di bawah



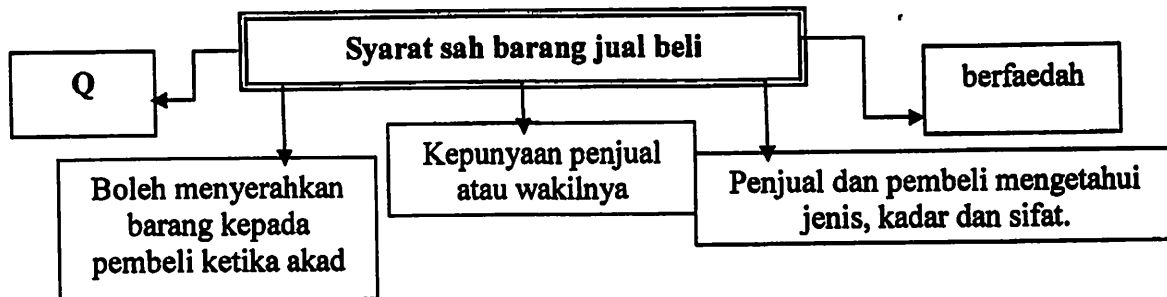
- 31 P dalam carta di atas ialah _____

Rasulullah telah meminta beliau menggantikan baginda menjadi imam solat ketika baginda sakit

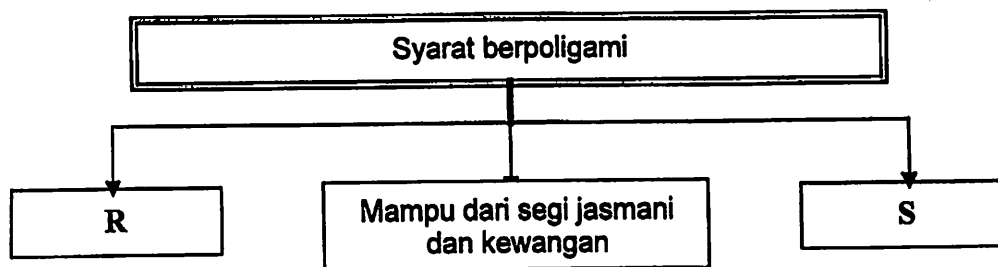
- 32 Pernyataan di atas merujuk kepada khalifah _____

33 Waktu melontar Jamratul Aqabah ialah selepas tengah malam _____ sehingga terbenam matahari 13 Zulhijjah.

Lengkapkan tempat kosong dengan jawapan yang sesuai



34 Q dalam rajah di atas ialah _____



35 R dalam rajah di atas ialah _____

36 S dalam rajah di atas ialah _____

37 Memberi nafkah, kesahatarafan atau penjagaan kanak-kanak adalah tertakluk di bawah bidang kuasa _____ Mahkamah Syariah.

38 Wukuf di Padang Arafah adalah termasuk dalam perkara _____ haji.

39 Hukum memakan daging korban nazar bagi orang yang bernazar ialah _____

40 Terbitan yang dikeluarkan oleh syarikat sebagai alat pemilikan adalah maksud bagi _____

Bahagian B
[60 markah]

Jawab tiga soalan sahaja dari bahagian ini

Soalan 1 dan soalan 2 wajib dijawab dan pilih satu sahaja daripada soalan 3 dan soalan 4

- 1 (a) Riddah merupakan salah satu daripada perkara yang membatalkan iman.
- (i) Apakah maksud riddah. [2 markah]
 - (ii) Jelaskan dua sebab berlakunya perbuatan riddah. [4 markah]
 - (iii) Terangkan dua akibat perbuatan riddah terhadap individu. [4 markah]
- (b) Syiah ialah golongan yang mendokong cita-cita untuk menjadikan Saidina Ali bin Abi Talib sebagai khalifah selepas kewafatan Rasulullah SAW.
- (i) Nyatakan dua daripada golongan syiah [2 markah]
 - (ii) Jelaskan pendapat pegangan Syiah Zaidiah mengenai pelaku dosa besar [2 markah]
 - (iii) Terangkan ciri Syiah Imamiah [2 markah]
- (c) Terangkan dua kesan buruk mengamalkan ajaran sesat kepada masyarakat. [4 markah]
- 2 (a) Miqat ialah sempadan masa atau tempat yang ditentukan untuk berniat ihram haji atau umrah.
- (i) Nyatakan dua miqat makani bagi jemaah haji Malaysia [2 markah]
 - (ii) Jelaskan miqat zamani yang berikut:
 - i- ibadah haji
 - ii- ibadah umrah [4 markah]
 - (iii) Nyatakan hukum dan alasan bagi masalah di bawah. [2 markah]
- Ketika menunaikan haji En. Muhammad yang menetap di Mekah telah berniat ihram di rumahnya sendiri.
- (b) Peranan saksi sangat penting semasa akad perkahwinan.
- (i) Nyatakan dua syarat saksi. [2 markah]
 - (ii) Jelaskan dua hikmah saksi dalam perkahwinan [4 markah]

- (c) (i) Apakah maksud gadaian ? [2 markah]
- (ii) Terangkan perbezaan antara sistem gadaian Islam dengan gadaian bukan Islam. [4 markah]
- 3 (a) (i) Jelaskan dua dasar pentadbiran Khulafa' ar-Rasyidin. [4 markah]
- (ii) Nyatakan dua sumber ekonomi pada zaman kerajaan Bani Umayyiah. [2 markah]
- (b) (i) Jelaskan bentuk Islah yang diperjuangkan oleh Sayyid Jamaluddin al-Afghani. [2 markah]
- (ii) Terangkan dua kesan idea Islah yang dibawa oleh Sayid Jamaluddin al-Afghani kepada Umat Islam. [4 markah]
- (c) Amar makruf nahi mungkar merupakan usaha dakwah yang sangat penting dalam menegakkan kestabilan dan keharmonian masyarakat.
- (i) Apakah maksud amar makruf nahi mungkar? [2 markah]
- (ii) Rakan anda telah bersikap biadap terhadap guru di sekolah anda.
- Jelaskan dua cara yang perlu anda lakukan untuk menangani perkara tersebut [4 markah]
- 4 (a) (i) Jelaskan keistimewaan Kota Baghdad dalam membantu perkembangan ekonomi kerajaan Abbasiyah. [2 markah]
- (ii) Jelaskan dua kesan pembangunan ekonomi Kerajaan Abbasiyah terhadap rakyat. [4 markah]
- (b) Imam Ghazali adalah salah seorang daripada tokoh pemikir Islam
- (i) Apakah sebab Imam Al-Ghazali diberikan gelaran Hujjatul Islam [2 markah]
- (ii) Jelaskan dua kesan sumbangan Imam Al-Ghazali terhadap tamadun Islam. [4 markah]
- (c) (i) Jelaskan dua punca berlakunya pencemaran bunyi. [4 markah]
- (ii) Terangkan dua langkah untuk mengatasi kerosakan alam. [4 markah]

KERTAS SOALAN TAMAT

NO. KAD PENGENALAN

					-			-				
--	--	--	--	--	---	--	--	---	--	--	--	--

ANGKA GILIRAN

--	--	--	--	--	--	--	--	--	--

- 1 (A) (B) (C) (D)
- 2 (A) (B) (C) (D)
- 3 (A) (B) (C) (D)
- 4 (A) (B) (C) (D)
- 5 (A) (B) (C) (D)
- 6 (A) (B) (C) (D)
- 7 (A) (B) (C) (D)
- 8 (A) (B) (C) (D)
- 9 (A) (B) (C) (D)
- 10 (A) (B) (C) (D)
- 11 (A) (B) (C) (D)
- 12 (A) (B) (C) (D)
- 13 (A) (B) (C) (D)
- 14 (A) (B) (C) (D)
- 15 (A) (B) (C) (D)
- 16 (A) (B) (C) (D)
- 17 (A) (B) (C) (D)
- 18 (A) (B) (C) (D)
- 19 (A) (B) (C) (D)
- 20 (A) (B) (C) (D)

- 21 _____
- 22 _____
- 23 _____
- 24 _____
- 25 _____
- 26 _____
- 27 _____
- 28 _____
- 29 _____
- 30 _____
- 31 _____
- 32 _____
- 33 _____
- 34 _____
- 35 _____
- 36 _____
- 37 _____
- 38 _____
- 39 _____
- 40 _____

A					
B	1	2	3	4	