

Tiap-tiap soalan diikuti dengan empat pilihan jawapan yang berhuruf A,B,C, dan D. Pilih **satu** jawapan terbaik bagi tiap-tiap soalan dan **hitamkan** ruangan yang sepadan pada kertas jawapan objektif anda.

1 Apakah yang boleh dikaitkan dengan cara hidup orang Zaman Paleolitik?

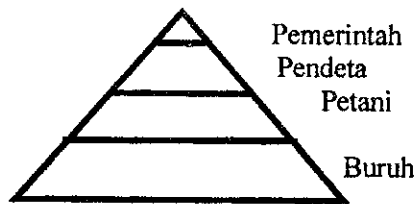
- A Bercucuk tanam
- B Hidup menetap
- C berpindah randah
- D Menternak binatang

Tamadun	Sistem Tulisan
Mesir	Hieroglif
Mesopotamia	Cuneiform
Hwang Ho	Ideogram

Tujuan **utama** sistem tulisan diperkenalkan dalam tamadun awal ialah

- I untuk penyimpanan rekod
- II untuk penulisan undang-undang
- III untuk hal-hal berkaitan keagamaan
- IV untuk dipahat pada tembok dan tiang besar

- A I, II dan III
- B I, II dan IV
- C I, III dan IV
- D II, III dan IV



Organisasi sosial dalam Tamadun Indus

Apakah fungsi golongan buruh dalam Tamadun India?

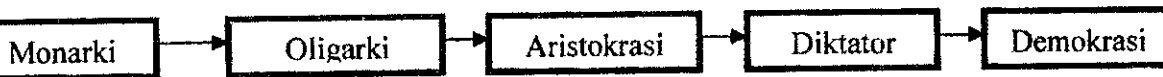
- A Menjadi pengawal istana
- B Mencipta alatan perang
- C Menjadi korban dalam upacara penyembahan
- D Menjaga kebersihan bandar

Tamadun Mesir Purba telah mengiktiraf wanita sebagai pemimpin. Pada Zaman Empayar seorang wanita telah dilantik menjadi firaun iaitu Firaun Hatsepsut(1501-1479 S.M)

4 Apakah sumbangan Firaun Hatsepsut dalam membangunkan Tamadun Mesir ?

- A Membentuk kanun undang-undang
- B Membina terusan
- C Menubuhkan sistem ketenteraan
- D Membina sebuah empayar

Dapatkan Skema jawapan di www.banksoananspm.com



5 Implikasi daripada pelbagai bentuk pemerintahan dalam Tamadun Yunani menunjukkan bahawa

- A orang Yunani sentiasa ingin mencuba sistem politik yang berbeza
- B orang Yunani mahukan supaya kuasa raja dapat dikongsi dengan bangsawan
- C orang Yunani sentiasa berusaha meningkatkan aspek pentadbiran
- D orang Yunani mahu supaya generasi akan datang mewarisi sistem tersebut

Kesan daripada pemberontakan masyarakat Latin yang dipimpin oleh golongan Bangsawan telah menyebabkan Rom mengasaskan sistem pemerintahan berbentuk

- A Republik
- B Demokrasi
- C Diktator
- D Monarki

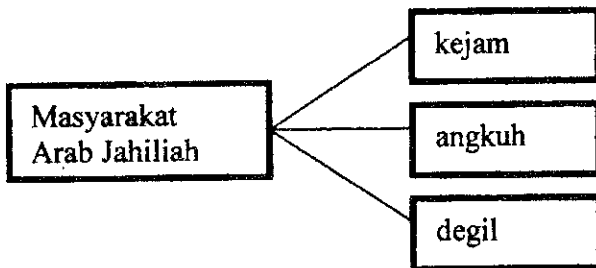
Ajaran yang ditekankan oleh Confucius ialah

- A undang-undang yang tegas sahaja dapat mengawal tingkah laku manusia
- B manusia tidak harus bertindak terhadap apa-apa yang berlaku
- C rakyat harus patuh dan taat kepada raja
- D raja harus mempunyai pekerti yang baik

Pertandingan Olimpik bermula pada tahun 776 S.M. Bagi menghormati upacara Olimpik semua negara kota dalam Tamadun Yunani bersetuju menghentikan semua peperangan sehingga pertandingan Olimpik selesai.

- 8 Mengapakah pertandingan Olimpik dianggap penting dalam Tamadun Yunani?
- A Membolehkan negara kota berdamai
 - B Memperingati Tuhan Zeus
 - C Berusaha untuk melahirkan atlit yang handal
 - D Bersaing untuk menjadi negara kota yang paling kuat
- 9 Apakah bukti yang menunjukkan adanya hubungan perdagangan antara Asia Tenggara dengan Rom?
- A Penemuan gendang gangsa Dongson
 - B Penemuan artifak manik
 - C Penemuan cop mohor
 - D Penemuan mata wang logam
- 10 Lokasi kerajaan maritim terletak di kawasan
- I lereng gunung berapi
 - II pedalaman
 - III kepulauan
 - IV pesisir pantai
- A I dan II
 - B II dan III
 - C III dan IV
 - D I dan IV
- 11 Apakah faktor **utama** yang membolehkan Kerajaan Angkor muncul sebagai sebuah kerajaan agraria yang kuat ?
- A Mempunyai bala tentera yang besar
 - B Mempunyai sistem pemerintahan yang cekap
 - C Mempunyai pelabuhan yang maju
 - D Mempunyai Tasik Tonle Sap

- 12 Candi Borobudur terbahagi kepada tiga tingkat. Tingkat pertama menjelaskan tentang
- A Empat Kebenaran Mulia
 - B tahap kehidupan manusia
 - C kehidupan Gautama Buddha
 - D pencapaian nirvana
- 13 Apakah kesan daripada peristiwa pecahnya Empangan Maarib pada tahun 300 M?
- A Turunnya wahyu pertama
 - B Bermulanya Zaman Jahiliah
 - C Berakhirnya Zaman Jahiliah
 - D Bermulanya penghijrahan umat Islam Makkah



- 14 Kesimpulan yang boleh dibuat berdasarkan rajah di atas ialah
- A masyarakat Arab Jahiliah berakhlak rendah
 - B masyarakat Arab Jahiliah mementingkan diri sendiri
 - C masyarakat Jahiliah mundur
 - D masyarakat Arab Jahiliah tidak bermoral

Surah al Muddasir ayat 1-7

- 15 Apakah kepentingan surah di atas ?
- A Pengisytiharan Nabi Muhammad S.A.W sebagai Rasulullah
 - B Perintah Allah supaya mengajar manusia membaca
 - C Perintah Allah supaya Nabi Muhammad S.A.W berhijrah
 - D Wahyu pertama yang diturunkan oleh Allah

SULIT

16 Mengapakah masyarakat Arab Quraisy menentang ajaran Islam yang dibawa oleh Nabi Muhammad s.a.w ?

- I Paksaan supaya mereka memeluk Islam
- II Prinsip persamaan taraf sesama manusia
- III Perbezaan dari segi kepercayaan dan amalan
- IV Tanggapan yang salah terhadap tugas nabi

- A I, II dan III
- B I, II dan IV
- C I, III dan IV
- D II, III dan IV

- Abu Bakar as- Siddiq
- Ali bin Abi Talib
- Abdul Rahman bin Auf

17 Apakah persamaan tokoh-tokoh di atas?

- A Menyediakan tempat tinggal untuk Nabi Muhammad s.a.w
- B Merupakan sahabat yang pertama memeluk Islam
- C Memberikan bantuan dalam peristiwa hijrah
- D Merupakan golongan yang dikenali sebagai Ansar

18 Mengapakah Maal Hijrah disambut setiap tahun di Malaysia?

- A Untuk memperingati turunnya wahyu pertama
- B Untuk memperingati kelahiran Nabi Muhammad s.a.w
- C Untuk memperingati pembukaan semula Kota Makkah
- D Untuk memperingati perjuangan umat Islam menegakkan Islam

19 Peperangan dalam Islam bertujuan

- I mempertahankan maruah diri
- II mempertahankan agama
- III menyebarkan agama Islam
- IV menguji kekuatan tentera musuh

- A I dan II
- B II dan III
- C III dan IV
- D I dan IV

- 20 Mengapakah Nabi Muhammad s.a.w bersetuju untuk membawa umat Islam ke Makkah pada tahun 628 M ?
- Menyebarkan agama Islam
 - Mengerjakan umrah
 - Menawan semula kota Makkah
 - Membuat perjanjian dengan Arab Quraisy
- 21 Mengapakah Khalifah Umar al-Khattab memisahkan Jabatan Kehakiman daripada jabatan lain?
- Hakim diberi gaji yang tinggi
 - Mengelakkan salah laku oleh hakim
 - Terlalu ramai hakim dalam jabatan kehakiman
 - Membezakan daripada pegawai kerajaan yang lain.
- 22 Bagaimanakah dasar sosial Islam telah menarik minat orang Kristian untuk memeluk Islam?
- Berasaskan kekayaan individu
 - Berasaskan keturunan individu.
 - Berasaskan kehandalan individu
 - Berdasarkan kecemerlangan individu
- Bertutur dalam bahasa Arab
 - Berpakaian seperti orang Islam
- 23 Siapakah yang telah mempengaruhi orang bukan Islam di Sepanyol mengamalkan cara hidup orang Islam?
- Golongan Mudejar
 - Golongan Mawali
 - Golongan Mozarab
 - Golongan Khawarij

- 24 Mengapakah kerajaan Turki Uthmaniyah berjaya menguasai sebahagian besar daripada benua Eropah?
- A Tiada persaingan luar
 - B Bilangan tentera yang ramai
 - C Semangat jihad yang tinggi
 - D Sokongan negara Islam yang lain

- | |
|--|
| <ul style="list-style-type: none"> ▪ John Crawford ▪ S.Q. Fatimi ▪ Snouck Hurgronje |
|--|

- 25 Apakah teori yang dikemukakan oleh tokoh-tokoh di atas ?
- A Kedatangan Islam di China
 - B Kedatangan Islam ke Asia Tenggara.
 - C Penghijrahan orang Islam ke Madinah
 - D Petempatan Islam di Kepulauan Melayu
- 26 Apakah kesan kedatangan Islam terhadap kehidupan masyarakat di Asia Tenggara ?
- I Adat Istiadat lama dihapuskan
 - II Kemunculan institusi kesultanan
 - III Terbentuknya institusi sekolah pondok.
 - IV Bahasa Arab menjadi bahasa pengantar.
- A I dan II
 - B II dan III
 - C III dan IV
 - D I dan IV
- 27 Undang-undang syariah ialah undang-undang
- A yang diasaskan oleh raja yang memeluk agama islam
 - B yang digubal oleh pedagang Islam
 - C adat negara Islam
 - D berdasarkan Al-Quran dan Sunnah

28 Unsur seni khat Islam sering digunakan pada

- I batu nisan
- II bangunan masjid
- III bilah mata keris
- IV istana

- A I, II dan III
- B I, II dan IV
- C I, III dan IV
- D II, III dan IV

Sistem pendidikan formal yang lebih teratur ialah pendidikan pondok

Perkataan pondok berasal daripada bahasa

- A Arab
- B Aceh
- C Brunei
- D Sumatera

- Ditarikan oleh 22 orang penari mengikut pukulan rebana.
- Menyanjunggi unsur kepahlawanan Saiyidina Ali

Apakah nama tarian yang dimaksudkan ?

- A Tarian Asyik
- B Tarian Dabus
- C Tarian Rodat
- D Tarian Mak Inang

Apakah yang tertera pada mata wang Johor?

- I Nama Sultan
- II Gelaran Islam Sultan
- III Pangkat Sultan
- IV Umur Sultan

SULIT

- A I, II, dan III
- B I, II dan IV
- C I, III dan IV
- D II, III dan IV

Sebelum tulisan **jawi** diperkenalkan di Tanah Melayu, beberapa tulisan lain telah digunakan oleh masyarakat setempat

32. Antara yang berikut yang manakah tulisan tersebut?

- I Kawi
 - II Nasakh
 - III Pallava
 - IV Rencong
- A I, II, dan III
 - B I, II, dan IV
 - C I, III dan IV
 - D II, III dan IV

33. Mengapakah pada peringkat awal zaman Pertengahan dianggap sebagai Zaman Gelap?

- A Tidak mempunyai nabi dan rasul
- B Melakukan perbuatan tidak bermoral
- C Hidup tanpa ada bekalan elektrik
- D Kemerostan dalam bidang perdagangan.

34. Mengapakah Francesco Petrarch dianggap bapa Humanisme?

- A Menonjolkan pemikiran yang logik bagi menyelesaikan masalah
- B Menonjolkan pemikiran saintifik dalam menyelesaikan masalah.
- C Menonjolkan keupayaan manusia berfikir untuk menyelesaikan masalah
- D Menonjolkan pemikiran metafizik dalam menyelesaikan masalah.

- Lord Townshend
- Thomas William Coke

- 35 Apakah persamaan tokoh-tokoh tersebut?
- A Akta Pemagaran Tanah
 - B Sistem penggiliran tanaman
 - C Memperkenalkan alat membajak tanah
 - D Mencipta mesin untuk industri tekstil.
- 36 Apakah sumbangan Revolusi Pertanian kepada revolusi Perindustrian di Britain pada abad ke 18 di Eropah?
- I Memberi khidmat nasihat
 - II Mencipta peralatan moden
 - III Menyediakan sumber modal
 - IV Membekalkan bahan makanan
- A I dan II
 - B I dan III
 - C III dan IV
 - D I dan IV
- 37 Mengapakah Akta Tanah Simpanan Melayu diperkenalkan pada tahun 1913?
- A Membolehkan orang melayu menanam tanaman komersial
 - B Melindungi orang Melayu daripada penindasan penjual tanah
 - C Mengelakkan tanah orang Melayu berpindah ke Negara asing
 - D Mempastikan tanha dibahagikan secara adil

Kebanyakan orang Melayu terdiri daripada pekebun kecil pada era penjajahan British.

- 38 Apakah tindakan British untuk memastikan orang-orang Melayu kekal sebagai pekebun kecil ?
- I Memperkenalkan Enakmen Tanah Padi 1917
 - II Menaikkan premium permohonan tanah baru
 - III Memperkenalkan Rancangan Sekatan Stevenson
 - IV Melarang pembukaan tanah baru untuk tujuan penanaman getah
- A I, II, dan III
 - B I, II dan IV
 - C I, III dan IV
 - D II, III, dan IV
- 39 Apakah tujuan utama penubuhan Hospital Tung Shin di Kuala Lumpur?
- A Mengawal wabak penyakit
 - B Membantu klinik luar bandar
 - C Membuat penyelidikan tentang penyakit berjangkit
 - D Memberi khidmat khas kepada pelombong
- 40 Apakah yang dimaksudkan dengan sistem pendidikan vernakular?
- A Menggunakan bahasa ibunda sebagai bahasa pengantar
 - B Menggunakan bahasa Inggeris sebagai bahasa Inggeris
 - C Mewajibkan kanak-kanak berumur 7 tahun ke sekolah
 - D Mewajibkan guru-guru diambil dari Tanah Melayu

KERTAS SOALAN TAMAT