

SULIT
1249/1
Sejarah
2007
1 jam



1249/1

**PERSIDANGAN KEBANGSAAN PENGETUA
SEKOLAH MENENGAH MALAYSIA (CAWANGAN MELAKA)**

**PEPERIKSAAN PERCUBAAN SIJIL PELAJARAN MALAYSIA
TAHUN 2007**

SEJARAH

Kertas 1

Satu jam

JANGAN BUKA KERTAS SOALAN INI SEHINGGA DIBERITAHU

1. **Kertas soalan ini mengandungi 40 soalan**
2. **Jawab semua soalan**

Kertas soalan ini mengandungi 20 halaman bercetak

(Lihat sebelah)

SULIT
1249/1
Sejarah
2007
1 jam



1249/1

**PERSIDANGAN KEBANGSAAN PENGETUA
SEKOLAH MENENGAH MALAYSIA (CAWANGAN MELAKA)**

**PEPERIKSAAN PERCUBAAN SIJIL PELAJARAN MALAYSIA
TAHUN 2007**

SEJARAH

Kertas 1

Satu jam

JANGAN BUKA KERTAS SOALAN INI SEHINGGA DIBERITAHU

1. **Kertas soalan ini mengandungi 40 soalan**
2. **Jawab semua soalan**

Kertas soalan ini mengandungi 20 halaman bercetak

(Lihat sebelah)

Tokoh	Bidang
Archimedes	Matematik dan Fizik

3. Jadual di atas menunjukkan salah seorang ahli sains yang terkenal dalam tamadun Yunani.

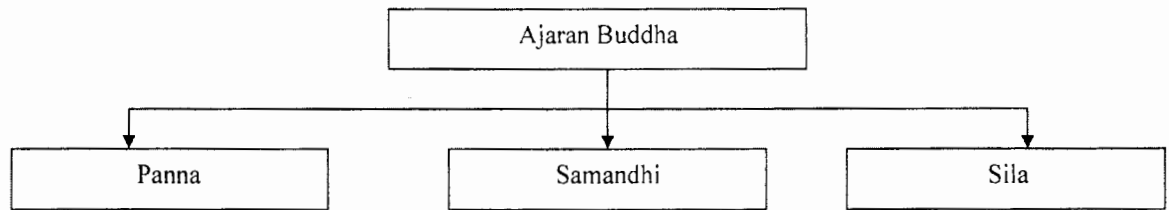
Teori apakah yang telah dikemukakan oleh beliau?

- A. Isipadu graviti
- B. Teorem Pythagoras
- C. Konsep geometri
- D. Sistem nombor

- | |
|--|
| <ul style="list-style-type: none">• Perikemanusiaan• Kesusilaan• Ketaatan kepada ibu bapa |
|--|

4. Senarai di atas merupakan prinsip moral yang tinggi dalam ajaran Confucianisme. Bagaimanakah seseorang penganut Confucianisme dapat mencapai ketinggian moral tersebut?

- A. Amalan kehidupan
- B. Pengamatan pancaindera
- C. Pendidikan diperolehi
- D. Tanggungjawab sosial



5. Rajah di atas menunjukkan aspek-aspek yang terdapat dalam ajaran Buddha. Antara berikut, yang manakah mempunyai kaitan dengan aspek-aspek tersebut?
- Tujuh Jalan Kebenaran
 - Lapan Jalan Kebenaran
 - Sembilan Jalan Kebenaran
 - Sepuluh Jalan Kebenaran

**Upacara Angkat Sumpah di
Srivijaya**

- Datu akan meminum air yang disiram pada batu bersurat.
- Air dikumpulkan di bahagian bawah batu bersurat supaya dapat di minum

6. Maklumat di atas merupakan upacara mengangkat sumpah bagi setiap orang yang dilantik menjadi datu di Srivijaya. Mengapakah datu dikehendaki meminum air tersebut?
- Mengelakkan daripada berlaku bencana
 - Memberikan taat setia kepada raja
 - Amalan tradisi yang melambangkan status
 - Adat untuk keberkatan kerajaan

Terdapat di kalangan orang-orang Jahilliah yang menanam anak-anak perempuan yang lahir hidup-hidup sejurus selepas dilahirkan.

7. Situasi di atas berlaku di Zaman Jahilliah.
Mengapakah nasib anak-anak perempuan begitu tragis pada zaman tersebut ?
- A. Meratapi kesakitan bersalin
 - B. Menjatuhkan maruah keluarga
 - C. Memberi kesusahan memelihara
 - D. Mendatangkan bencana pada penduduk

Perkara	Peperangan al Basus
Jangkamasa	40 tahun
Pihak terlibat	Bani Taghlib dengan Bani Bakar

8. Maklumat di atas berkaitan dengan salah satu peperangan yang berlaku di zaman Jahilliah.
Apakah faktor yang menyebabkan masyarakat Jahilliah suka berperang
- A. Pembelaan kebaikan
 - B. Desakan ekonomi
 - C. Mendapat nama
 - D. Fanatik kesukuan

Kandungan perjanjian

- *Suku Aus dan Khazraj memeluk Islam dan mengukuhkan taat setia kepada Nabi Muhammad s.a.w.*
- *Menjemput Nabi Muhammad s.a.w. dan orang Islam berhijrah ke Madinah*
- *Sukarela menyediakan tempat tinggal dan menjanjikan keselamatan*

9. Maklumat di atas merupakan isi kandungan perjanjian Aqabah 2 yang dimeterai antara Nabi Muhammad s.a.w. dengan orang Arab Madinah.

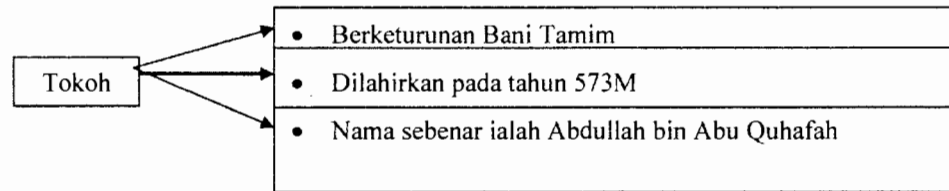
Mengapa Nabi Muhammad s.a.w menandatangani perjanjian tersebut?

- A. Desakan pengikut setia
- B. Ancaman Quraisy Makkah
- C. Wujud perpaduan suku
- D. Jaminan kesenangan

Tiada diskriminasi untuk memperolehi peluang ekonomi.

10. Piagam Madinah memperuntukkan perkara di atas dalam bidang ekonomi. Bagaimanakah peruntukan di atas boleh dicapai ?

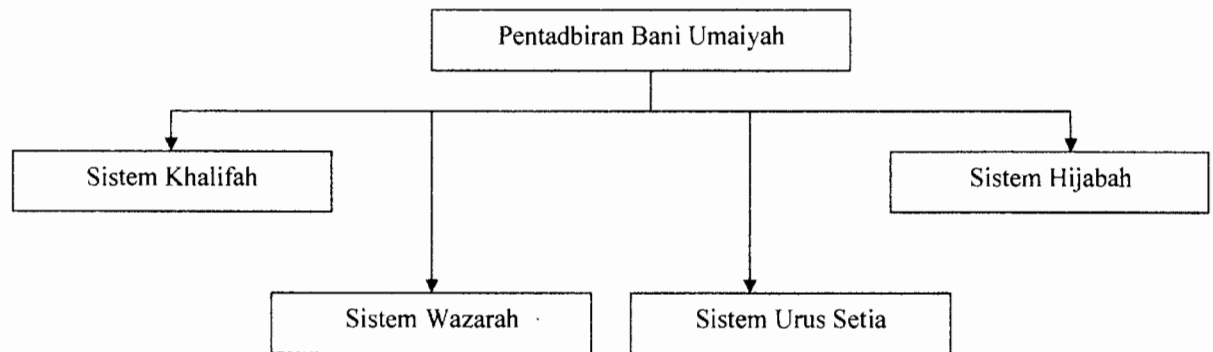
- A. Mementingkan jualan
- B. Bersaing merebut pasaran
- C. Unsur riba dihapuskan
- D. Mengutamakan syarikat kerjasama



11. Tokoh di atas merupakan Khalifah al-Rasyidin yang pertama.

Mengapakah beliau lebih dikenali sebagai al-Siddiq?

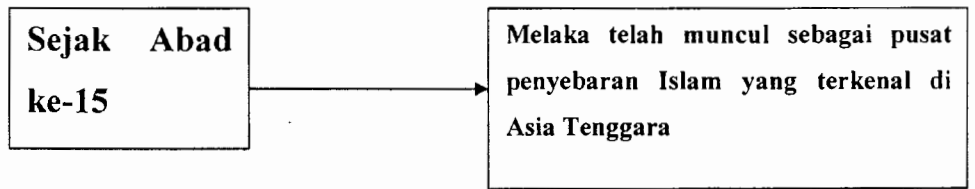
- A. Meyakini kebenaran kata-kata Nabi Muhammad s.a.w.
- B. Menyokong tindak-tanduk Nabi Muhammad s.a.w.
- C. Mengatasi masalah perpecahan masyarakat Islam
- D. Mempertahankan Madinah daripada ancaman luar



12. Carta di atas menunjukkan empat sistem utama pentadbiran dalam kerajaan Bani Umayyah

Apakah tugas pegawai yang dilantik melalui sistem hijabah?

- I. Pemegang amanah
 - II. Ketua pentadbiran wilayah
 - III. Mengawal keselamatan khalifah
 - IV. Memeriksa orang yang menemui khalifah
- A. I, II dan III
 - B. I, II dan IV
 - C. I, III dan IV
 - D. II, III dan IV



13. Siapakah tokoh yang memainkan peranan penting menjadikan Melaka sebagai pusat penyebaran Islam?
- A. Sultan Mansur Syah
 - B. Bendahara Tun Perak
 - C. Bendahara Tun Mahmud
 - D. Sultan Iskandar Zulkarnain

• Batu Nisan	• Prasasti
--------------	------------


14. Kedatangan Islam ke Champa telah dibuktikan dengan penemuan di atas. Apakah catatan yang terdapat pada prasasti tersebut?
- A. Syarat pembayaran cukai dan hutang
 - B. Syarat ketetapan perjanjian perdagangan
 - C. Perjalanan keagamaan Pu Ali ke China
 - D. Pengislaman pemimpin dan rakyat Champa

• Pertabalan	• Pemakaman
• Perkahwinan	• Penganugerahan pingat

15. Adat istiadat di atas diwujudkan untuk mengukuhkan daulat dalam institusi kesultanan.

Mengapa daulat penting kepada seseorang Sultan

- A. Tingkat penghormatan rakyat
- B. Memelihara budaya bangsa
- C. Memenuhi tuntutan keagamaan
- D. Tahap jaminan keselamatan



16. Maklumat di atas berkaitan dengan sistem pendidikan yang terdapat dalam masyarakat Melayu Tradisional.

Apakah kaedah pembelajaran yang digunakan dalam pendidikan tidak formal?

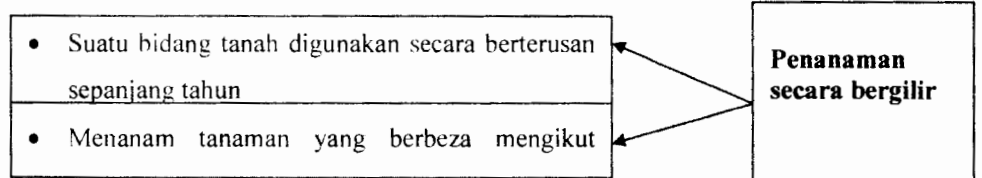
- I. Pendengaran
 - II. Penglihatan
 - III. Pemerhatian
 - IV. Penulisan
- A. I, II dan III
 - B. I, II dan IV
 - C. I, III dan IV
 - D. II, III dan IV

Negara	Kawasan
Portugal	Kawasan ke Timur dari Kepulauan Tanjung Verde dan Hindia Barat di Lautan Atlantik
Sepanyol	Kawasan ke Barat dari Kepulauan Tanjung Verde dan Hindia Barat di Lautan Atlantik

17. Jadual di atas menunjukkan kawasan pengaruh Portugal dan Sepanyol setelah menandatangani perjanjian Tordesillas pada tahun 1494.

Mengapakah perjanjian tersebut ditandatangani?

- A. Menetapkan kawasan pengaruh
- B. Mengawal berlaku pepecahan agama
- C. Memudahkan urusan penguasaan hamba
- D. Menjamin kuasa Paus di Rom



18. Maklumat di atas adalah berkaitan dengan kaedah penanaman yang telah dihasilkan oleh Lord Townshend semasa Revolusi Pertanian di Eropah.

Apakah keistimewaan kaedah tersebut?

- A. Penanaman kekal jangka panjang
- B. Penghasilan tanaman bermusim pendek
- C. Pengenalatan tanaman secara pukal
- D. Penggunaan tanah yang optimum

Long Jaafar	Ngah Ibrahim	Datuk Kelana Putera
-------------	--------------	---------------------

Senarai di atas merupakan tokoh-tokoh yang terlibat dalam perlombongan bijih timah di Tanah Melayu

19. Apakah peranan tokoh-tokoh di atas terhadap masyarakat setempat ?
- Melatih teknik pam kelikir
 - Mengecualikan cukai
 - Memberi bantuan modal
 - Membuka peluang pekerjaan
20. Akta Tanah Simpanan Melayu telah diluluskan oleh Majlis Mesyuarat Persekutuan pada November 1913.
Apakah kebaikan akta ini pada kerajaan penjajah?
- Memperluaskan tanah jajahan
 - Melindungi kepentingan ekonomi
 - Memperolehi tanah milik orang Melayu
 - Melindungi rakyat British di Tanah Melayu

- | |
|---|
| <ul style="list-style-type: none"> • <i>Habis Gelap Terbitlah Terang</i> • <i>Penulisan Seorang Puteri Jawa</i> |
|---|

21. Karya di atas telah dihasilkan oleh Raden Adjeng Kartini.
Antara berikut, yang manakah merupakan kandungan dalam hasil karya tersebut?
- Kemunduran rakyat Indonesia
 - Perlaksanaan sistem pendidikan Belanda
 - Kisah pejuang-pejuang Indonesia
 - Penindasan oleh penjajah Belanda
- I dan II
 - II dan III
 - III dan IV
 - I dan IV

Perkara	Revolusi Thai
Tahun	1932

22. Parti Rakyat telah melancarkan Revolusi di atas di Thailand.

Apakah kesan daripada revolusi tersebut kepada Thailand.?

- A. Menamatkan sistem raja berkuasa mutlak
- B. Penglibatan penduduk peribumi dalam politik
- C. Perkembangan sistem pendidikan Barat
- D. Menyekat kebebasan pedagang asing

Warta Malaya	Lembaga Malaya	Majlis	Utusan Melayu
---------------------	-----------------------	---------------	----------------------

23. Akhbar-akhbar di atas telah membangkitkan beberapa isu untuk menyedarkan masyarakat Tanah Melayu.

Antara berikut, yang manakah isu-isu yang dibangkitkan dalam aspek politik?

- I. Menolak dasar pilih kasih British
 - II. Menentang tuntutan orang dagang
 - III. Menuntut diadakan Malay Administrative Service
 - IV. Meminta British mengadakan kampung khas Melayu
- A. I, II dan III
 - B. I, II dan IV
 - C. I, III dan IV
 - D. II, III dan IV

Pak Abu : Jepun pun sama penjajah orang putih sebelum ini. Semua menekan kita dan bertindak kejam.

Pak Yusof : Saya sekeluarga merasa tertekan menghadapi kehidupan seharian

24. Dialog di atas mungkin dituturkan oleh penduduk tempatan semasa pendudukan Jepun di Tanah Melayu

Mengapa penduduk tertekan semasa pemerintahan Jepun ?

- A. Penyekatan keagamaan rakyat
- B. Pemerintahan awam berleluasa
- C. Penurunan kuasa veto penyokong
- D. Perlaksanaan dasar ketenteraan

Hasil karya	Penulis
Sulalatus Salatin	Tun Seri Lanang

25. Hasil karya di atas merupakan dokumen histografi Melayu yang penting.

Apakah kandungan utama hasil karya tersebut?

- A. Perundangan keluarga Melayu
- B. Kedatangan agama Islam
- C. Kedudukan rakyat
- D. Peraturan kenegaraan negara.

Undang-undang Tubuh Kerajaan Terengganu

26. Mengapakah Sultan Zainal Abidin III memperkenalkan undang-undang di atas pada tahun 1911?

- A. Memudahkan urusan perniagaan
- B. Menghalang perluasan kuasa British
- C. Menjadi panduan kemasukan orang luar
- D. Menambahkan keyakinan rakyat dalam agama

• Parti Kebangsaan Melayu Malaya

• Angkatan Pemuda Insaf

• Angkatan Wanita Sedar

27. Kesemua parti di atas adalah berhaluan kiri. Apakah prinsip perjuangan ketiga-tiga parti politik tersebut ?
- Menentang ciri-ciri Malayan Union
 - Menuntut kemerdekaan bersama-sama
 - Menyokong konsep Malayan Union
 - Membentuk Perikatan apabila bergabung

28.

Oktober 1950

• Lembaga Pembangunan Industri Desa (RIDA) telah ditubuhkan

Dato Onn Jaafar adalah sebagai pengerusi RIDA semasa awal penubuhannya .

Mengapakah RIDA ditubuhkan?

- Memajukan ekonomi masyarakat luar bandar
- Menggalakkan masyarakat luar bandar bersatu
- Membina prasarana industri di desa
- Menggesa masyarakat desa mempelajari ICT

Hasil dari beberapa rundingan Raja-raja Melayu telah menerima kerakyatan secara *Jus soli* dengan syarat.

29. Keterangan di atas berkaitan dengan isu-isu hangat yang diperdebatkan semasa pembentukan Persekutuan Tanah Melayu tahun 1957

Apakah syarat yang dikenakan kepada orang bukan Melayu?

- A. Pengiktirafan kedudukan istimewa orang Melayu
- B. Pemberian kebebasan agama kepada orang Melayu
- C. Persetujuan pengamalan sistem Demokrasi
- D. Pemilihan kerabat diraja sebagai Yang Dipertuan Agong

Tun Abdul Razak	H. S. Lee	Tun V. T. Sambanthan
------------------------	------------------	-----------------------------

30. Mengapa tokoh-tokoh di atas perlu dikenang sepanjang masa.?

- A. Ahli Majlis Perundangan Persekutuan
- B. Bersama-sama menuntut kemerdekaan
- C. Turut serta menentang Malayan Union
- D. Pemimpin Communities Liaison Committee

Parti	Pemimpin
Parti Negara Sarawak	Dato' Bandar Abang Hj. Mustapha
Parti Kebangsaan Sarawak	Stephen Kalong Ningkan
Parti Pesaka Anak Sarawak	Temenggung Jugah Anak Barieng

31. Jadual di atas menunjukkan antara parti politik yang bergabung untuk membentuk Parti Perikatan Sarawak.

Mengapa berlakunya penggabungan parti-parti politik tersebut?

- I. Membentuk kerajaan sendiri di Sarawak
- II. Membantah penyertaan Sarawak dalam Malaysia

- III. Menyokong penyertaan Sarawak dalam Malaysia
- IV. Menyekat pengaruh Parti Bersatu Rakyat Sarawak
- A. I dan II
- B. II dan III
- C. III dan IV
- D. I dan IV

Lord Cobbold	
Sir Anthony Abell	Sir David Watherston

32. Tokoh-tokoh di atas merupakan wakil British dalam Suruhanjaya Cobbold yang dibentuk semasa gagasan Malaysia.

Mengapa suruhanjaya tersebut diwujudkan ?

- A. Meninjau pendapat rakyat Sabah dan Sarawak
- B. Mengenalpasti sumber asli di Sabah dan Sarawak
- C. Membela nasib pribumi di Sabah dan Sarawak
- D. Menghalang pengaruh Indonesia di Sabah dan Sarawak

33. Negara demokrasi lahir daripada perjuangan berasaskan kedaulatan rakyat. Antara berikut, yang manakah merupakan corak pemerintahan demokrasi?

- I. Raja memerintah rakyat
- II. Kerajaan Rakyat
- III. Raja Berperlembagaan
- IV. Sistem Republik
- A. I dan II
- B. II dan III
- C. III dan IV
- D. I dan IV

- Diasaskan oleh Hj. Abu Bakar Al-Baqir
- Pertubuhan politik yang pertama antara tahun 1948 hingga awal tahun 1950
- Hizbul bermaksud pertubuhan kaum muslimin

34. Maklumat di atas berkaitan dengan Parti Hizbul Muslimin
Mengapa parti ini dikatakan bersifat keislaman?
- A. Memperjuangkan penubuhan negara Islam
 - B. Pemimpin mendapat pendidikan di Timur Tengah
 - C. Menggunakan warna agama Islam
 - D. Ahli wajib menghafal al-quran


“Bersekutu Bertambah Mutu”

35. Cogan kata di atas terdapat pada jata Negara Malaysia
Apakah kepentingan jata negara ?
- A. Bebas dari pengaruh anasir luar
 - B. Kehidupan yang sempurna
 - C. Lambang kemegahan penduduk
 - D. Bersatu menentang kemiskinan

Agensi	Fungsi
Lembaga Beras dan Padi Negara	Menstabilkan harga padi
Lembaga Pertubuhan Peladang	X

36. Antara berikut, yang manakah merupakan fungsi bagi Lembaga Pertubuhan Peladang?
- Membantu pekebun kecil membuka ladang
 - Membangunkan industri perladangan
 - Meningkatkan taraf pendidikan pekebun kecil
 - Membantu golongan petani dalam kegiatan koperasi
37. Wawasan 2020 telah dicetuskan oleh Tun Dr. Mahathir Mohammad pada tahun 1991.
- Antara berikut, yang manakah merupakan cabaran-cabaran yang terdapat dalam Wawasan 2020?
- Membina bangsa Malaysia yang bersatu padu
 - Memupuk dan membina masyarakat makmur
 - Membentuk masyarakat serba boleh
 - Mewujudkan rakyat penyayang
- I, II dan III
 - I, II dan IV
 - I, III dan IV
 - II, III dan IV

38.



Gambar sepuluh tangkai padi dalam bulatan di atas merupakan Logo ASEAN.
Bulatan pada logo tersebut menggambarkan semangat.....

- A. Rumpun bangsa
- B. Kecekalan negara
- C. Bersatu padu
- D. Persamaan budaya

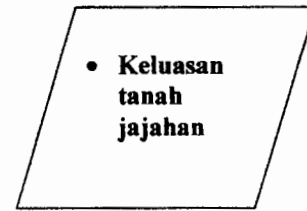
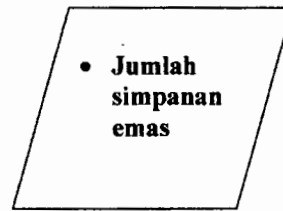
Aspek	Blok Kapitalis	Blok Komunis
Politik	Negara demokratik Pemilihan kerajaan melalui pilihan raya	Pemerintahan oleh diktator Parti Komunis sahaja diiktiraf
Sosial	X	Kebebasan individu dilindungi dan dikawal

39. Jadual di atas menunjukkan perbandingan ideologi antara blok kapitalis dengan blok komunis.

Apakah ideologi blok kapitalis dalam aspek sosial?

- A. Penglibatan politik yang terhad
- B. Penghargaan individu berasas jantina
- C. Kepentingan pendidikan tinggi
- D. Kebebasan individu sepenuhnya

40.



Maklumat di atas berkaitan dengan cara dunia mengukur kekayaan dan kemajuan sesebuah negara sebelum ini.

Bagaimanakah cara dunia mengukur kekayaan sesebuah negara pada hari ini?

- A. Bilangan rakyat yang ramai
- B. Kemahiran teknologi
- C. Pemimpin yang berkuasa
- D. Simpanan wang di bank dunia

KERTAS SOALAN TAMAT