

SULIT  
1249/1  
SEJARAH  
KERTAS 1  
OKTOBER  
2007  
1 JAM

1249/1

**JABATAN PELAJARAN TERENGGANU**  
*DENGAN KERJASAMA*  
PERSIDANGAN KEBANGSAAN PENGETUA  
SEKOLAH MENENGAH MALAYSIA  
CAWANGAN TERENGGANU

**PEPERIKSAAN AKHIR TAHUN 2007**

**TINGKATAN EMPAT**

---

---

**SEJARAH**

**KERTAS 1**

**Satu jam**

---

---

**JANGAN BUKA KERTAS SOALAN INI SEHINGGA DIBERITAHU**

*Arahan*

1. *Kertas soalan ini mengandungi 40 soalan.*
2. *Jawab semua soalan.*

---

**Kertas soalan ini mengandungi 11 halaman bercetak**

Tiap-tiap soalan diikuti empat pilihan jawapan yang berhuruf A, B, C, dan D. Pilih satu jawapan terbaik bagi tiap-tiap soalan dan **hitamkan** ruangan yang sepadan pada kertas jawapan objektif anda.

**Golongan X**

- Tentera paksaan
- Kerja pemburuan
- Korban dalam upacara penyembahan

1 Maklumat di atas merujuk kepada tugas golongan X dalam masyarakat tamadun awal. Golongan X adalah

- A petani
- B hamba
- C artisan
- D pendeta

2 Apakah faktor yang menyebabkan kejatuhan tamadun Mesopotamia?

- A Serangan orang kasar
- B Dilanda bencana alam
- C Rampasan kuasa oleh pembesar
- D Perluasan kuasa oleh kerajaan Parsi

- Ilmu geometri
- Ilmu matematik

3 Mengapakah perkembangan dua ilmu di atas begitu berguna kepada masyarakat Mesir ?

- A Mengawal perjalanan kapal
- B Mengurus hal ehwal pertanian
- C Mengawal pergerakan matahari
- D Meramal arah dan kekuatan tiupan angin

Tulang *oracle* digunakan oleh masyarakat Hwang Ho untuk meramal sesuatu perkara

4 Apakah kesan amalan di atas kepada masyarakat Hwang Ho?

- A Kewujudan sistem tulisan
- B Berkembangnya kepercayaan animisme
- C Kehidupan menjadi lebih aman dan tenteram
- D Bermulanya amalan penilikan dalam masyarakat

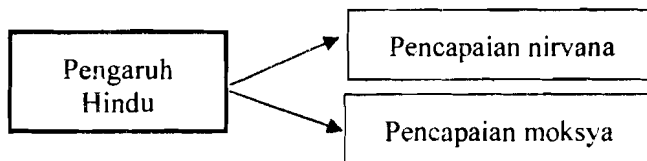
- 5 Bagaimanakah pemerintahan Pompei di Rom dapat menyediakan bekalan air yang mencukupi untuk penduduk bandar itu ?
- A Menggali lebih banyak mata air
  - B Membina sistem saliran bawah tanah
  - C Memproses air laut menjadi air minuman
  - D Mengehadkan penggunaan kepada rakyatnya

Melahirkan warganegara tentera yang sempurna, gagah, dan setia kepada negara kotanya.

- 6 Masyarakat dalam tamadun manakah yang menggariskan matlamat pendidikan seperti di atas?
- A Mesir
  - B Sparta
  - C Athens
  - D Hwang Ho

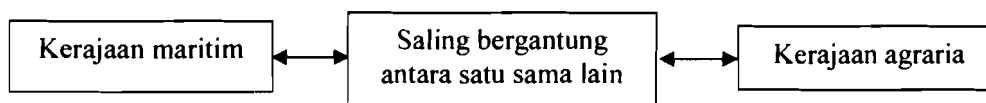
- Alexander the Great
- Augustus Caesar

- 7 Kedua-dua tokoh di atas memberi sumbangan dari segi
- A Perluasan kuasa
  - B Penyebaran agama
  - C Peningkatan ekonomi
  - D Pembangunan bandar



- 8 Apakah implikasi daripada pencapaian di atas kepada penganut Hindu?
- A Memperoleh pencerahan agung
  - B Menghindari kelahiran semula ke dunia
  - C Melepaskan diri daripada hukum karma
  - D Menjejima semula di dunia dalam bentuk jasad

- 9 Sekiranya anda ingin memajukan kerajaan maritim, apakah kemahiran yang sangat diperlukan di kawasan ini ?
- I Membuat perahu
  - II Membuat kapal layar
  - III Mampu belayar ke kawasan lain
  - IV Mampu membina sistem pengairan
- A I, II dan III
  - B I, II dan IV
  - C I, III dan IV
  - D II, III dan IV
- 10 Mengapakah sesebuah *pelabuhan pembekal* dalam kerajaan maritim boleh bertukar menjadi *pelabuhan kerajaan* kemudiannya ?
- A Perluasan kuasa
  - B Pembentukan kerajaan
  - C Pertambahan penduduk
  - D Peningkatan perdagangan



- 11 Apakah yang diperlukan oleh kerajaan maritim daripada kerajaan agraria?
- I Binatang kenderaan
  - II Bahan mentah dan makanan
  - III Barangan seperti kaca dan manik
  - IV Bantuan tukang kayu dan tukang batu
- A I, II dan III
  - B I, II dan IV
  - C I, III dan IV
  - D II, III dan IV

Konsep	Bahasa Arab
Jahiliah	<i>Jahala</i>

- 12 *Jahala* bermaksud tidak mempunyai
- A tuhan
  - B peraturan
  - C kepercayaan
  - D ilmu pengetahuan

- 13 Apakah faktor yang menyebabkan empangan Maarib yang dibina oleh kerajaan Sabak pecah ?
- I Empangan ini tidak diperlukan lagi
  - II Banjir besar memecahkan empangan
  - III Pemimpin Sabak gagal memperbaikinya
  - IV Pertukaran kegiatan pertanian kepada perdagangan
- A I dan II
  - B II dan III
  - C III dan IV
  - D I dan IV
- 14 Mengapakah sistem ekonomi yang diamalkan oleh masyarakat Arab Jahiliah dianggap tidak adil dan menindas?
- A Perdagangan dimonopoli oleh kabilah tertentu
  - B Kegiatan tukar barang berlaku secara berleluasa
  - C Golongan miskin sering dieksploitasi golongan kaya
  - D Pengagihan sumber ekonomi ditentukan oleh pemerintah
- 15 Mengapakah kemunculan tamadun Islam dianggap unik berbanding tamadun-tamadun lain di dunia ?
- A Berkembang di kawasan pertanian yang subur
  - B Kewujudan berhampiran dengan kawasan pantai
  - C Muncul di kawasan padang pasir yang panas dan kontang
  - D Terletak di kawasan yang sangat strategik dari segi perdagangan
- 16 Antara berikut, peristiwa yang manakah dianggap sebagai tanda pemisah antara Zaman Jahiliah dengan Zaman Islam ?
- A Perjanjian Aqabah I
  - B Turunnya Surah al-Alaq
  - C Keruntuhan Empangan Maarib
  - D Perletakan semula Hajar Aswad
- 17 Antara berikut, yang manakah berkaitan dengan kedudukan orang Yahudi seperti yang terkandung dalam Piagam Madinah ?
- A Tidak terikat dengan Piagam Madinah
  - B Dibenarkan memimpin negara Madinah
  - C Diwajibkan membayar zakat seperti orang Islam
  - D Keselamatan mereka terjamin selagi mematuhi Piagam Madinah

- 18 Apakah bukti yang menunjukkan penghijrahan Nabi Muhammad s.a.w bukan sebagai suatu pelarian seperti yang ditafsirkan oleh orientalis Barat?
- I Jemputan penduduk Madinah
  - II Sambutan ke atas rombongan Islam
  - III Jaminan keselamatan penduduk Madinah
  - IV Semua penduduk Madinah memeluk Islam
- A I, II dan III
  - B I, II dan IV
  - C I, III dan IV
  - D II, III dan IV
- 19 Antara berikut, manakah faktor yang mendorong Nabi Muhammad s.a.w. membuka semula kota Makkah pada tahun 630 M ?
- I Strategi jangka panjang penyebaran agama Islam
  - II Arab Quraisy telah melanggar Perjanjian Hudaibiyah
  - III Arab Quraisy tidak menghormati hak kebebasan yang dipersetujui
  - IV Makkah berpotensi dimajukan sebagai pusat perdagangan antarabangsa
- A I, II dan III
  - B I, II dan IV
  - C I, III dan IV
  - D II, III dan V
- Nabi Muhammad s.a.w. wafat pada tahun 632 M. bersamaan 11 H.
- 20 Apakah cabaran awal yang dihadapi oleh umat Islam selepas kewafatan baginda?
- A Pemilihan calon pemimpin baru
  - B Tentangan daripada orang Yahudi
  - C Cabaran daripada golongan al Riddah
  - D Pepecahan dunia Islam kepada dua mazhab
- 21 Proses *syura* dan upacara *bai'ah* yang dijalankan dalam proses peralihan Khulafa al-Rasyidin bertujuan untuk menjamin bakal khalifah mempunyai
- A wawasan yang jelas
  - B kedudukan yang stabil
  - C kelayakan dan berhemah tinggi
  - D harta untuk mentadbir negara secara berkesan

22 Antara berikut, yang manakah merupakan syarat-syarat seseorang calon khalifah?

- I Patuh kepada perintah Allah
- II Berfikiran cerdas dan pintar
- III Mempunyai akhlak yang baik
- IV Memiliki harta yang mencukupi

- A I, II dan III
- B I, II dan IV
- C I, III dan IV
- D II, III dan IV

Zaman kegemilangan Bani Abbasiyah berlaku dalam pemerintahan Khalifah Harun al-Rasyid dan Khalifah al-Makmun.

23 Berdasarkan pernyataan di atas, mengapakah era pemerintahan mereka dikenali sebagai zaman kegemilangan?

- A Perkembangan ilmu
- B Keluasan wilayah taklukan
- C Peningkatan bilangan angkatan bersenjata
- D Kemampuan mengalahkan pasukan tentera Rom

24 Mengapakah kerajaan Turki Uthmaniyah mampu menguasai sebahagian besar kawasan di benua Eropah pada zaman kegemilangannya ?

- A Kemajuan dan kemakmuran negara
- B Semangat ghazi tenteranya yang tinggi
- C Kewujudan Zaman Gelap di benua Eropah
- D Sokongan padu daripada kerajaan Islam lain

- Dayah
- Pondok
- Pesantren

25 Senarai di atas berkaitan dengan bidang

- A ekonomi
- B kesihatan
- C pendidikan
- D kesusasteraan

- Hikayat Amir Hamzah
- Hikayat Muhammad Ali Hanafiah

26 Apakah fungsi kewujudan karya di atas?

- I Menjadi teks wajib di madrasah
- II Membantu dalam penyebaran Islam
- III Menambahkan hasil karya kesusasteraan
- IV Memberi semangat untuk menentang musuh

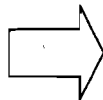
- A I dan II
- B II dan III
- C III dan IV
- D I dan IV

27 Antara berikut, yang manakah merupakan pengaruh Islam ke atas institusi pemerintahan dan pentadbiran di Asia Tenggara

- I Islam dijadikan agama rasmi
- II Undang-undang Syariah diamalkan
- III Institusi pemerintahan beraja diperkenalkan
- IV Semangat jihad menentang penjajah semakin kuat

- A I, II dan III
- B I, II dan IV
- C I, III dan IV
- D II, III dan IV

Bahasa Melayu



- menjadi bahasa ilmu
- menjadi bahasa lingua franca
- menjadi lebih mantap

28 Apakah faktor yang menyebabkan kesan-kesan di atas berlaku ?

- A Pengaruh agama Islam
- B Pemantapan bahasa dan tulisan Palava
- C Penghasilan karya dalam Bahasa Melayu
- D Penggunaan istilah Sanskrit dalam Bahasa Melayu

29 Adat Perpatih bersifat *matrilineal* .Apakah yang dimaksudkan dengan *matrilineal*?

- A Menekankan perkahwinan sesuku
- B Mengutamakan jurai keturunan ibu
- C Menekankan kepada adat Minangkabau
- D Mementingkan pembahagian harta dari keturunan bapa



- 30 Masyarakat Melayu tradisional mula menerima pendidikan formal setelah kedatangan
- A agama Islam
  - B penjajah Portugis
  - C penjajah Inggeris
  - D agama Hindu-Buddha

- 31 Pengaruh Kerajaan Bani Umayyah dalam Kesultanan Melayu dapat dilihat melalui
- A amalan protokol
  - B alat kebesaran raja
  - C seni ukir mimbar masjid
  - D adat perkahwinan diraja

Ramai rakyat di kawasan jajahan takluk Melaka memeluk Islam

- 32 Berdasarkan pernyataan di atas, mengapakah rakyat bertindak sedemikian?
- A Mendapat ganjaran
  - B Memperolehi keistimewaan
  - C Mengelak diri daripada penindasan
  - D Menjadi pemimpin agama dan masyarakat
- 33 Bagaimanakah bentuk tanggungjawab dan hubungan timbal balas yang diamalkan oleh tuan tanah dalam struktur masyarakat feudal di Eropah?
- I Tuan tanah mendapat perlindungan raja
  - II Tuan tanah membayar cukai kepada raja
  - III Tuan tanah berkongsi kekayaan dengan petani
  - IV Tuan tanah memperoleh khidmat daripada petani
- A I, II dan III
  - B I, II dan IV
  - C I, III dan IV
  - D II, III dan IV
- 34 Mengapakah masyarakat di Eropah mengkritik gereja Katolik ketika Gerakan Reformation?
- A Percanggahan fahaman agama
  - B Penyelewengan penguasa gereja
  - C Kristian berpecah kepada dua mazhab
  - D Keengganan pemerintah melakukan pembaharuan

Salah satu kesan Revolusi Perindustrian ialah munculnya Pergerakan Luddisme.

- 35 Apakah yang diperjuangkan oleh kumpulan tersebut ?
- A Memperjuangkan nasib pekerja
  - B Menentang Akta Pemagaran Tanah
  - C Membantah penggunaan mesin di kilang
  - D Menghalang penglibatan kanak-kanak dalam perlombongan
- 36 Aktiviti ekonomi yang menghasilkan lebihan pengeluaran untuk tujuan pemasaran dikenali sebagai ekonomi
- A import
  - B sara diri
  - C dagangan
  - D dwiekonomi
- 37 Bagaimanakah masyarakat Melayu menggunakan lebihan hasil kegiatan ekonomi mereka?
- I Mengadakan kenduri-kendara
  - II Membayar zakat atau sedekah
  - III Menukar dengan barangan lain
  - IV Memasarkan kepada saudagar asing
- A I, II dan III
  - B I, II dan IV
  - C I, III dan IV
  - D II, III dan IV
- 38 Apakah usaha yang dijalankan oleh H.N.Ridley untuk memajukan perusahaan getah di Tanah Melayu?
- A Membawa masuk pelabur India
  - B Mempopularkan torehan secara ibidem
  - C Mempelawa pelabur asing membuka ladang
  - D Menggalakkan perkembangan industri berasaskan getah

- Ipoh
- Taiping
- Kuala Lumpur

39 Apakah faktor yang membawa kepada perkembangan bandar-bandar di atas menjelang awal kurun ke-20?

- A Berdekatan dengan pelabuhan
- B Didiami oleh masyarakat Cina
- C Kemajuan sistem perhubungan
- D Perkembangan perusahaan bijih timah

- Dari Kuala Lumpur ke Port Swettenham (1889)
- Dari Seremban ke Port Dickson (1891)

40 Apakah tujuan pembinaan dua jaringan jalan kereta api di atas?

- A Memudahkan urusan pentadbiran negeri
- B Menggalakkan pembukaan tanah baru untuk tanaman getah
- C Memudahkan pergerakan buruh dari bandar ke kawasan lombong
- D Mempercepat urusan mengangkut bijih timah dari lombong ke pelabuhan

**KERTAS SOALAN TAMAT**