

1249/1  
Sejarah  
Kertas 1  
Sept  
2008  
1 jam

PEPERIKSAAN PERCUBAAN  
SIJIL PELAJARAN MALAYSIA  
NEGERI PERAK  
2008

---

---

SEJARAH

Kertas 1

Satu jam

---

---

JANGAN BUKA KERTAS SOALAN INI SEHINGGA DIBERITAHU

1. *Kertas soalan ini mengandungi 40 soalan .*
2. *Jawab semua soalan*
3. *Jawab dengan menghitamkan ruangan yang betul pada kertas jawapan*
4. *Hitamkan satu ruangan sahaja bagi setiap soalan*
5. *Sekiranya anda hendak menukarkan jawapan, padamkan tanda yang telah dibuat. Kemudian hitamkan jawapan yang baru*

---

Kertas soalan ini mengandungi 10 halaman bercetak dan 2 halaman tidak bercetak.

1 Senarai di bawah menunjukkan tokoh sarjana yang telah mendefinisikan perkataan tamadun.

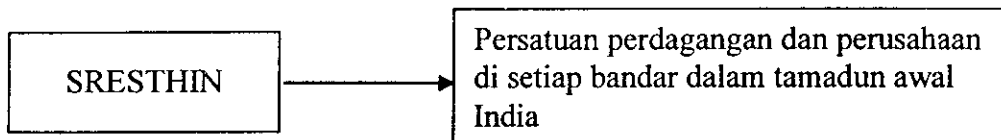
- Syed Naquib al-Attas
- Richard Sullivan

Apakah persamaan pendapat bagi kedua-dua tokoh di atas?

- A Kemajuan ekonomi
- B Kemajuan tatasusila
- C Kemajuan kebendaan
- D Kemajuan pembandaran

2 Antara berikut, yang manakah fungsi zigurat dalam tamadun Mesopotamia?

- I Pusat pentadbiran
  - II Pusat perdagangan
  - III Pusat khazanah negara
  - IV Pusat kegiatan kesenian
- A I dan II
  - B II dan III
  - C III dan IV
  - D I dan IV



3 Matlamat penubuhan persatuan di atas adalah untuk mengawal

- I harga barang
  - II disiplin pekerja
  - III urusan pembelian
  - IV kualiti barangan
- A I dan II
  - B II dan III
  - C III dan IV
  - D I dan IV

Dalam tamadun India, peningkatan dalam bidang pendidikan telah bermula pada zaman Vedik

4 Apakah kaedah belajar yang digunakan pada zaman di atas?

- A Hafalan
- B Pemahaman
- C Menadah kitab
- D Penerangan guru

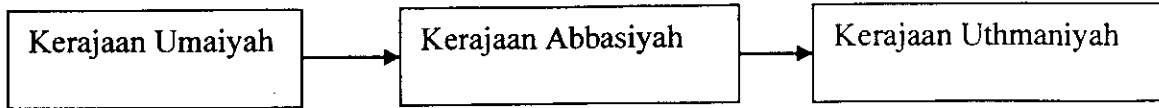
- Angkor Wat
- Candi Borobudur
- Bahasa Sanskrit

- 5 Apakah yang dapat disimpulkan mengenai maklumat di atas?
- A Keindahan kesenian
  - B Pengaruh Hindu Buddha
  - C Kegemilangan kerajaan
  - D Perkembangan teknologi
- 6 Mengapakah teretusnya peperangan al-Basus di Makkah?
- A Pembunuhan ahli kabilah
  - B Perebutan menguasai telaga zam-zam
  - C Persaingan menguasai kepimpinan Makkah
  - D Persaingan menguasai laluan perdagangan ke Syam
- 7 Mengapakah golongan hamba di Makkah tertarik memeluk Islam?
- A Menawarkan pembebasan
  - B Menawarkan suguhati berbentuk wang
  - C Menggalakkan manusia hidup bersatu padu
  - D Memberi layanan sama kepada semua manusia
- 8 Apakah kesan pelaksanaan Piagam Madinah dalam bidang ekonomi?
- A Kemunculan golongan bangsawan
  - B Orang Yahudi menguasai ekonomi
  - C Ekonomi kerajaan Islam meningkat
  - D Madinah pusat perdagangan antarabangsa

Pada musim haji tahun ke-10H, Nabi Muhammad S.A.W. telah menyampaikan khutbah terakhir kepada umat Islam.

- 9 Antara berikut, yang manakah berkaitan dengan mesej khutbah tersebut?
- I Menghapuskan nabi palsu
  - II Mencintai sunnah Rasulullah
  - III Mengukuhkan persaudaraan Islam
  - IV Memperkenalkan sistem khalifah
- A I dan II
  - B II dan III
  - C III dan IV
  - D I dan IV

10 Rajah di bawah merujuk kepada kerajaan Islam selepas pemerintahan Khulafa-al-Rasyidin.



Apakah persamaan sistem pemerintahan yang diamalkan oleh ketiga-tiga kerajaan tersebut?

- A Syura  
 B Wazarah  
 C Monarki  
 D Hijabah
- 11 Apakah kesan kemunculan golongan Syiah dan Khawarij pada zaman kerajaan Bani Umayyah?
- A Kemunculan kerajaan kecil  
 B Kejatuhan kerajaan Bani Umayyah  
 C Keruntuhan sistem pemerintahan warisan  
 D Kepesatan perkembangan ilmu pengetahuan
- 12 Mengapakah terdapat pedagang Islam dianugerahkan jawatan syahbandar di beberapa pelabuhan Asia Tenggara?
- A Bersifat amanah  
 B Memiliki kekayaan  
 C Bijak dalam pengurusan  
 D Hubungan baik dengan sultan
- 13 Maklumat di bawah berkaitan hasil kesusasteraan pada zaman kerajaan Melayu Melaka

- Hikayat Muhamad Ali Hanafiah
- Hikayat Amir Hamzah

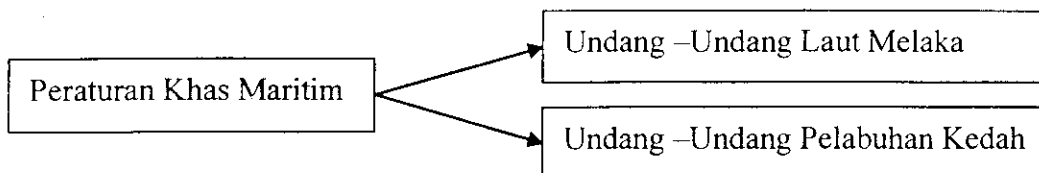
Apakah kepentingan hasil kesusasteraan tersebut?

- A Mengagungkan raja Melaka  
 B Menggalakkan usaha dakwah  
 C Menggalakkan semangat bekerja  
 D Menaikkan semangat menentang musuh
- 14 Bagaimanakah cara Wali Songo berdakwah menyebarkan Islam di Jawa?
- I Mengikis sifat malas  
 II Mengelak hidup mewah  
 III Menghasilkan karya sastera  
 IV Menulis kitab - kitab agama
- A I dan II  
 B II dan III  
 C III dan IV  
 D I dan IV

Hukum Kanun Manu berbeza dengan perundangan Islam
---

15 Apakah perbezaan undang – undang di atas?

- A Hak rakyat terhadap keadilan
- B Hak sama rata dalam masyarakat
- C Hukuman berdasarkan kelas seseorang
- D Hukuman setimpal dengan kesalahan



16 Apakah faktor yang mempengaruhi pelaksanaan peraturan tersebut dalam undang–undang di atas?

- A Jenayah di laut meningkat
- B Menarik pedagang luar berdagang
- C Desakan daripada para pedagang asing
- D Kerajaan Melayu aktif dalam perdagangan

17 Bagaimanakah golongan monarki baru mengukuhkan kekuasaan mereka pada zaman Renaissance?

- A Menubuhkan kerajaan pusat
- B Menubuhkan tentera upahan
- C Meningkatkan penguasaan gereja
- D Menganugerah tanah kepada bangsawan

18 Dialog di bawah mungkin berlaku di Parlimen Britain pada abad ke 18

TOKOH A	:	Permintaan harga gandum di negara kita semakin meningkat
TOKOH B	:	Tapi, kita kekurangan tanah untuk menanam gandum secara besar –besaran
TOKOH C	:	Apakah tindakan tuan?

Apakah tindakan yang diambil oleh tokoh A?

- A Mengurangkan cukai
- B Memagari tanah awam
- C Menggalakkan import gandum
- D Menghapuskan hak milik individu

- Majikan akan menghantar pegawainya ke China untuk mendapatkan tenaga buruh
- Perbelanjaan ditanggung oleh majikan

- 19 Apakah sistem yang dapat dikaitkan dengan pernyataan di atas?
- A Sistem buruh bebas
  - B Sistem buruh kontrak
  - C Sistem pengambilan kakitangan
  - D Sistem pengambilan rumah kongsi
- 20 Apakah peraturan yang diperkenalkan oleh penjajah British bagi mengekalkan orang Melayu sebagai golongan petani?
- A Enakmen Tanah Padi 1917
  - B Undang-Undang Tanah Barat
  - C Akta Tanah Simpanan Melayu
  - D Proklamasi III Pelindung Hak Peribumi

21

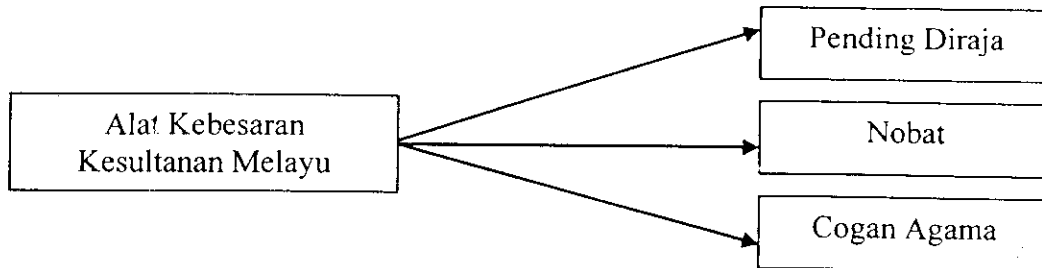
Sarekat Islam mendesak agar Belanda menubuhkan Volksraad

Mengapakah tindakan di atas dilakukan?

- A Memajukan sektor ekonomi
  - B Mengatasi kemiskinan rakyat
  - C Memantapkan kedudukan Islam
  - D Mengorak langkah ke arah kemerdekaan
- 22 Mengapakah kuasa Barat memperkenalkan sistem birokrasi di tanah jajahan?
- A Memudahkan eksploitasi ekonomi
  - B Memodenkan sistem pentadbiran
  - C Melatih pembesar menjadi pegawai kerajaan
  - D Menyediakan pentadbiran berkerajaan sendiri
- 23 Mengapakah Rentap menentang James Brooke pada tahun 1853?
- A Menghapuskan orang Iban
  - B Membakar kampung penduduk
  - C Menguasai Kubu Nanga Skrang
  - D Kehilangan kuasa memungut cukai
- 24 Apakah matlamat penubuhan PASPAM?
- A Menuntut taraf berkerajaan sendiri
  - B Menggalakkan ahli bertukar - tukar pendapat
  - C Mengumpul dana bagi membangunkan ekonomi
  - D Menggiatkan perkembangan politik orang Melayu

25 Apakah bentuk pemerintahan yang diamalkan semasa pemerintahan Sultan Zainal Abidin III di Terengganu?

- A Pemusatan kuasa
- B Sistem Republik
- C Sistem demokrasi
- D Raja Berperlembagaan



26 Apakah kepentingan alat kebesaran di atas?

- A Kedaulatan raja dalam pemerintahan
- B Membezakan taraf raja dengan rakyat
- C Pengukuhan kuasa kepada pemerintah
- D Kerajaan diasaskan oleh kesultanan Melayu

27 Apakah faktor pembentukan Malayan Union?

- I Mengembalikan kuasa raja – raja Melayu.
- II Memastikan British terus menguasai ekonomi.
- III Memudahkan British menyeragamkan dasar pentadbiran.
- IV Mewujudkan negara yang dikuasai pemimpin tempatan

- A I dan II
- B II dan III
- C III dan IV
- D I dan IV

28 Antara berikut, yang manakah ciri – ciri Perjanjian Persekutuan Tanah Melayu 1948?

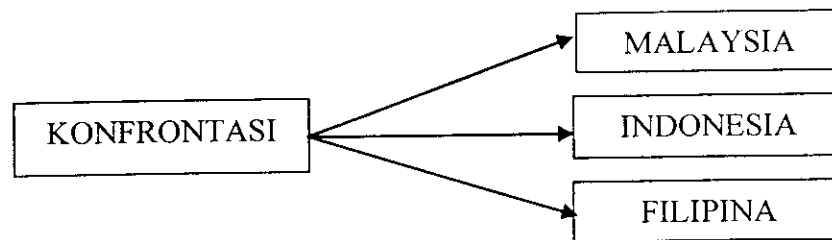
- I Kerakyatan secara jus soli
- II Melonggarkan taraf kerakyatan.
- III Mewujudkan konsep raja berperlembagaan.
- IV Pembentukan Senarai Persekutuan dan Senarai Negeri.

- A I dan II
- B II dan III
- C III dan IV
- D I dan IV

- 29 Antara berikut, yang manakah perkara-perkara yang dipersetujui hasil rundingan antara UMNO dengan Jawatankuasa Hubungan Antara Kaum (CLC)?
- A Pengisytiharan Pilihanraya umum
  - B Kerakyatan Negeri 1951 dimansuhkan
  - C Penubuhan Lembaga Industri Desa (RIDA)
  - D Penggabungan parti politik UMNO - MCA

- 30 Apakah manifesto Parti Perikatan dalam menghadapi pilihanraya pertama tahun 1955?
- A Mencapai kemerdekaan
  - B Mengukuhkan perpaduan
  - C Menghapuskan kemiskinan
  - D Mengukuhkan ekonomi orang Melayu

31



Bagaimanakah ketegangan politik antara negara di atas dapat dikurangkan?

- I Mengadakan pungutan suara di ketiga-tiga negara
- II Mengadakan sidang kemuncak ketua-ketua kerajaan
- III Membawa isu ke Pertubuhan Bangsa-Bangsa Bersatu
- IV Menubuhkan Persatuan Negara-negara Asia Tenggara (ASEAN)

- A I dan II
- B II dan III
- C III dan IV
- D I dan IV

32

"Akta Malaysia diperkenankan oleh Ratu Elizabeth setelah ia diluluskan di Parlimen Britain. "

Antara berikut, yang manakah terlibat dalam meluluskan Perjanjian Malaysia?

- I Majlis Undangan Brunei
- II Dewan Perhimpunan Sabah
- III Majlis Undangan Sarawak
- IV Dewan Perhimpunan Singapura

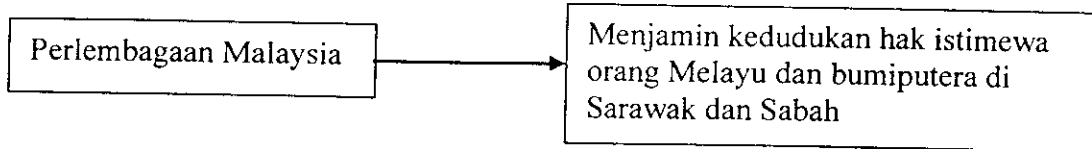
- A I dan II
- B II dan III
- C III dan IV
- D I dan IV

33 Antara berikut, yang manakah merujuk kepada Senarai Bersama dalam pengagihan kuasa pentadbiran di Malaysia?

- I Biasiswa
- II Pelajaran
- III Kesihatan
- IV Perhubungan

- A I dan II
- B II dan III
- C III dan IV
- D I dan IV

34 Pernyataan di bawah merujuk kepada syarat yang terdapat dalam Perlembagaan Malaysia



Mengapakah syarat di atas diadakan?

- A Meningkatkan taraf hidup
- B Negeri tersebut masih mundur
- C Persetujuan menyertai Persekutuan Malaysia
- D Selaras dengan bumiputera di Tanah Melayu

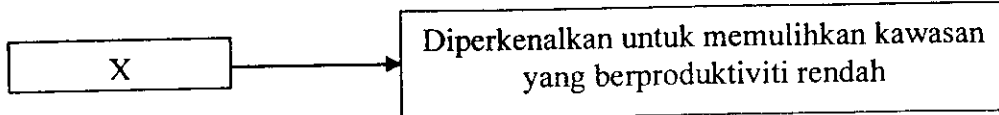
35 Pernyataan di bawah merujuk kepada dasar pembangunan ekonomi yang diperkenalkan di negara kita



Apakah matlamat dasar tersebut?

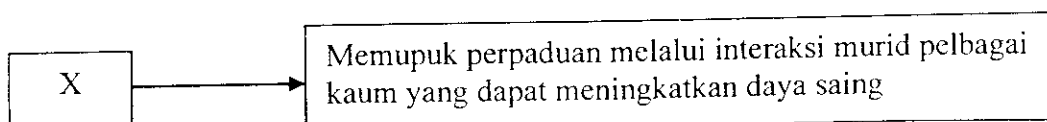
- A Mengurangkan kadar pengangguran
- B Meningkatkan produktiviti kualiti barang
- C Memajukan komoditi utama untuk dieksport
- D Membasmi kemiskinan tanpa mengira kaum

36



X merujuk kepada

- A Dasar Ekonomi Baru
  - B Pembangunan in – situ
  - C Persyarikatan Malaysia
  - D Unit Perancangan Ekonomi
- 37 Hubungan Bilateral ialah bentuk hubungan luar Malaysia berdasarkan kepada
- A geopolitik
  - B pertubuhan
  - C keagamaan
  - D terus dari negara
- 38 Apakah tujuan penubuhan Kawasan Perdagangan Bebas ASEAN (AFTA)?
- A Meluaskan pasaran
  - B Menurunkan harga barang
  - C Meningkatkan sekatan perdagangan
  - D Mengurangkan jurang ekonomi antara negara
- 39
- Persidangan Pertubuhan Negara – Negara Islam di Kuala Lumpur telah mengesyorkan satu penggunaan dalam urusan perdagangan di antara negara – negara Islam
- Apakah syor penggunaan perdagangan yang dicadangkan ?
- A Dinar emas
  - B Kawalan barangan
  - C Kredit tanpa faedah
  - D Perdagangan bebas
- 40 Rajah di bawah merujuk kepada satu usaha kerajaan untuk membangunkan dan menyusun semula sistem pendidikan di Malaysia



Apakah X?

- A Sekolah Kluster
- B Sekolah Bestari
- C Sekolah Integrasi
- D Sekolah Wawasan

KERTAS SOALAN TAMAT