

SULIT



JABATAN PELAJARAN JOHOR

PEPERIKSAAN PERCUBAAN SIJIL PELAJARAN MALAYSIA 2011 SEJARAH

1249/1

Kertas 1
September
2011
1 jam

Satu Jam

JANGAN BUKA KERTAS SOALAN INI SEHINGGA DIBERITAHU

1. *Kertas soalan ini mengandungi 40 soalan.*
2. *Jawab semua soalan.*
3. *Tiap-tiap soalan diikuti oleh empat pilihan jawapan, iaitu A,B,C dan D. Bagi setiap soalan, pilih satu jawapan sahaja. Hitamkan jawapan anda pada kertas jawapan objektif yang disediakan.*
4. *Sekiranya anda hendak menukarkan jawapan, padamkan tanda yang telah dibuat. Kemudian hitamkan jawapan yang baru.*


Kertas soalan ini mengandungi 17 halaman bercetak dan 1 halaman tidak bercetak

[Lihat halaman sebelah

- 1 Seseorang pemerintah kerajaan awal akan mendapat pengiktirafan sebagai ketua dengan menggunakan unsur

- A magis
- B agama
- C bahasa
- D tulisan

- 2 Gambar berikut menunjukkan perkembangan penciptaan roda tamadun Mesopotamia.



Perkembangan bentuk roda

Apakah kegunaan roda tersebut?

- I kincir air
 - II kincir angin
 - III kolar kuda
 - IV kereta kuda
- A I dan II
 - B I dan IV
 - C II dan III
 - D III dan IV

3 Jadual berikut menerangkan sistem yang pernah diamalkan di Athens.

Pemerintahan	Ketua
Beraja	Raja
Oligarki	X
Tirani	Golongan kaya atau tentera

Apakah X?

- A Beberapa orang ahli senat
 - B Beberapa orang konsul
 - C Golongan bangsawan
 - D Golongan pendeta
- 4 Maklumat berikut berkaitan dengan sistem pendidikan dalam tamadun India.

Pendidikan pada Zaman Vedik memberikan perhatian kepada pembelajaran kitab-kitab Veda dan bahasa Sanskrit.

Apakah kaedah yang digunakan dalam pembelajaran tersebut?

- A Membaca
- B Penulisan
- C Menghafal
- D Perbincangan

[Lihat halaman sebelah

5. Jadual berikut berkaitan dengan peranan pelabuhan di Asia Tenggara.

X	<ul style="list-style-type: none">• Membekalkan hasil kepada pedagang antarabangsa• Mengedarkan barangan kepada pedagang yang datang ke pelabuhannya
---	---

X dikenali sebagai pelabuhan

- A pesisir
- B kerajaan
- C pembekal
- D entrepot

6. Maklumat berikut berkaitan dengan perkataan yang telah mengalami penyesuaian dengan bahasa Melayu pada hari ini.

- | |
|--|
| <ul style="list-style-type: none">• Dukkha• Dorhaka• Phala |
|--|

Perkataan tersebut berkaitan dengan pengaruh bahasa

- A Pali
- B Jawa
- C Arab
- D Sanskrit

7. Mengapakah Nabi Muhammad SAW menyebarkan dakwah Islamiah di Makkah secara rahsia pada peringkat awal?

- I Agama Islam masih baru dikenali
 - II Perintah Allah menerusi wahyu
 - III Orang Arab masih menyembah berhala
 - IV Bilangan penganut Islam masih sedikit
- A I dan II
 - B I dan IV
 - C II dan III
 - D III dan IV

8 Apakah persamaan tokoh dalam kalangan keluarga Nabi Muhammad SAW berikut?

- | |
|--|
| <ul style="list-style-type: none"> • Zaid bin Harithah • Ali bin Abu Talib • Khadijah binti Khuwailid |
|--|

- A Golongan yang berhijrah ke Taif
- B Orang yang awal memeluk Islam
- C Golongan yang berhijrah ke Habsyah
- D Orang yang telah disiksa dengan kejam

9 Jadual berikut berkaitan dengan pembukaan semula kota Makkah.

Tahun	Peristiwa
630 masihi	Nabi Muhammad SAW membuka semula kota Makkah.

Apakah kepentingan peristiwa tersebut terhadap kerajaan Islam di Madinah?

- A Meningkatkan penentangan terhadap Islam
 - B Meneruskan sistem kabilah
 - C Mengukuhkan negara
 - D Meningkatkan kemajuan ekonomi
- 10 Peperangan hanya boleh dilakukan dengan keizinan Allah setelah wahyu diturunkan. Apakah tujuan peperangan dalam Islam?

- A Mempertahankan agama
- B Mengukuhkan pemerintahan
- C Menyebarkan agama
- D Meluaskan kuasa

[Lihat halaman sebelah

- 11 Apakah tugas khalifah yang dilantik pada zaman kerajaan Khulafa al-Rasyidin?
- A Meluaskan wilayah
 - B Mengukuhkan kuasa
 - C Memerangi musuh Islam
 - D Memelihara kedudukan agama Islam
- 12 Senarai berikut merujuk kepada bukti kedatangan Islam ke Asia Tenggara.

- Batu nisan Malik Ibrahim di Gerisik
- Batu nisan Malik al-Salih di Pasai

Apakah ciri batu nisan tersebut?

- A Mengandungi epik India
 - B Mengandungi bahasa Tamil
 - C Mempunyai ciri buatan India
 - D Menggunakan tulisan Pallava
- 13 Sistem pentadbiran Islam telah meletakkan sultan sebagai ketua negara dan baginda mempunyai beberapa orang pegawai untuk membantunya.

Antara yang berikut, yang manakah berkaitan jawatan penasihat sultan dalam hal ehwal agama Islam?

- A Imam
- B Bilal
- C Mufti
- D Khatib

- 14 Perumpamaan berikut menggambarkan nilai murni dalam kehidupan masyarakat Melayu tradisional.

Seikat seperti sirih
Serumpun seperti serai
Sedencing seperti besi

Perumpamaan tersebut merujuk kepada nilai

- A perpaduan
B kerjasama
C kekuatan
D toleransi
- 15 Sistem pendidikan pondok telah berkembang dengan meluas ke negara-negara Asia Tenggara.
Apakah fungsi sistem pendidikan pondok tersebut?
- A Tempat perbincangan ulama
B Pusat pengajian agama Islam
C Tempat penginapan pedagang Islam
D Pusat pengajian golongan bangsawan
- 16 Maklumat berikut berkaitan dengan perkembangan zaman *Renaissance* pada kurun ke-14.

X	<ul style="list-style-type: none"> • Golongan pedagang kaya • Penaung kepada pelukis, ahli muzik, saintis dan penulis • Penaung warisan sejarah bandar-bandar di Eropah
---	--

Apakah X?

- A Baron
B Patron
C Katedral
D Indulgences

[Lihat halaman sebelah
SULIT

17 Maklumat berikut berkaitan dengan akta Parlimen bagi membela nasib pekerja.

Pada tahun 1833, Akta Kilang telah digubal untuk memastikan keselamatan pekerja di Britain.

Apakah larangan dalam akta tersebut?

- A penggunaan mesin
- B pengambilan buruh mahir
- C wanita bekerja di lombong arang batu
- D kanak-kanak di bawah umur sembilan tahun bekerja

18 Pada awalnya, getah ditanam di halaman kediaman Residen Hugh Low di Kuala Kangsar, Perak.

Apakah fungsi tanaman tersebut?

- A Penyelidikan
- B Hiasan
- C Komersial
- D Sampingan

19 Apakah tujuan pihak British meluluskan Akta Tanah Simpanan Melayu?

- I Memudahkan pindah milik tanah
 - II Memodenkan sektor pertanian tradisional
 - III Melindungi kepentingan ekonomi kerajaan penjajah
 - IV Menghindarkan tanah dijual kepada orang bukan Melayu
- A I dan II
 - B I dan IV
 - C II dan III
 - D III dan IV

[Lihat halaman sebelah

20 Peta berikut menunjukkan perkembangan landasan kereta api di Tanah Melayu.



Peta landasan kereta api dan jalan raya di Tanah Melayu pada abad ke- 20

Apakah kesan pembinaan landasan tersebut ke atas perusahaan getah?

- A Penggunaan teknologi moden
- B Pertambahan kemasukan imigran
- C Peningkatan jumlah eksport getah
- D Pembukaan tanah baru di pedalaman

21 Penciptaan telegraf membawa perubahan terhadap perhubungan barat dengan timur.

Apakah kesan penciptaan telegraf tersebut?

- A Meluaskan tanah jajahan
- B Memudahkan urusan perniagaan
- C Mengukuhkan kekuasaan barat
- D Memajukan pendidikan

[Lihat halaman sebelah

22 Apakah peranan Encomiendero dalam Sistem Encomienda di Filipina?

- A Mendaftar tanah pertanian
- B Memajukan perdagangan
- C Mengkristiankan penduduk
- D Menggubal undang-undang

23 Maklumat berikut berkaitan dengan pembaharuan yang dilakukan di Thailand.

- Pengenalan birokrasi barat
- Melantik 80 orang penasihat
- Memperkenalkan Kabinet Menteri

Apakah kesan pembaharuan tersebut?

- A Mengekalkan kemerdekaan Thailand
- B Menamatkan sistem raja berkuasa mutlak
- C Memantapkan ekonomi kapitalis Cina
- D Mencetuskan Revolusi Thailand

24 Pada 2 November 1857, J.W.W Birch mati dibunuh oleh Seputum di Sungai Perak, Pasir Salak.

Apakah kesan peristiwa tersebut?

- A British menyerang Pasir Salak
- B Krisis perebutan takhta tempatan
- C Perebutan kawasan perlombongan
- D Pengurangan kuasa pembesar tempatan

[Lihat halaman sebelah

25 Maklumat berikut adalah novel yang dihasilkan oleh Ishak Haji Muhammad.

- Anak Mat Lela Gila
- Putera Gunung Tahan

Apakah tema yang diperjuangkan oleh penulis dalam novel tersebut?

- A Menghargai tokoh agama
- B Membela maruah bangsa
- C Mengutamakan pendidikan
- D Menyeru perpaduan orang Melayu

26 Orang Melayu menubuhkan pasukan Force 136 semasa pendudukan Jepun.

Apakah tujuan penubuhan pasukan tersebut?

- A Menentang Jepun
- B Menentang MPAJA
- C Membantu Bintang Tiga
- D Memelihara kepentingan British

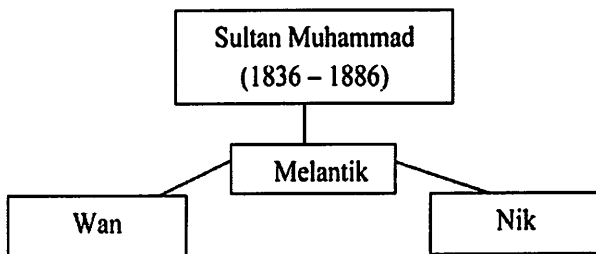
27 *Realpolitik* ialah amalan yang mewajarkan apa sahaja cara untuk mencapai matlamat politik.

Amalan tersebut dipelopori oleh

- A Woodrow Wilson
- B Otto von Bismarck
- C Niccolo Machiavelli
- D Count Camillo Benso di Cavour

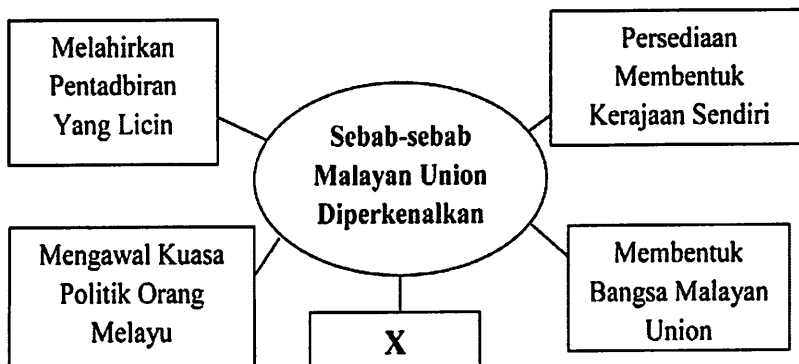
[Lihat halaman sebelah

- 28 Berdasarkan rajah berikut, apakah peranan golongan pembesar yang dilantik oleh sultan dalam mengukuhkan kewibawaan baginda di Kelantan?



- A Menjalankan tugas sebagai pembesar jajahan
- B Memegang jawatan penting dalam kerajaan
- C Menjadi penasihat Sultan dalam pentadbiran
- D Memberikan taat setia yang tidak berbelah bahagi

- 29 Rajah berikut berkaitan dengan sebab Malayan Union diperkenalkan di Tanah Melayu .



Apakah X?

- A Menjimatkan Kos Pentadbiran
- B Membentuk Pemerintahan Barat
- C Menguasai Ekonomi Tanah Melayu
- D Mengisytiharkan Kemerdekaan Tanah Melayu

[Lihat halaman sebelah

30 Tokoh berikut telah menunjukkan semangat yang mendalam terhadap negerinya.

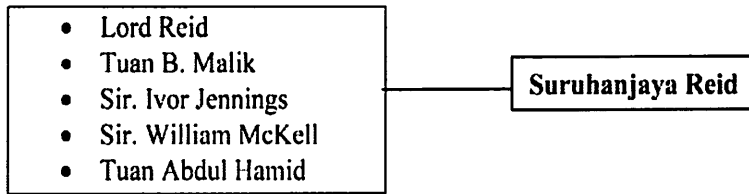


Rosli Dhobi

Apakah bukti semangat tersebut?

- A Menubuhkan Rukun Tiga Belas
 - B Menghantar surat bantahan kepada British
 - C Menikam Sir Duncan Stewart
 - D Menentang Vyner Brooke
- 31 Apakah dasar perjuangan *Independence Malaya Party* (IMP) yang ditubuhkan oleh Dato' Onn?
- A Kerjasama kaum dalam parti
 - B Perkongsian kerakyatan dengan kaum lain
 - C Mengamalkan sistem demokrasi berparlimen
 - D Menuntut kemerdekaan melalui rundingan

32 Berdasarkan rajah berikut, apakah tugas ahli Suruhanjaya Reid?



- A Merangka Perlembagaan
- B Menetapkan tarikh pilihan raya
- C Mencadangkan syarat kewarganegaraan
- D Mewujudkan perpaduan kaum

33 Maklumat berikut berkaitan dengan reaksi Indonesia terhadap penubuhan Malaysia.

Memburukkan nama Malaysia di negara Afro-Afrika dan negara Dunia Ketiga.

Apakah langkah yang diambil oleh pemimpin Malaysia untuk mengatasi isu tersebut?

- A Menghantar surat bantahan kepada kerajaan Indonesia
- B Mengadakan persidangan memulihkan nama baik Malaysia
- C Memutuskan hubungan diplomatik dengan kerajaan Indonesia
- D Menjelaskan masalah hubungan diplomatik Malaysia dengan Indonesia

34 Apakah sistem pemerintahan yang mengekalkan raja sebagai pemerintah tertinggi negara dan negeri?

- A Republik
- B Komunis
- C Demokrasi
- D Raja Berperlembagaan

[Lihat halaman sebelah

35 Maklumat berikut berkaitan dengan keahlian Dewan Negara dalam Parlimen Malaysia.

- Digelar senator
- Mengandungi 69 orang ahli

Bagaimanakah cara pemilihan Ahli Dewan tersebut?

- A Pelantikan oleh Yang di-Pertuan Agong
 - B Pelantikan oleh Perdana Menteri
 - C Pencalonan dalam kalangan ahli politik
 - D Pengundian melalui pilihan raya
- 36 Agensi kerajaan berikut berada di bawah Kementerian Pembangunan Negara dan Luar Bandar pada tahun 1959.

- *Rural Industrial Development Authority (RIDA)*
- *Federal Land Development Authority (FELDA)*

Apakah peranan agensi kerajaan tersebut?

- A Mengurangkan pergantungan bahan makanan import
- B Melatih bumiputera dalam bidang perindustrian
- C Menumpukan pembangunan luar bandar
- D Mempelbagaikan jenis tanaman

37 Maklumat berikut berkaitan dengan Dasar Penswastaan.

- Memberi garis panduan menjalankan penswastaan
- Penswastaan dilaksanakan secara sepenuhnya atau sebahagian

Maklumat tersebut berkaitan dengan

- A Majlis Gerakan Negara
- B Majlis Perundingan Negara
- C Unit Perancangan Ekonomi
- D Pusat Daya Pengeluaran Negara

38 Senarai berikut menjelaskan tentang kepentingan dasar kerajaan.

- Menyumbangkan kepada kekuatan politik
- Meningkatkan produktiviti
- Meningkatkan perluasan pasaran

X

Apakah X?

- A Dasar Pertanian Negara
- B Dasar Kependudukan
- C Dasar Pensyarikatan
- D Dasar Penswastaan

[Lihat halaman sebelah

39 Apakah kesan persaingan pakatan negara Eropah berikut?

- Pakatan Bertiga
- Perikatan Kuasa Tengah

- A Perang Dingin
- B Perang Pasifik
- C Perang Dunia Kedua
- D Perang Dunia Pertama

40 Negara-negara Islam yang kurang maju seperti Sudan, Nigeria dan Chad telah menerima bantuan daripada Pertubuhan Persidangan Islam (OIC).

Apakah bantuan tersebut?

- A Kewangan
- B Perubatan
- C Pendidikan
- D Keselamatan

KERTAS SOALAN TAMAT