

SULIT
3757/1
Ekonomi
Asas
Kertas 1
Sept 2009
1 jam 15 minit

3757/1

PEPERIKSAAN PERCUBAAN SPM 2009

EKONOMI ASAS

KERTAS 1

1 JAM 15 MINIT

JANGAN BUKA KERTAS SOALAN INI SEHINGGA DIBERITAHU

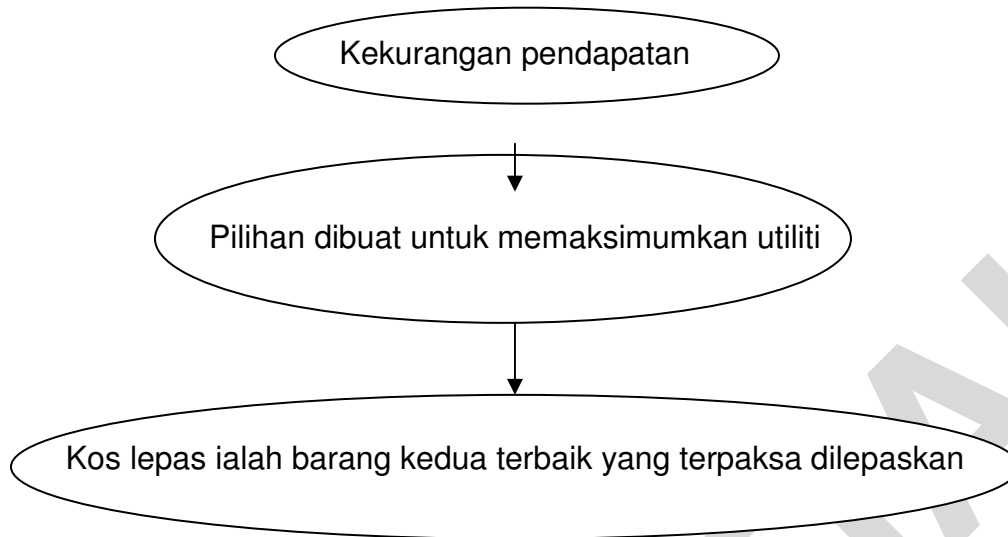
- 1. Kertas soalan ini mengandungi empat puluh soalan**
- 2. Setiap soalan diikuti dengan empat pilih jawapan A, B, C dan D. Pilih jawapan yang paling tepat dan tandakan pada kertas jawapan objektif yang disediakan.**
- 3. Penggunaan kalkulator saintifik yang tidak boleh diprogramkan adalah dibenarkan**

Kertas soalan ini mengandungi 16 halaman bercetak

@PKPSM Pahang

Dapatkan skema Jawapan di Laman

www.banksoalanspm.com



Rajah 1

1. Antara yang berikut, yang manakah dapat menerangkan rajah 1 di atas
- A Masalah ekonomi
 - B Masalah kos kilang
 - C Masalah asas ekonomi
 - D Masalah kekurangan pasaran

2.





**Barang ini tidak mempunyai
Kos lepas**

Antara yang berikut, yang manakah dapat menerangkan jenis barang di atas

- A Air paip
- B Air hujan
- C Air suling
- D Air mineral

Dapatkan skema Jawapan di Laman

3. Antara jenis barang dalam rajah 2 di bawah, yang manakah tidak benar

<p>A</p> <p>SMK Cendana Jaya</p>  <p>Barang Awam</p>	<p>B</p>  <p>Barang Ekonomi</p>
<p>C</p>  <p>Barang Percuma</p>	<p>D</p> <p>Klinik As Syifa'</p>  <p>Barang Awam</p>

Rajah 2

Dapatkan skema Jawapan di Laman

4 Syarikat AHK bercadang untuk mengeluarkan jentera yang inovatif bagi kegunaan syarikat-syarikat minyak di Malaysia. Dijangkakan syarikat ini mampu memasarkan produk mereka sekurang-kurangnya 10 unit sebulan. Apakah faktor yang belum diambil kira oleh syarikat AHK

- A Apakah barang yang hendak dikeluarkan ?
- B Berapakah barang yang hendak dikeluarkan ?
- C Bagaimana barang yang hendak dikeluarkan ?
- D Untuk siapakah barang yang hendak dikeluarkan ?

5

- Masalah agihan barang diselesaikan oleh kuasa beli wang dan kerajaan
- Agihan pendapatan yang tidak setara diselesaikan dengan pemberian subsidi
- Hospital dan sekolah disediakan

Apakah Negara yang mengamalkan sistem ekonomi di atas

- A Amerika Syarikat
- B Korea Utara
- C Arab Saudi
- D Thailand

6 Apakah kelebihan bagi sistem ekonomi oleh Negara Korea Utara ?

- A Rakyat mempunyai kebebasan sepenuhnya dalam membuat keputusan ekonomi
- B Agihan kekayaan adalah lebih adil
- C Kebajikan rakyat tidak terbela
- D Pembaziran sumber

7



Rajah 3

Aktiviti dalam rajah 3 di atas merujuk kepada sektor

- A Utama
- B Kedua
- C Ketiga
- D Sekunder

8 Antara berikut, pasangan yang manakah betul dari segi pekerjaan dengan sektor ekonomi?

	Pekerjaan	Sektor Ekonomi
A	Pegawai Bank	Kedua
B	Arkitek	Ketiga
C	Ahli Geologi	Utama
D	Buruh Binaan	Kedua

9 En. Samsuddin tidak bekerja sendiri dan tidak bekerja dengan orang lain. Antara jenis-jenis pendapatan berikut yang manakah kemungkinan ganjaran yang diterima oleh En. Samsuddin

- A Upah dan faedah
- B Untung dan upah
- C Sewa dan Faedah
- D Upah dan dividen

Dapatkan skema Jawapan di Laman

- 10 Berikut adalah butiran pendapatan dan potongan yang dibuat oleh En. Abdul Rahim

Butiran	RM
Pendapatan tahunan	18 000
Caruman KWSP	1 980
Caruman PERKESO	90
Caruman insuran nyawa	100
Bayaran Zakat	450
Cukai Pendapatan	40

Berapakah jumlah pendapatan bolehguna En. Abdul Rahim?

- A RM15 400
B RM15 440
- C RM15 500
D RM15 540
- 11 Semua perbelanjaan berikut tergolong dalam pelaburan
- I Perbelanjaan pendidikan
 - II Membeli tanah untuk dimajukan
 - III Perbelanjaan membeli saham amanah
 - IV Perbelanjaan membina rumah kediaman
- A I, II dan III
B I, II dan IV
- C I, III dan IV
D I, II III dan IV
- 12 Objektif penggunaan barang-barang dan perkhidmatan oleh Pn. Siti yang merupakan seorang suri rumah ialah
- A Untuk mencapai utiliti maksimum
 - B Untuk mencapai taraf hidup maksimum
 - C Untuk mencapai keuntungan yang maksimum
 - D Untuk memenuhi keperluan dan kehendak maksimum

Dapatkan skema Jawapan di Laman

13

Komputer merupakan barang anjal

Pernyataan yang manakah benar mengenai keanjalan harga permintaan komputer

- A Peratus perubahan harga komputer melebihi peratus perubahan dalam kuantiti yang diminta
- B Peratus perubahan dalam kuantiti diminta terhadap komputer melebihi peratus perubahan harga
- C Peratus perubahan dalam kuantiti diminta terhadap komputer melebihi peratus perubahan pendapatan
- D Peratus perubahan pendapatan melebihi peratus perubahan dalam kuantiti diminta terhadap komputer

14



Rajah 4

Apakah ciri-ciri barang dalam Rajah 4 di atas

- I Tidak anjal permintaan harga
 - II Anjal permintaan harga
 - III Merupakan barang mesti
 - IV Merupakan barang mewah
- | | |
|---|---|
| <ul style="list-style-type: none"> A I dan III B I dan IV | <ul style="list-style-type: none"> C II dan III D II dan IV |
|---|---|

Dapatkan skema Jawapan di Laman

- 15 Maklumat berikut merujuk kepada pekali keanjalan harga bagi komputer dan tepung

	Komputer	Tepung
Pekali Keanjalan	2.1	0.7

Apakah tindakan yang perlu dilakukan oleh peniaga untuk meningkatkan hasil jualan bagi komputer dan tepung

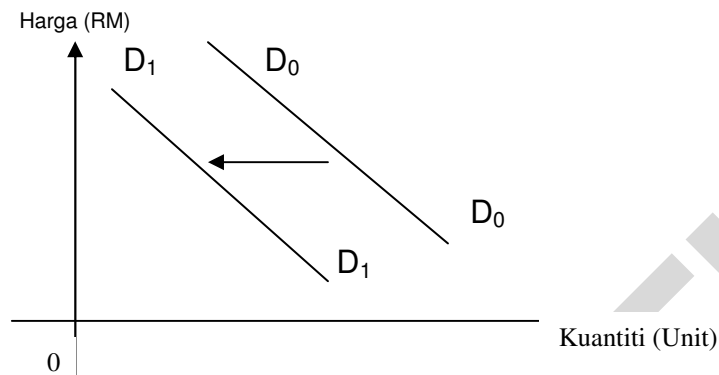
	Komputer	Tepung
A	Naikkan harga	Turunkan harga
B	Turunkan harga	Naikkan harga
C	Turunkan harga	Turunkan harga
D	Naikkan harga	Naikkan harga

- 16 Apabila harga barang X menurun, kuantiti barang Y diminta juga menurun. Apakah barang X dan barang Y

	Barang X	Barang Y
A	Pen	Dakwat
B	kereta	petrol
C	Tepung	Roti canai
D	Teh	kopi

17

Antara berikut, yang manakah menyebabkan keluk permintaan beralih dari D_0 ke D_1 ?



- I Penurunan harga barang itu
- II Penurunan harga barang pengganti
- III Harga barang penggenap naik
- IV Penurunan pendapatan pengguna

- A I, II dan III
- B I, II dan IV

- C I, III dan IV
- D II, III dan IV

18

Berikut ialah kos yang ditanggung oleh seorang pengusaha kilang dalam pengeluaran jangka pendek.

- Sewa kilang
- Pembelian mesin
- Faedah atas pinjaman modal

Tentukan jenis kos tersebut

- A Kos sut
- B Kos tetap

- C Kos purata
- D Kos berubah

Dapatkan skema Jawapan di Laman

- 19 Berikut ialah kos yang terlibat dalam proses pengeluaran sebuah firma.

Kos tetap	RM600
Kos berubah	RM200
Kos purata	RM2

Hitungkan jumlah keluaran firma tersebut

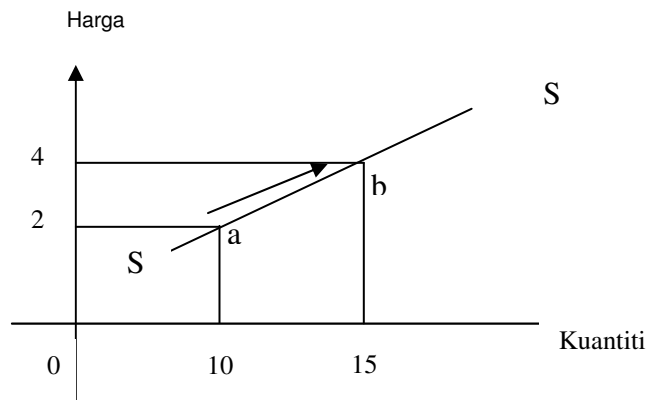
- A 50 unit
B 150 unit
C 200 unit
D 400 unit
- 20 Jadual 1 di bawah menunjukkan peratus perubahan harga dan peratus perubahan kuantiti untuk empat jenis barang

Barang	Peratus Perubahan harga	Peratus perubahan kuantiti ditawarkan
Petroleum	10	12
Kereta	4	2
Gula	20	2
Pakaian	8	8

Barang yang manakah paling anjal?

- A Petroleum
B Kereta
C Gula
D Baju
- 21 Dalam jangka pendek, kenaikan harga minyak kelapa sawit tidak diikuti dengan kenaikan kuantiti penawarannya kerana
- A penawaran minyak kelapa sawit anjal
B permintaan minyak kelapa sawit anjal
C permintaan minyak sawit tidak anjal
D penawaran minyak kelapa sawit tidak anjal

22



Rajah 6

Rajah 6 menunjukkan keluk penawaran satu barang

Faktor yang menyebabkan pergerakan tersebut ialah peningkatan

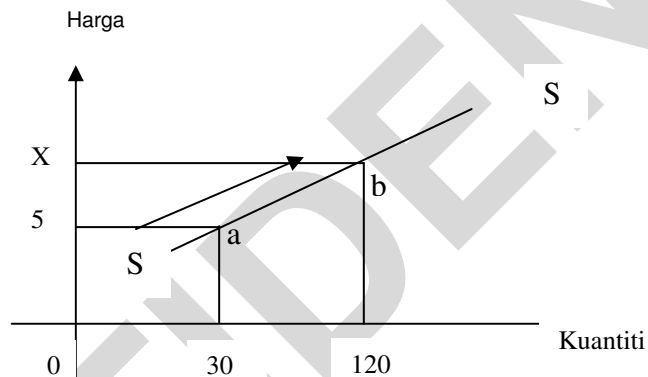
A kos pengeluaran

C harga barang itu

B tingkat teknologi

D jangkaan harga masa depan

23



Rajah 7

Rajah 7 menunjukkan keluk penawaran barang M dalam pasaran. Jika pekali keanjalan harga barang M ialah 2, hitungkan nilai X

A RM10.0

C RM22.50

B RM12.50

D RM23.00

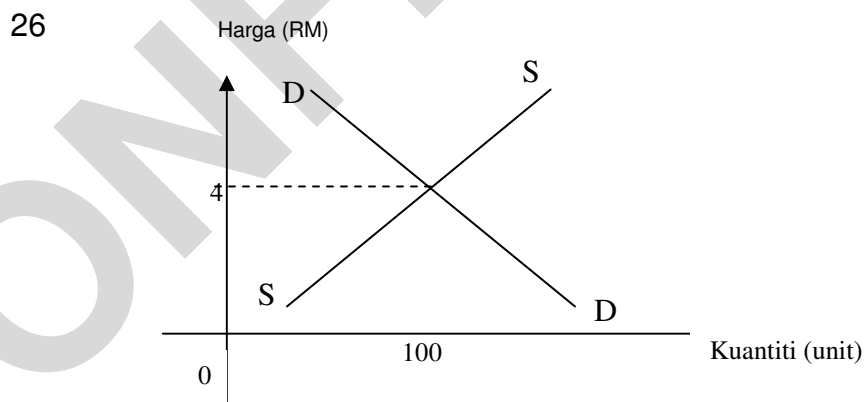
Dapatkan skema Jawapan di Laman

- 24 Jadual 3 menunjukkan kuantiti cakera padat yang diminta oleh Saonah, Isma dan Jelita

Harga Cakera Padat (RM)	Kuantiti yang diminta		
	Saonah	Isma	Jelita
2	3	3	2
3	6	5	4
4	9	7	6
5	12	10	8

Jika kuantiti penawaran pasaran ialah 15 unit, berapakah harga keseimbangan?

- A RM2
B RM3
C RM4
D RM5
- 25 Apakah yang akan terjadi jika tingkat upah kurang daripada upah keseimbangan?
- A kuantiti buruh diminta akan bertambah
B kuantiti buruh ditawarkan akan bertambah
C kuantiti buruh ditawarkan akan berkurangan
D tingkat upah akan jatuh



- Apakah keadaan jika harga pasaran melebihi RM4
- A Kuantiti yang diminta akan berkurangan
B Kuantiti yang ditawarkan akan bertambah
C Harga pasaran cenderung meningkat
D Harga pasaran cenderung untuk menurun

Dapatkan skema Jawapan di Laman 12

27 Antara berikut yang manakah pasangan yang benar?

I	Ganjaran factor pengeluaran	Aliran fizikal
II	Perbelanjaan penggunaan	Aliran Wang
III	Penawaran factor pengeluaran	Aliran Wang
IV	Penawaran barang & perkhidmatan	Aliran fizikal

A I, dan II
B I, dan III

C I dan IV
D III dan IV

28 Antara jenis wang berikut yang manakah diciptakan oleh sistem bank?

A deposit semasa
B surat jaminan kerajaan

C saham dan bon koperat
D wang kertas dan duit syiling

29

Pn. Nora merupakan ibu tunggal yang terpaksa menyara 6 orang anak yang masih kecil. Beliau berminat untuk berniaga kecil-kecilan bagi meringankan beban keluarganya. Beliau ingin mendapat bantuan kewangan daripada Bank Islam Sdn Bhd

Jika anda merupakan pengurus bank tersebut, apakah perkhidmatan yang paling sesuai untuk membantu puan Nora

A Al-Takjiri
B Al-Wadiah

C Al-Qard Al- Hassan
D Al-Bai-Bithaman Ajil

30 "En. Liew merupakan seorang pemborong yang sering membuat pembayaran kepada pembekal"

Apakah akaun yang sesuai En. Liew gunakan

A Akaun semasa
B Akaun tabungan

C Akaun tabungan
D Akaun simpanan tetap

Dapatkan skema Jawapan di Laman 13

- 31 Malaysia memilih untuk tidak terus bergantung kepada sektor utama disebabkan oleh masalah-masalah berikut

- I Pasaran komoditi yang tidak stabil
- II Sumber Negara semakin pupus
- III Peluang pekerjaan tidak tetap
- IV Imbangan dagangan sentiasa negatif

- A I, II dan III
- B I, II dan IV
- C I, III dan IV
- D I, II, III dan IV

32

Perkara	2008 (RM Juta)
Jumlah hasil	147 093
Jumlah perbelanjaan	168799

(Sumber Laporan Ekonomi Malaysia 2008)

Jadual 4 : Belanjawan Negara 2008

Berdasarkan jadual 4 di atas, apakah jenis belanjawan tahun 2008

- A Belanjawan defisit
 - B Belanjawan inflasi
 - C Belanjawan lebihan
 - D Belanjawan seimbang
- 33 Antara berikut, yang manakah merupakan perbelanjaan mengurus
- I Bayaran gaji dan upah kepada kakitangan kerajaan
 - II Pemberian subsidi baja kepada petani
 - III Pelaburan kerajaan dalam projek-projek pembangunan negara
 - IV Pembinaan kem-kem tentera dan bangunan-bangunan polis
- A I, dan II
 - B I, dan III
 - C II dan III
 - D III dan IV

- 34 Antara aktiviti yang berikut, sekatan perdagangan manakah yang mendatangkan hasil kepada kerajaan

- A Duti import yang dikenakan oleh kerajaan Malaysia ke atas kereta mewah
- B Cina mengenakan kuota ke atas import minyak sawit dari Malaysia
- C Malaysia menghadkan penawaran dollar Amerika bagi mengurangkan import dari Amerika Syarikat
- D Malaysia mengenakan embargo ke atas keluaran tenusu dari Cina semasa berlakunya krisis keracunan melamin

Dapatkan skema Jawapan di Laman 14

35

Imbangan Pembayaran Malaysia Defisit

Apakah yang menyebabkan situasi di atas berlaku

- A kejatuhan import barangan modal
- B kenaikan nilai ringgit Malaysia
- C melonggarkan syarat kemasukan pelajar asing ke univarsiti tempatan
- D mengetatkan syarat pengeluaran permit kepada pembantu rumah asing

36 Eksport dan import Malaysia bagi tahun 2006-2008

	2006 (RM Juta)	2007(RM Juta)	2008(RM Juta)
Eksport	588965	605153	663494
Import	480773	504814	521611

(Sumber : Jabatan Perangkaan Malaysia, 2008)

Jadual 5 di atas menunjukkan jumlah eksport dan import dalam akaun dagangan Malaysia pada tahun 2006-2006

Antara yang berikut pernyataan yang manakah benar

- I Harga barang Import telah menurun dan menyebabkan permintaan eksport meningkat sebanyak 35%
 - II Imbangan dagangan pada tahun 2008 adalah positif iaitu sebanyak RM141883 juta
 - III Imbangan dagangan ketiga-tiga tahun tersebut menunjukkan imbangan lebihan
 - IV Jumlah nilai import meningkat sebanyak 45% pada tahun 2007 berbanding tahun 2006
- A I dan II C II dan III
B I dan IV D III dan IV

Dapatkan skema Jawapan di Laman 13

- 37 Antara berikut yang manakah akan menyebabkan nilai ringgit Malaysia naik
- I Petronas Bhd mengurangkan pelaburan diluar negara
 - II Malaysia mengurangkan import kereta dari Jepun
 - III Rakyat Malaysia berminat melancong ke Luar Negara
 - IV Firma asing banyak mendapat banyak kontrak dari syarikat-syarikat di Malaysia
- A I dan II C II dan IV
B I dan III D III dan IV

Soalan 38 hingga 40 adalah berdasarkan maklumat berikut

Pilihan	Pernyataan 1	Pernyataan II
A	Betul	Salah
B	Salah	Betul
C	Salah	Salah
D	Betul	Betul

- 38 I Aliran fizikal tidak melibatkan faktor-faktor pengeluaran
II Aliran Wang terdiri daripada upah, sewa, faedah dan untung
- 39 I Akaun satu dalam KWSP boleh dikeluarkan oleh pekerja untuk tujuan membeli rumah
II Jenis pelaburan yang terbesar oleh KWSP ialah membeli surat jaminan kerajaan
- 40 I Pinjaman pasaran bertujuan membiayai projek pembangunan yang memerlukan perbelanjaan besar
II Sekuriti kerajaan merupakan suatu perjanjian bertulis antara kerajaan dan peminjam

KERTAS SOALAN TAMAT

Dapatkan skema Jawapan di Laman