

**SULIT**  
**3757/2**  
**Ekonomi**  
**Asas**  
**Kertas 2**  
**Sept 2009**  
**2 jam**

**3757/2**

---

---

**PEPERIKSAAN PERCUBAAN SPM 2009**

**EKONOMI ASAS**

**Kertas 2**

**Dua Jam**

---

---

**JANGAN BUKA KERTAS SOALAN INI SEHINGGA DIBERITAHU**

1. *Kertas soalan ini mengandungi dua bahagian : **Bahagian A dan Bahagian B***
2. *Jawab **tiga** soalan daripada **Bahagian A** dan **satu** soalan di **Bahagian B***
3. *Jawapan hendaklah ditulis dalam kertas jawapan yang disediakan*
4. *Markah yang diperuntukkan bagi setiap soalan atau ceraihan soalan ditunjukkan dalam kurungan*
5. *Penggunaan kalkulator saintifik yang tidak boleh diprogramkan adalah dibenarkan*

---

Kertas soalan ini mengandungi 11 halaman bercetak

**[Lihat sebelah**

@PKPSM Pahang


Dapatkan skema Jawapan di Laman

[www.banksoalanspm.com](http://www.banksoalanspm.com)

## Bahagian A

[75 markah]

- 1 (a) Gambar 1 menunjukkan perbualan beberapa orang rakan berkaitan masalah ekonomi.



Gambar 1

Huraikan masalah ekonomi yang dihadapi oleh Negara M dan syarikat JS  
[10 markah]

- (b) Terangkan **tiga** ciri Sistem Ekonomi Islam. [6 markah]
- (c) Maklumat berikut berkaitan sistem ekonomi yang diamalkan oleh sebuah negara.

Pengguna bebas membuat pilihan terhadap barangan dan perkhidmatan manakala firma bebas memilih teknik pengeluaran tetapi perlu mengikut undang-undang dan peraturan. Jurang perbezaan pendapatan dalam kalangan masyarakat dikurangkan melalui sistem cukai dan subsidi.

- (i) Nyatakan sistem ekonomi negara tersebut. [1 markah]
- (ii) Huraikan cara sistem ekonomi di (c) (i) menyelesaikan masalah asas ekonominya. [8 markah]

Dapatkan skema Jawapan di Laman

- 2 (a) Pernyataan berikut tentang kerjaya seorang individu.

Puan Jelita bekerja sebagai guru di Bandar J. Beliau menerima gaji sebanyak RM4 450.00 sebulan.

- (i) Adakah gaji RM4 450.00 itu boleh dianggap sebagai upah benar? Berikan alasan anda. [5 markah]
- (ii) Terangkan **empat** jenis pendapatan lain yang boleh diperoleh oleh Puan Jelita [7 markah]
- (b) Gambar 2 menunjukkan perbualan Puan Naimah dengan anaknya..

Bagus anak mak pandai menyimpan taklah macam mak ni. Gaji mak bulan ni cuma RM1 800 tetapi perbelanjaan mak banyak. Sewa rumah RM400, perubatan RM100, wang saku sekolah abang dan kakak RM200, ansuran kereta RM450, makanan RM500, bil elektrik, air dan telefon RM150, zakat RM50, cukai pendapatan RM70, derma RM40 dan akhbar RM30. Bulan depan mak mesti berjimat-cermat

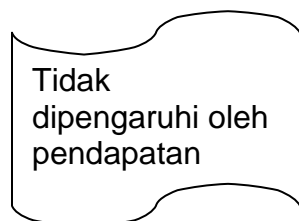


Gambar 2

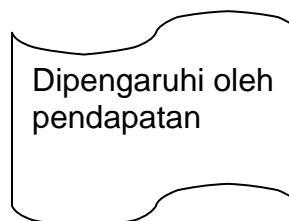
- Sediakan penyata belanjawan peribadi Puan Naimah untuk bulan berikutnya. [5 markah]

Dapatkan skema Jawapan di Laman

- (c) Maklumat berikut berkaitan dengan 2 jenis barang.



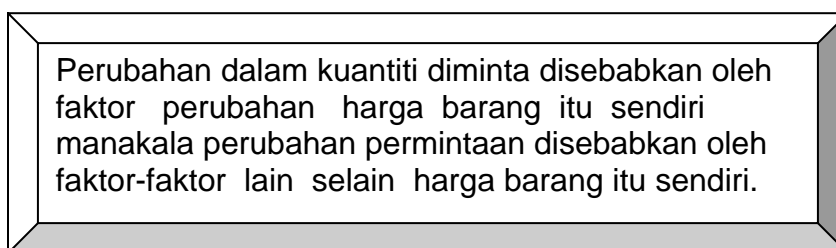
**Barang R**



**Barang S**

Jelaskan **dua** perbezaan lain antara barang R dan barang S. [4 markah]

- (d) Berikut adalah maklumat mengenai perubahan dalam kuantiti diminta dan perubahan permintaan.



Selain perbezaan di atas, jelaskan **dua** lagi perbezaan antara perubahan dalam kuantiti diminta dengan perubahan permintaan. [4 markah]

- 3 (a) Jadual 1 menunjukkan kos pengeluaran sebuah firma pembuatan kraftangan.

Jumlah Keluaran (unit)	Jumlah Kos (RM)	Kos Purata (RM)	Kos Sut (RM)
0	100	-	-
1	150	150	50
2	180	90	30
3	190	<b>W</b>	10
4	250	62.5	60
5	<b>V</b>	66	80
6	430	71.7	<b>X</b>

Jadual 1

Berdasarkan Jadual 1 di atas, hitung :

- (i) Nilai V [2 markah]  
 (ii) Nilai W [2 markah]  
 (iii) Nilai X [2 markah]

Dapatkan skema Jawapan di Laman

- b) Berikut adalah perbualan antara wakil Syarikat Aroma Jaya, Encik Firdaus dengan Encik Shahmi berkaitan peluang pekerjaan yang ditawarkan.

Encik Firdaus : Syarikat kami ingin menawarkan jawatan pegawai pemasaran kepada Encik Shahmi dengan kadar gaji RM2 000 sebulan. Adakah Encik Shahmi bersetuju?

Encik Shahmi : Saya sedia menerima jawatan tersebut tetapi saya mohon agar pihak encik dapat menimbangakan semula kadar gaji tersebut memandangkan keadaan harga barang kini yang makin hari makin meningkat.

Encik Firdaus : Berapa gaji yang Encik Shahmi harapkan?

Encik Shahmi : Kalau boleh RM4 000 sebulan.

Encik Firdaus : Baiklah untuk memuaskan hati kedua-dua pihak, saya bersetuju untuk menawarkan jawatan tersebut dengan gaji RM3 000 sebulan.

Encik Shahmi : Kalau begitu keputusan encik, saya menerima tawaran tersebut dengan hati terbuka.

Dengan menggunakan rajah keluk keseimbangan pasaran, tunjukkan bagaimana upah Encik Shahmi ditentukan. [7 markah]

- c) Terangkan kesan peristiwa berikut ke atas pasaran kereta tempatan (setiap peristiwa adalah berasingan)
- (i) Harga kereta import meningkat [2 markah]
- (ii) Teknologi baru pembuatan kereta digunakan oleh pengeluar kereta tempatan [2 markah]
- (iii) Syarat pinjaman sewa beli kereta diketatkan. [2 markah]
- d) Bezakan antara aliran fizikal dan aliran wang dalam ekonomi dua sektor. [6 markah]



Gambar 3

- 4 a) Terangkan ciri-ciri wang dalam urusan jual beli di atas [7 markah]
- b) Berikut adalah perbualan dua orang individu berkaitan kemudahan pembayaran yang disediakan oleh bank perdagangan.



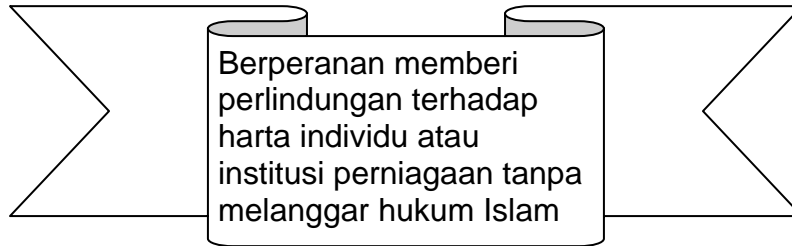
Gambar 4

Jelaskan kemudahan pembayaran dalam perbualan di atas . [6 markah]

Dapatkan skema Jawapan di Laman

[www.banksoalanspm.com](http://www.banksoalanspm.com)

- c) Terangkan fungsi bank pusat sebagai jurubank kepada kerajaan. [8 markah]
- d) Berikut adalah maklumat berkaitan Syarikat TQ.



Terangkan **dua** prinsip yang diamalkan oleh Syarikat TQ. [4 markah]

- 5 a) Berikut adalah sebahagian maklumat mengenai jenis-jenis perbelanjaan kerajaan.

Gaji kakitangan kerajaan  
Pembinaan sekolah  
Bayaran pencen kepada pesara  
Pembelian kapal selam

- (i) Klasifikasikan jenis-jenis perbelanjaan kerajaan tersebut. [2 markah]
- (ii) Jelaskan **dua** perbezaan diantara kedua-dua jenis perbelanjaan di (a) (i) [4 markah]

Gambar di bawah menunjukkan perbualan di antara tiga orang sahabat mengenai keadaan ekonomi semasa.



Gambar 5

- (b) (i) Nyatakan keadaan ekonomi dalam perbualan di atas. [1 markah]
- (ii) Huraikan bagaimana kerajaan melalui belanjawan Negara dapat mengatasi keadaan ekonomi di (b) (i) [6 markah]

Perdagangan antarabangsa telah menggalakkan penkhususan berlaku dan sekaligus memudahkan pengguna tempatan memperoleh barang dari luar. Keadaan ini boleh mengurangkan mobiliti factor antara sesebuah Negara dengan Negara lain

- (c) Pernyataan di atas adalah berkaitan dengan satu keburukan perdagangan antara bangsa.

Terangkan **tiga** keburukan lain perdagangan antarabangsa [6 markah]



- (d) Jadual 2 menunjukkan butiran imbangan pembayaran sesebuah negara dalam tempoh setahun.

<b>Butiran</b>	<b>RM (juta)</b>
Eksport barang nampak	205 776
Import barang nampak	198 345
Pendapatan pelaburan	- 5 094
Perjalanan	3 905
Pengangkutan	1 243
Pindahan bersih	- 2 877
Pelancongan	- 115

Jadual 2

Hitungkan:

- (i) Imbangan akaun dagangan [2 markah]
- (ii) Imbangan akaun perkhidmatan [2 markah]
- (iii) Imbangan akaun semasa [2 markah]

## BAHAGIAN B

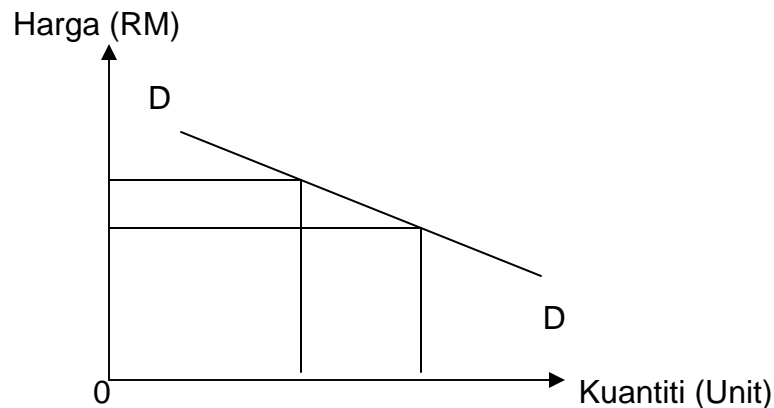
[25 Markah]

*Soalan ini wajib dijawab*

- 6 Encik Ramzan yang baru besara daripada jawatan Pegawai Kerani telah menerima wang ganjaran sebanyak RM 50 000.00. Dengan wang ganjaran itu, beliau bercadang untuk membuka syarikat yang mengeluarkan batik. Walau bagaimanapun beliau juga menghadapi masalah-masalah asas ekonomi lain yang perlu diselesaikan.

Beliau sangat gembira kerana permintaan terhadap batik keluaran syarikatnya semakin meningkat. Tambahan pula kerajaan memberikan kebebasan sepenuhnya kepada pengusaha-pengusaha batik untuk bersaing. Kerajaan juga memberikan sokongan dengan melancarkan kempen pemakaian baju batik setiap hari Khamis.

Kajian yang dibuat oleh pihak pengurusan syarikat mendapat bahawa permintaan terhadap batik keluaran syarikatnya adalah seperti yang ditunjukkan oleh rajah di bawah.



Berdasarkan kajian tersebut, Encik Ramzan telah menaikkan harga batik keluaran syarikatnya untuk meningkatkan keuntungan.

Oleh sebab batik keluaran syarikatnya berkualiti, Encik Ramzan dicadangkan supaya memasarkan batiknya ke luar negara. Walau bagaimanapun beliau tidak bersetuju dengan cadangan tersebut memandangkan jaraknya yang jauh dan kos pengangkutan tinggi. Beliau memutuskan untuk menumpukan perhatian terhadap pasaran dalam negeri.

Dapatkan skema Jawapan di Laman 16

Berdasar situasi tersebut, jawab soalan-soalan berikut:

- (a) (i) Huraikan punca pendapatan Encik Ramzan. [4 markah]
- (ii) Terangkan masalah asas ekonomi lain yang dihadapi oleh syarikat Encik Ramzan. [6 markah]
- (b) (i) Nyatakan sistem ekonomi negara itu. [1 markah]
- (ii) Terangkan dua ciri sistem ekonomi di (b) (i). [4 markah]
- (c) Adakah anda bersetuju dengan tindakan Encik Ramzan untuk meningkatkan keuntungan syarikat?  
Beri alasan anda. [4 markah]
- (d) Jelaskan mengapa Encik Ramzan memilih untuk memasarkan batik dalam negeri berbanding pasaran antarabangsa. [6 markah]

### **SOALAN TAMAT**

Dapatkan skema Jawapan di Laman

[www.banksoalanspm.com](http://www.banksoalanspm.com)