

3755/1
Perdagangan
Kertas 1
September
2009
1 ¼ jam

PEPERIKSAAN PERCUBAAN SPM

PERDAGANGAN
Kertas 1

Satu jam lima belas minit

JANGAN BUKA KERTAS SOALAN INI SEHINGGA DIBERITAHU

1. *Kertas soalan ini mengandungi **40** soalan objektif*
2. *Jawab **semua** soalan*
3. *Jawab dengan menghitamkan ruangan yang betul pada kertas jawapan*
4. *Hitamkan **satu** ruangan sahaja bagi setiap soalan*
5. *Sekiranya anda hendak menukar jawapan, padamkan tanda yang telah dibuat. Kemudian hitamkan jawapan yang baru.*
6. *Penggunaan kalkulator saintifik adalah dibenarkan*

Kertas soalan ini mengandungi 13 muka surat bercetak

@PKPSM Pahang

Dapatkan skema Jawapan di Laman

[LIHAT SEBELAH]

www.banksoalanspm.com

1. Antara berikut, yang manakah merujuk kepada keperluan fisiologi mengikut Abraham Maslow?

- A. Mendapat pendidikan tinggi
- B. Sentiasa mengikut perubahan fesyen
- C. Dipenuhi melalui penghargaan masyarakat
- D. Menikmati kemudahan kesihatan yang mencukupi

2. Apakah maksud pengeluaran?

- A. Proses mengeluarkan barang dengan mesin
- B. Aktiviti yang menghasilkan barang dan perkhidmatan
- C. Aktiviti yang melibatkan penggunaan wang dalam pengeluaran
- D. Proses menghasilkan makanan, pakaian dan tempat perlindungan

3. Berikut adalah maklumat mengenai Dato' Yusof.

Dato' Yusof ialah seorang usahawan yang membuka perusahaan membuat bakul rotan di Keratong, Pahang. Perusahaan ini dapat menambahkan pendapatan penduduk di situ.

Antara berikut, yang manakah peranan beliau sebagai seorang usahawan?

- I Melahirkan ciptaan baru
- II Mewujudkan peluang pekerjaan
- III Meningkatkan penggunaan teknologi
- IV Memenuhi keperluan dan kehendak manusia

- A. I dan II
- B. I dan III
- C. II dan IV
- D. III dan IV

4. Antara yang berikut, manakah kelemahan pengkhususan dalam pengeluaran ?

- I Pekerja menjadi tidak kreatif
- II Peningkatan kos pembelian mesin
- III Barang tidak boleh dijual dengan murah
- IV Proses menghasilkan produk mudah tergendala

- A I, II dan III
- B I, II dan IV
- C I, III dan IV
- D II, III dan IV

Dapatkan skema Jawapan di Laman

5. Maklumat di bawah merujuk kepada satu definisi.

- Melibatkan pengagihan barangan
- Daripada pengeluar kepada pengguna akhir
- Merupakan cabang pengeluaran

Apakah definisi yang sesuai dengan maklumat tersebut?

- A. Perniagaan
- B. Perdagangan
- C. Pengkhususan
- D. Pengagihan

6. Logo di bawah menunjukkan organisasi perniagaan yang terdapat di Malaysia.



Apakah saluran agihan yang diamalkan oleh ketiga-tiga organisasi perniagaan di atas?

- A. Pengeluar → Pengguna
- B. Pengeluar → Pemborong → Peruncit
- C. Pengeluar → Peruncit → Pengguna
- D. Pengeluar → Ejen → Peruncit → Pengguna

7. Maklumat di bawah menunjukkan ciri-ciri suatu perniagaan.

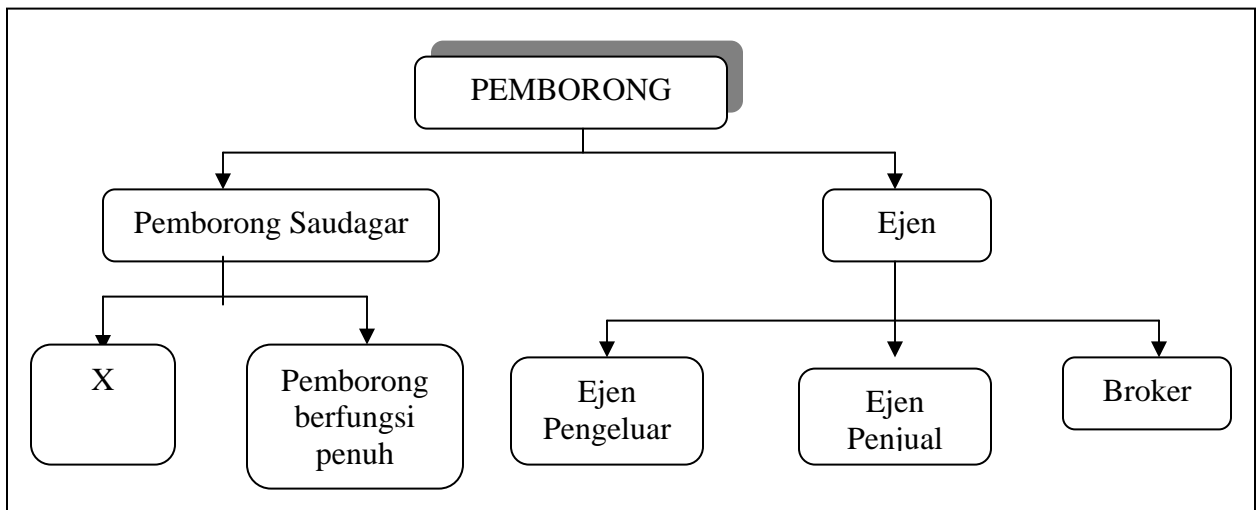
- Wujud kedai rantaian di merata-rata tempat.
- Ditadbir oleh ibu pejabat
- Cawangan melaksanakan dasar perniagaan induk

Antara jenis perniagaan berikut, yang manakah mempunyai ciri-ciri seperti di atas?

- A. Gedung aneka jabatan
- B. Koperasi runcit
- C. Kedai sejaras
- D. Pasar raya

Dapatkan skema Jawapan di Laman

8. Rajah 1 menunjukkan jenis pemborong.



Rajah 1

Apakah jenis pemborong yang mewakili X?

- A. Pemborong am
- B. Pemborong satu barisan
- C. Pemborong bayar dan bawa
- D. Pemborong berfungsi terhad

9. Manakah antara pernyataan berikut menerangkan kaedah jualan yang betul?

	Kaedah Jualan	Cara-cara
A.	Jualan prabayar	Membayar sebelum menggunakan sesuatu
B.	Bayaran sewa beli	Membayar untuk memiliki barangan tahan lama
C.	Jualan konsainan	Membayar secara ansuran
D.	Jualan tunai	Membayar dengan menggunakan kad kredit

10. Maklumat berikut adalah ringkasan data eksport Negara Z.

Jenis eksport	Nilai Eksport (RM juta)
Pertanian	10 000
Pengangkutan dan Insurans	2 500
Pendapatan daripada pelaburan	4 500
Galian	15 000
Barang-barang perkilangan	35 000
Pelancongan	3 000

Berdasarkan maklumat di atas, berapakah perbezaan antara nilai eksport nyata dengan eksport tak nyata?

- A. RM50 000 juta
- B. RM53 000 juta
- C. RM52 000 juta
- D. RM54 500 juta

11. Mengapakah pengeksport menggunakan sijil asal usul?

- A. Mutu piawai barang-barang terjamin
- B. Tempat keluaran barang-barang dieksport
- C. Hak milik barangan pada pihak nakhoda
- D. Kesanggupan pengeksport membayar kos angkutan

12. Maklumat berikut berkaitan dengan IKS dengan industri berat.

Proton ialah syarikat pengeluaran kereta Proton Saga. Namun banyak komponen kereta dan alat ganti kereta itu telah dikeluarkan oleh Industri Kecil dan Sederhana (IKS) secara subkontrak. Bantuan juga diberi oleh proton kepada IKS bagi membolehkan mereka mengeluarkan komponen itu mengikut spesifikasi yang dikehendaki.

Hubungan jalinan di antara Proton dan IKS juga dikenali sebagai

- A. dua hala
- B. anchor dan vendor
- C. hiliran dan huluan
- D. industri berat dan IKS

Dapatkan skema Jawapan di Laman

13. Jadual di bawah menunjukkan cara-cara X dan Y memulakan perniagaan.

X	Y
<ul style="list-style-type: none"> • Membuat perjanjian dengan peniaga lain • Menggunakan jenama peniaga lain • Mematuhi syarat-syarat yang dipersetujui 	<ul style="list-style-type: none"> • Mengenal pasti sesuatu perniagaan yang sedia wujud • Membeli aset dan menjelaskan liabiliti perniagaan berkenaan

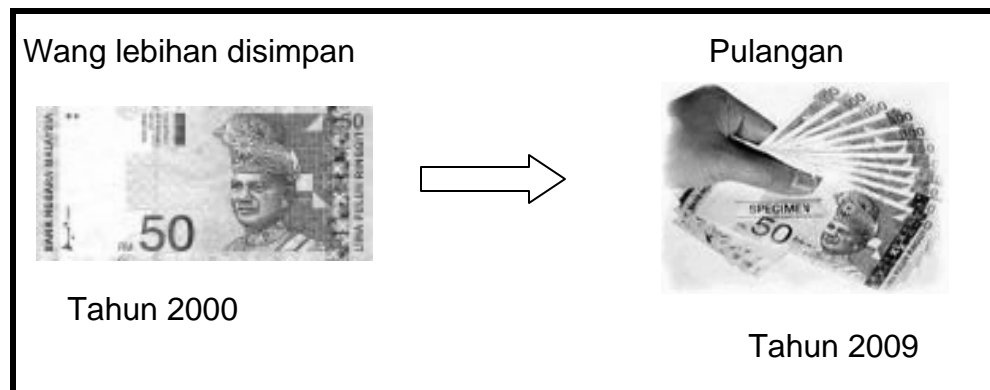
Bagaimanakah X dan Y memulakan perniagaannya?

- A. Francais dan warisan
- B. Diundang dan francais
- C. Francais dan pengambilalihan
- D. Memulakan sendiri dan warisan

14. Koperasi SMK Taman Hijau memperoleh lebih sebanyak RM15 000 pada tahun semasa. RM5 000 dicadangkan sebagai rizab dan selebihnya diagihkan sebagai rebat. Jumlah belian anggota pada tahun berkenaan ialah RM25 000. Berapakah jumlah rebat yang akan diterima oleh anggota bagi setiap pembelian RM1?

- A. RM0.10
- B. RM0.20
- C. RM0.30
- D. RM0.40

15. Gambar 1 berkaitan dengan suatu aktiviti yang berupaya meningkatkan ekonomi.



Gambar 1

Apakah aktiviti tersebut?

- A. Pelaburan
- B. Perniagaan
- C. Perdagangan
- D. Pembiayaan

Dapatkan skema Jawapan di Laman

16. Pernyataan yang manakah berkaitan dengan kadar dividen syer keutamaan?

- A. Kadar dividen tinggi jika syarikat memperoleh untung
- B. Kadar dividen tidak tetap semasa syer tersebut diterbitkan
- C. Kadar dividen telah ditetapkan semasa syer tersebut diterbitkan
- D. Kadar dividen berubah setiap tahun mengikut keuntungan syarikat


17. RM10000 telah dimenangi oleh Shamsul. Apakah nasihat yang anda boleh berikan kepada Shamsul sekiranya beliau ingin membuat pelaburan ?

- I Mendapatkan jaminan pulangan yang diperoleh
 - II Mendapat maklumat pelaburan yang lengkap
 - III Mengetahui hak-hak pelabur
 - IV Mempertimbangkan risiko yang akan dihadapi
- A I dan II
 - B I dan III
 - C II dan IV
 - D III dan IV

18. Antara berikut yang manakah bank badan berkanun?

- A.  BSN
- B.  Bank Muamalat
- C.  BANK ISLAM
- D.  CIMB BANK

19. Gambar 2 menunjukkan sekeping cek.



Gambar 2

Apakah jenis cek yang diterima oleh C.Che Anizan?

- A. Cek terbuka
 - B. Cek pembawa
 - C. Cek berpaling
 - D. Cek kosong
20. "Pendahuluan diberi oleh sebuah syarikat kewangan berdasarkan invoice jualan yang dikemukakan oleh pelanggan." Apakah kaedah pemberian kredit tersebut?
- A. Pajakan
 - B. Sewa beli
 - C. Pemfaktoran
 - D. Skim ansuran
21. Maklumat berikut berkaitan dengan jenis risiko.

Syarikat Muslimah Sdn Bhd mengeluarkan pelbagai jenis pakaian berfesyen wanita untuk memenuhi citarasa wanita masa kini. Syarikat berkenaan ingin melindungi dirinya terhadap pelbagai risiko kerugian.

Antara yang berikut, manakah risiko yang boleh diinsuranskan oleh Syarikat Muslimah Sdn Bhd?

- A. Risiko hutang lapuk
- B. Risiko perubahan fesyen
- C. Risiko ketidakjujuran pekerja
- D. Risiko kemerosotan permintaan

Dapatkan skema Jawapan di Laman


22. Maklumat berikut berkaitan dengan prinsip insurans.

Encik Leiw menginsurankan rumahnya sebanyak RM600 000 setiap satu daripada tiga buah syarikat insurans. Apabila rumahnya musnah akibat kebakaran, setiap syarikat insurans hanya membayar RM200 000 masing-masing.

Apakah prinsip tersebut?

- A. Prinsip sumbangan
- B. Prinsip subrogasi
- C. Prinsip penuh percaya mutlak
- D. Prinsip doktrin sebab hampiran

23. Berikut adalah dialog antara suami dan isteri.



Apakah perlindungan yang dimaksudkan oleh Encik Mawil?

- I Kerosakan dan kemusnahan kapal terbang
- II Kerosakan kargo dan barang
- III Liabiliti terhadap penumpang dan anak kapal
- IV Liabiliti terhadap pihak ketiga

- A. I, II dan III
- B. I, II dan IV
- C. II, III dan IV
- D. I, II, III dan IV

Dapatkan skema Jawapan di Laman

24. Pengeluaran dapat dijalankan secara besar-besaran dengan adanya pengangkutan. Apakah kesan perkembangan tersebut kepada pengguna?
- A. Mengurangkan pembaziran
 - B. Mengurangkan harga barang
 - C. Mengurangkan kos pengeluaran
 - D. Mengurangkan kos simpanan stok
25. Mengapakah pengeksport menggunakan kontena untuk menghantar barang ke luar negara walaupun kosnya tinggi?
- I Kos insurans adalah rendah
 - II Kerja pemunggahan yang mudah
 - III Boleh membawa semua jenis barang
 - IV Kos sewa gudang dan bayaran cukai pelabuhan rendah
- A. I, II dan III
 - B. I, II dan IV
 - C. I, III dan IV
 - D. II, III dan IV
26. Antara berikut, manakah alat pembayaran yang tidak memerlukan pengirim mengisi borang permohonan?
- A. Wang pos malaysia
 - B. Kiriman wang ekspres
 - C. Kiriman wang domestik
 - D. Kiriman wang antarabangsa
27. Antara berikut, yang manakah kebaikan menggunakan teleks sebagai alat komunikasi?
- I Maklumat yang diterima siap dicetak
 - II Maklumat diterima dengan pantas
 - III Dapat menggunakan talian telefon awam
 - IV Maklumat yang diterima disebarkan secara serentak
- A. I, II dan III
 - B. I, II dan IV
 - C. I, III dan IV
 - D. II, III dan IV
28. Berikut adalah beberapa cara pergudangan membantu perdagangan **kecuali**
- A. Mengurangkan kos promosi
 - B. Menstabilkan harga barangan
 - C. Menjamin bekalan yang berterusan
 - D. Membolehkan pengeluaran secara berterusan

29. Apakah tujuan penggunaan stok penimbal dalam gudang Padi Beras Nasional Berhad (BERNAS).

- I Menjamin bekalan beras yang cukup dan berterusan
 - II Menstabilkan harga beras
 - III Meningkatkan kualiti beras
 - IV Memudahkan eksport beras
- A. I dan II
B. II dan III
C. III dan IV
D. I dan IV

30. Ciri-ciri gudang penyetoran sejuk ialah

- I terletak di pintu masuk negara
 - II menyimpan barang-barang mudah rosak
 - III menyimpan barang-barang pukal
 - IV menyimpan barang-barang keperluan harian
- A. I dan II
B. I dan III
C. II dan IV
D. III dan IV

31. Antara berikut, yang manakah merupakan tujuan utama seorang pengeluar mengadakan promosi untuk produk barunya?

- A. Memperkenalkan barang dan perkhidmatan
B. Meningkatkan jualan dan keuntungan
C. Menaikkan imej syarikat
D. Menyaingi pesaing

32. Apakah kelebihan publisiti berbanding pengiklanan?

- A. Maklumat terus boleh diperolehi daripada pelanggan
B. Maklumat tentang barang mudah diperolehi
C. Maklumat yang disampaikan boleh dikawal
D. Maklumat yang disampaikan lebih dipercayai

33. Berikut adalah maklumat mengenai pemilik sebuah pusat tuisyen.

Encik Badrul ialah seorang pemilik Pusat Tuisyen Intelek di Bandar Muadzam Pahang. Pusat ini baru beroperasi pada tahun 2009. Beliau ingin mempromosikan pusat tuisyennya kepada murid di kawasan sekitar dengan kos pengiklanan yang rendah.

Apakah media pengiklanan yang paling sesuai?

- A. Internet
- B. Sepanduk
- C. Surat Khabar
- D. Halaman Kuning

34. Apakah faktor yang perlu dipertimbangkan oleh peniaga semasa memilih media pengiklanan?

- I Keuntungan jualan
 - II Sasaran pengguna
 - III Jenis barangan
 - IV Luas pasaran
- A. I, II dan III
 - B. I, II dan IV
 - C. I, III dan IV
 - D. II, III dan IV

35. Antara agensi kerajaan berikut, yang manakah menjalankan penyelidikan dan pembangunan?

- A. MARDI dan MATRADE
- B. SIRIM dan MARDI
- C. PORIM dan MEDEC
- D. MARA dan UDA

36. Berikut adalah agensi kerajaan yang terlibat dalam latihan dan pengurusan untuk meningkatkan kemahiran peniaga dan pengusaha dalam pengurusan perniagaan atau institusi mereka **kecuali**

- A. UDA Holdings Berhad (UHB)
- B. Majlis Amanah Rakyat (MARA)
- C. Perbadanan Produktiviti Negara (NPC)
- D. Perbadanan Pembangunan Industri Kecil dan Sederhana (SMIDEC)

Dapatkan skema Jawapan di Laman

37. Antara yang berikut yang manakah berkaitan dengan bantuan yang diberikan oleh kerajaan oleh pengeluar tempatan?

- A. Menubuhkan SIRIM
- B. Memberi pelepasan cukai
- C. Mengenakan duti eksport
- D. Memberi kemudahan overdraf

38. Antara berikut yang manakah **bukan** hak pengguna?

- A. Hak bersuara
- B. Hak mendapat maklumat
- C. Hak mendapat ganti rugi
- D. Hak menentukan harga barang

39. Antara yang berikut, yang manakah tanggungjawab pengeluar?

- I Menyenaraikan bahan kandungan yang digunakan
 - II Menjual barang dengan harga yang berpatutan
 - III Menggubal kod etika amalan perniagaan
 - IV Menggunakan timbangan yang betul
- A. I, II dan III
 - B. I, II dan IV
 - C. I, III dan IV
 - D. II, III dan IV

40. Situasi berikut merujuk kepada masalah yang dihadapi oleh pengguna.

Puan Jelita telah membeli sejenis krim muka berjenama X. Setelah menggunakan selama tujuh hari, beliau mendapati kulit mukanya kering dan mengelupas.

Pihak yang manakah boleh membantu Puan Jelita untuk mendapatkan ganti rugi?

- A. Tribunal Tuntutan Pengguna
- B. Kementerian Kesihatan
- C. Persatuan pengeluar
- D. Persatuan Pengguna

KERTAS SOALAN TAMAT

Dapatkan skema Jawapan di Laman

www.banksoalanspm.com