

1249/1
Sejarah
Kertas 1
September.
2009
1 jam

No. Kad Pengenalan

--	--	--	--	--	--	--	--	--	--	--	--	--	--	--	--	--	--	--	--

Angka Giliran

--	--	--	--	--	--	--	--	--	--	--	--	--	--	--	--	--	--	--	--

PEPERIKSAAN PERCUBAAN SPM 2009.

SEJARAH

Kertas 1

Satu jam

JANGAN BUKA KERTAS SOALAN INI SEHINGGA DIBERITAHU

Arahan AM :

1. *Tiap-tiap soalan diikuti oleh empat pilihan jawapan iaitu A , B , C , dan D.*
2. *Pilih satu jawapan terbaik bagi tiap-tiap soalan.*
3. *Jawab semua soalan.*

Kertas ini mengandungi 13 halaman bercetak

@PKPSM Pahang

Dapatkan skema Jawapan di Laman

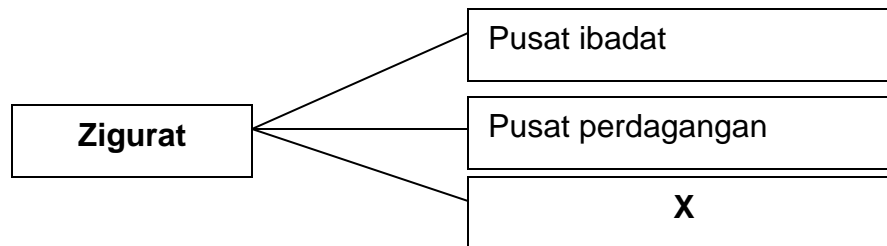
www.banksoalanspm.com

1

- Syed Naquib al-Attas
- Richard Sullivan

Apakah persamaan kedua-dua sarjana di atas berkenaan konsep tamadun?

- A Merangkumi keadilan dan kesempurnaan
- B Merangkumi pembangunan lahiriah
- C Merangkumi pembangunan rohaniah
- D Merangkumi pembangunan lahiriah dan kerohanian



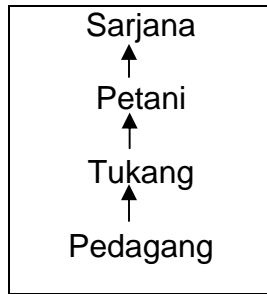
2 Rajah di atas menunjukkan fungsi Zigurat dalam tamadun Mesopotamia. X ialah

- A kerajaan pusat
- B pusat bandar
- C pusat pentadbiran
- D pusat penyimpanan khazanah negara

3 Apakah prinsip utama yang menjadi teras perundangan Tamadun China pada zaman Dinasti Chin?

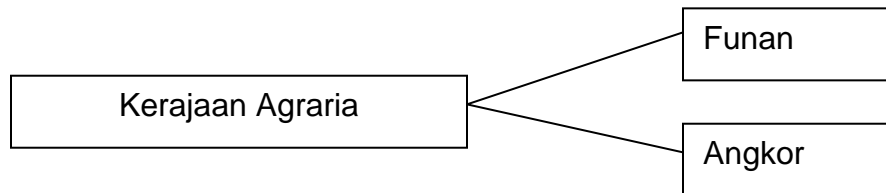
- I Hukuman berat
- II Bersifat kolektif
- III Sebagai pemulihan
- IV Keputusan pembesar

- A I dan II
- B II dan III
- C III dan IV
- D I dan IV



- 4 Rajah di atas merujuk kepada struktur masyarakat mengikut ajaran Confucius.
Mengapakah Confucius meletakkan golongan petani dalam status yang lebih tinggi?

- A Golongan petani merupakan golongan yang kaya
- B Golongan petani lebih berilmu pengetahuan
- C Golongan petani lebih taat setia kepada raja
- D Golongan petani merupakan tulang belakang ekonomi



- 5 Perkembangan pertanian kerajaan-kerajaan tersebut dipengaruhi oleh
- A tenaga buruh yang ramai
 - B kedudukan yang strategik
 - C sistem pengairan yang baik
 - D teknik pertanian yang moden
- 6 Apakah manfaat masyarakat maritim yang mempunyai kemahiran membuat perahu dan kapal layar dalam kerajaan awal di Asia Tenggara?
- A Membentuk kerajaan berasaskan aktiviti kelautan
 - B Menggalakkan aspek penerokaan dan penjelajahan
 - C Menjadi sumber pekerjaan utama penduduk pesisir pantai
 - D Menjadi tumpuan para pedagang memperbaiki kerosakan kapal

Pada 6 Ogos tahun 610M., bersamaan 17 Ramadhan, wahyu yang pertama telah diturunkan kepada Nabi Muhammad s.a.w. menerusi Jibril.

- 7 Apakah implikasi turunnya wahyu tersebut?
- A Pengisytiharan Nabi Muhammad s.a.w. sebagai pesuruh Allah
 - B Bermula era baru dalam sejarah tamadun masyarakat Arab Jahiliah
 - C Berlaku penghijrahan Nabi Muhammad s.a.w. ke Madinah
 - D Penyebaran dakwah Islamiah secara terbuka
- 8 Apakah langkah yang diambil oleh Nabi Muhammad s.a.w. untuk mengurangkan tekanan dan penindasan kaum Quraisy terhadap Islam?
- I berhijrah ke Habsyah
 - II berhijrah ke Taif
 - III berhijrah ke Syam
 - IV berhijrah ke Madinah
- A I dan II
 - B II dan III
 - C III dan IV
 - D I dan IV

Tarikh	Peristiwa
621 Masihi	Perjanjian Aqabah Pertama

- 9 Apakah isi penting Perjanjian Aqabah Pertama di atas?
- A Orang Madinah memeluk agama Islam
 - B Orang Madinah menjemput Nabi Muhammad s.a.w. ke Madinah
 - C Orang Madinah menjamin keselamatan Nabi Muhammad s.a.w.
 - D Orang Madinah berjanji akan beriman kepada Allah

Pembukaan semula kota Makkah

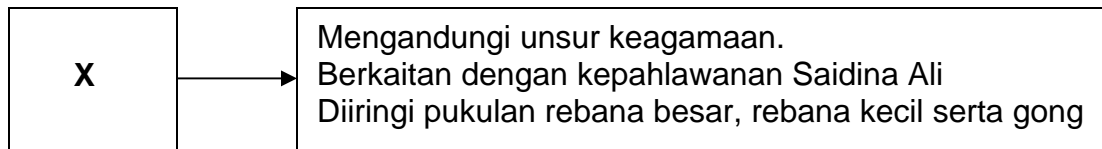
- 10 Apakah faktor utama yang membawa kepada kejayaan pembukaan semula kota Makkah?
- A Pengislaman Abu Suffian dan Abbas
 - B Bertawaf sebanyak tujuh kali mengelilingi Kaabah
 - C Jaminan keselamatan kepada mereka yang terkepung
 - D Sifat pemaaf Nabi Muhammad s.a.w.
- 11 Bagaimanakah Saidina Umar bin al-Khattab dilantik menjadi khalifah?
- A Melalui musyawarah atau syura
 - B Melalui cadangan satu nama sahaja
 - C Melalui pemilihan daripada beberapa calon
 - D Melalui pencalonan oleh sekelompok masyarakat
- 12 Antara berikut yang manakah merupakan punca perpecahan masyarakat Islam semasa pemerintahan Khalifah Abu Bakar al-Siddiq?
- I Kewujudan orang Islam yang murtad
 - II Kewujudan gerakan golongan al-Riddah
 - III Kewujudan golongan mawali
 - IV Kewujudan tentera Parsi dan Rom
- A I dan II
 - B II dan III
 - C III dan IV
 - D I dan IV

- Kerajaan Bani Abbasiyah
- Kerajaan Turki Uthmaniyah

- 13 Apakah persamaan kedua-dua buah kerajaan dalam pengubahsuaian sistem pemerintahan berasaskan Islam di Asia Tenggara?
- A Memperkenalkan institusi kesultanan
 - B Memperkenalkan amalan protokol
 - C Memperkenalkan Adat Perpatih
 - D Memperkenalkan Adat Temenggung

Dapatkan skema Jawapan di Laman [Lihat sebelah

- 14 Islam telah mempengaruhi sistem ekonomi masyarakat Asia Tenggara sejak dahulu lagi.
Apakah nilai-nilai murni yang disarankan dalam bidang ekonomi?
- A Amalan riba
 - B Berjimat cermat
 - C Mencari rezeki yang tidak halal
 - D Perbuatan mengemis

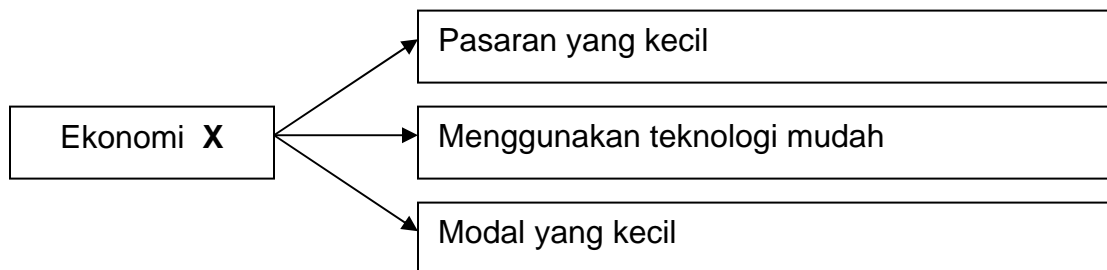


- 15 X merujuk kepada
- A Seni dikir
 - B Puisi Ghazal
 - C Tarian Dabus
 - D Nyanyian Nazam

*Seikat seperti sirih
Serumpun seperti serai
Sedencing seperti besi*

- 16 Apakah nilai murni yang ditekankan melalui kata-kata perbilangan di atas?
- A Perpaduan
 - B Kerjasama
 - C Persahabatan
 - D Bermasyarakat

- 17 Mengapakah masyarakat Eropah mengalami Zaman Gelap?
- I Kemerosotan perdagangan
 - II Kemerosotan sistem feodal
 - III Kemerosotan golongan baron
 - IV Kemerosotan ilmu pengetahuan
- A I dan II
 - B II dan III
 - C III dan IV
 - D I dan IV
- 18 Pada tahun 1842, Akta Lombong telah digubal bagi melindungi kepentingan pekerja di Britain. Antara pernyataan berikut yang manakah berkaitan dengan akta tersebut?
- A Penggunaan mesin ditegah
 - B Pengambilan buruh mahir ditingkatkan
 - C Melarang wanita bekerja di lombong arang batu
 - D Melarang kanak-kanak bawah sembilan tahun bekerja



- 19 Aktiviti ekonomi **X** menghasilkan pengeluaran dalam skala yang kecil. Apakah ekonomi **X**?
- A perdagangan
 - B sara diri
 - C komersial
 - D dwi ekonomi

Seorang buruh
dari China

“Pada mulanya saya diambil oleh *kheh-thau*. Selepas itu saya buat perjanjian untuk bekerja dengan majikan bagi menjelaskan hutang saya.”

- 20 Merujuk kata-kata di atas, buruh tersebut datang ke Tanah Melayu melalui
- A Sistem Kontrak
 - B Sistem Tiket Kredit
 - C Sistem Pengambilan Kakitangan
 - D Sistem Pengambilan Rumah Kongsi

- Portugal
- Sepanyol

- 21 Negara-negara barat di atas melaksanakan dasar inperialismenya di Asia Tenggara pada kurun ke-16. Apakah tujuan asal dasar tersebut?
- A Meluaskan tanah jajahan
 - B Menguasai perdagangan rempah ratus
 - C Menyebarkan agama Kristian
 - D Mentamadunkan penduduk Asia Tenggara

Tahun	Peristiwa
1932	Revolusi Thai

- 22 Apakah implikasi peristiwa di atas kepada Thailand?
- A Menukar nama Siam kepada Thailand
 - B Menamatkan sistem raja berkuasa mutlak
 - C Thailand menjadi sebuah negara berdaulat
 - D Berakhirnya penguasaan ekonomi oleh orang China

Dapatkan skema Jawapan di Laman [Lihat sebelah

- 23 Mengapakah Rentap menyerang pasukan James Brooke di Nanga Skrang?
- A Menghalau James Brooke
 - B Membunuh James Brooke
 - C Menyekat pengaruh James Brooke
 - D Menghalang kezaliman James Brooke
- 24 Apakah faktor luar yang mempengaruhi nasionalisme di Tanah Melayu sebelum Perang Dunia Kedua?
- I Kesedaran politik di Tanah Melayu
 - II Gerakan Pan-Islamisme Sedunia
 - III Gerakan ideology komunis sedunia
 - IV Pengaruh Siam yang mampu mengekalkan kedaulatannya
- A I dan II
 - B II dan III
 - C III dan IV
 - D I dan IV
- 25 Mengapakah Kesatuan Melayu Muda (KMM) dianggap sebagai pertubuhan politik pertama di Tanah Melayu?
- A Diasaskan oleh tokoh politik tempatan
 - B Berjaya menganjur Kongres Melayu
 - C Pertubuhan Melayu yang bersifat kebangsaan
 - D Memulakan perjuangan kebebasan daripada penjajahan
- 26 Apakah ciri keistimewaan pembentukan kerajaan Islam di Madinah berbanding proses pembentukan negara bangsa di Eropah?
- A Penyatuan melalui prinsip Islam
 - B Dijayakan oleh khalifah
 - C Hanya memberi tumpuan kepada umat Islam
 - D Menolak segala fahaman yang berunsur Barat

- 27 Sultan Muhammad II membentuk Sistem Jemaah Menteri untuk memperkemas sistem pentadbiran di Kelantan. Antara berikut, yang manakah berkaitan dengan Sistem Jemaah Menteri?
- A Setiap badan Jemaah Menteri diketuai oleh kerabat diraja
 - B Setiap Jemaah Menteri dianggotai oleh empat pembesar
 - C Menteri menentukan bidang kuasa Sultan Kelantan
 - D Menteri berkuasa mutlak dalam pentadbiran
- 28 Orang Melayu telah mengadakan rapat umum bagi menunjukkan bantahan terhadap Malayan Union kepada ahli-ahli parlimen British. Siapakah ahli parlimen British yang dimaksudkan dalam pernyataan di atas?
- I Sir Harold Briggs
 - II L.D. Gammans
 - III David Reese Williams
 - IV Sir Edward Gent
- A I dan II
 - B II dan III
 - C III dan IV
 - D I dan IV
- 29 Permuafakatan dan kegigihan Raja-raja Melayu berserta pembesar Melayu dalam memperjuangkan hak dan ketuanan Melayu diibaratkan seperti peribahasa
- A Bagai menatang minyak yang penuh
 - B Bagai bulan jatuh ke riba
 - C Bagai aur dengan tebing
 - D Bagai ular meyusur akar

- *Rukun Tiga Belas*
- *Rosli Dhobi*

30 Gerakan penentangan di atas telah berlaku di Sarawak namun tidak berjaya. Mengapa?

- A Kesedaran kebangsaan di Sarawak merosot
- B Kedudukan British di Sarawak terlalu kukuh
- C Pemimpin Sarawak tidak bersatu
- D Gerakan tidak mendapat sokongan penduduk tempatan

Perpaduan kaum adalah asas kemerdekaan bagi Tanah Melayu.
Dato` Onn bin Ja`afar

31 Berdasarkan pernyataan di atas, apakah langkah pertama tokoh di atas ke arah kemerdekaan Tanah Melayu?

- A Menerima ahli bukan Melayu ke dalam UMNO
- B Memulakan rundingan dan kerjasama dengan kaum lain
- C Mencalonkan Tunku Abdul Rahman sebagai penggantinya
- D Membubarkan UMNO untuk menubuhkan parti pelbagai kaum

Tarikh	Peristiwa
Februari 1956	Rombongan Kemerdekaan

32 Apakah hasil yang dibawa pulang oleh rombongan di atas dari London?

- A Perpaduan kaum
- B Tanah Melayu mendapat kemerdekaan
- C Pengiktirafan gabungan UMNO-MCA-MIC
- D Suruhanjaya mengkaji perlembagaan baru Tanah Melayu

Dapatkan skema Jawapan di Laman [Lihat sebelah

Sultan Brunei : Beta bersetuju dengan Gagasan Malaysia
Pembesar : Tapi tuanku, ada sebuah parti yang menentang.

33. Berdasarkan dialog di atas, siapakah pemimpin parti tersebut?

- A A.M. Azahari
- B Donald Stephen
- C Datu Mustapha
- D Temenggung Jugah

Ganyang Malaysia – 20 Januari 1963

34. Hubungan tegang antara Malaysia dan Indonesia telah tamat apabila peristiwa di atas dihentikan oleh Indonesia.
Apakah yang menamatkan peristiwa di atas?

- A Kekalahan Indonesia
- B Kejatuhan Soekarno
- C Campurtangan Amerika Syarikat
- D Arahan Pertubuhan Bangsa-Bangsa Bersatu

35. Perlembagaan merupakan undang-undang tertinggi.
Apakah peranan perlembagaan?

- A Menentukan kesahihan undang-undang
- B Menjamin kestabilan sesebuah negara
- C Membuat pembahagian kuasa
- D Melindungi kepentingan rakyat

36 Antara berikut, yang manakah menerangkan bidang kuasa Yang di-Pertuan Agong?

- I Melantik wakil rakyat
 - II Melantik Perdana Menteri
 - III Mengisytiharkan undang-undang darurat
 - IV Menggubal dasar-dasar kerajaan
-
- A I dan II
 - B II dan III
 - C III dan IV
 - D I dan IV

Rukun Negara - Diisytihar pada 31 Ogos 1970

37 Berdasarkan pernyataan di atas, Rukun Negara merupakan ideologi negara untuk

- A dijadikan panduan dalam menghadapi kehidupan bermasyarakat
- B dihayati dan dijadikan amalan dalam kehidupan harian
- C dibanggai kerana merupakan identiti bangsa yang merdeka
- D diyakini sebagai cara hidup ke arah kesejahteraan rakyat

Cabaran kelima

<i>Mewujudkan masyarakat yang matang, liberal, dan bertoleransi.</i>
--

38 Apakah yang dapat dikaitkan dengan pernyataan di atas?

- I Tidak bertindak melulu
 - II Sedia menerima perubahan
 - III Sentiasa bersifat terbuka
 - IV Bangga dengan apa yang dicapai
-
- A I dan II
 - B II dan III
 - C III dan IV
 - D I dan IV

- 39 Apakah matlamat penubuhan Pertubuhan Persidangan Islam (OIC)?
- A Mengekalkan keamanan dunia
 - B Membina semangat setia kawan dalam kalangan negara anggota
 - C Mengeratkan hubungan sesama negara Islam
 - D Menggalakkan hubungan berbaik-baik antara negara anggota
- 40 Selain memberi sumbangan dalam Pertubuhan Persidangan Islam (OIC), Malaysia turut mendapat bantuandariptada pertubuhan ini. Antara berikut, manakah hasil bantuan daripada OIC?
- I Bank Islam
 - II Pusat Islam
 - III Lembaga Tabung Haji
 - IV Universiti Islam Antarabangsa Malaysia
- A I dan II
 - B II dan III
 - C III dan IV
 - D I dan IV

KERTAS SOALAN TAMAT