

SULIT

1249/1  
Sejarah  
Kertas 1  
Ogos  
2011  
1 jam



BAHAGIAN PENGURUSAN  
SEKOLAH BERASRAMA PENUH DAN SEKOLAH KECEMERLANGAN  
KEMENTERIAN PELAJARAN MALAYSIA

---

PEPERIKSAAN PERCUBAAN  
SIJIL PELAJARAN MALAYSIA 2011

---

SEJARAH  
Kertas 1  
Satu jam

---

JANGAN BUKA KERTAS SOALAN INI SEHINGGA DIBERITAHU

1. *Kertas soalan ini mengandungi 40 soalan.*
2. *Jawab semua soalan.*
3. *Tiap-tiap soalan diikuti oleh empat pilihan jawapan, iaitu A, B, C dan D. Bagi setiap soalan, pilih satu jawapan sahaja. Hitamkan jawapan anda pada kertas jawapan objektif yang disediakan.*
4. *Jika anda hendak menukar jawapan, padamkan tanda yang telah dibuat. Kemudian hitamkan jawapan yang baru.*

---

Kertas soalan ini mengandungi 12 halaman bercetak

**SULIT**

2

1249/1

1. Mengapakah wujudnya **sistem barter** pada Zaman Neolitik.?
- A. Keupayaan berfikir
  - B. Keupayaan meleburkan logam
  - C. Keupayaan mewujudkan petempatan kekal
  - D. Keupayaan menghasilkan makanan melebihi keperluan
2. Makam orang Mesir Purba dipenuhi dengan peralatan dan kelengkapan harian kerana
- A. percaya akan kekuasaan firaun
  - B. percaya akan kata-kata pendeta
  - C. percaya kehidupan selepas mati
  - D. percaya kewujudan banyak tuhan
3. Apakah sumbangan tamadun Yunani dari segi politik kepada dunia?
- A. Prinsip demokrasi
  - B. Perancangan negara kota
  - C. Penggubalan perlembagaan
  - D. Pembentukan jemaah menteri
4. Gambar menunjukkan seni bina dalam tamadun Rom.



Seni bina di atas menggambarkan

- A. pemujaan dewa
- B. penyimpanan patung Dewa
- C. pahlawan bertarung
- D. pusat pentadbiran

**SULIT**

3

1249/1

- 5 Apakah bukti kewujudan hubungan perdagangan antara kawasan petempatan awal di Asia Tenggara?
- A Tembikar mengisi air
  - B Manik-manik hiasan
  - C Seni arca Amarawati
  - D Gendang gangsa Dongsong

- 6 Maklumat berikut berkaitan perahu layar abad ke-5 Masihi.

Tinggalan perahu yang dijumpai di Kuala Pontian, Pahang dipamerkan di Muzium Negeri Pahang.

Apakah nilai yang diserapkan kepada generasi kini melalui tinggalan tersebut?

- A Semangat meneroka
  - B Keberanian
  - C Keyakinan diri
  - D Semangat bersaing
- 7 Maklumat berikut berkaitan dengan amalan masyarakat pada zaman Jahiliah?

- Mementingkan suku kaum
- Mengamalkan sistem berkabilah
- Mengamalkan hidup berpindah-randah

Apakah kesan daripada amalan di atas?

- A Kerajaan sering bertukar ganti
  - B Kemunculan semangat assabiah
  - C Kelemahan sistem kekeluargaan
  - D Kegiatan ekonomi tidak berkembang
- 8 Strategi yang digunakan oleh Nabi Muhammad SAW sewaktu menerima tentangan daripada Arab Quraisy Makkah ialah
- I baginda meminta orang Islam berhijrah ke Habsyah
  - II sekumpulan orang Islam diarah berhijrah ke Taif
  - III Nabi Muhammad SAW dan para sahabat berhijrah ke Habsyah
  - IV Nabi Muhammad SAW berhijrah ke Madinah setelah mendapat keizinan Allah
- A I dan II
  - B I dan IV
  - C II dan III
  - D III dan IV

[Lihat Halaman Sebelah  
**SULIT**

**SULIT**

4

1249/1

- 9 Peperangan dalam Islam diharuskan bertujuan
- A mengukuhkan kedudukan ekonomi
  - B mempertahankan maruah negara
  - C mempunyai tentera yang ramai
  - D memperluas tanah jajahan
- 10 Mengapakah kebanyakan sahabat Nabi Muhammad SAW tidak dapat menerima isi kandungan Perjanjian Hudaibiyah?
- A Mereka tidak dibenarkan memberi pendapat masing-masing
  - B Mereka tetap mahu menziarahi Kota Makkah pada tahun itu
  - C Perjanjian itu lebih menguntungkan orang Quraisy
  - D Orang Quraisy berjaya memperdayakan Nabi Muhammad SAW
- 11 Senarai berikut berkaitan cara pelantikan khalifah pada zaman Khulafa al-Rasyidin.

- |   |
|---|
| <ul style="list-style-type: none"><li>- Baiah</li><li>- Syura</li></ul> |
|---|

Mengapakah proses tersebut dilaksanakan?

- A Memastikan rakyat setempat bersatu-padu
  - B Melibatkan penduduk dalam pelantikan khalifah
  - C Mengelakkan pemusatan kuasa di tangan khalifah
  - D Menjamin pelantikan pentadbir yang berkeelayakan
- 12 Orang Islam setempat yang terus tinggal di kawasan pemerintahan orang Kristian dikenali sebagai
- A Mozarab
  - B Mudejar
  - C Mawali
  - D Muhajirin

**[Lihat Halaman Sebelah****SULIT**

**SULIT**

5

1249/1

- 13 Tokoh berikut memberi sumbangan dalam bidang pendidikan pada Zaman Kesultanan Melayu Melaka

- Maulana Abu Bakar
- Maulana Sadar Jahan

Apakah peranan tokoh di atas kepada Sultan Melaka ?

- A Mengajar ilmu Islam
  - B Menasihati pemerintah
  - C Menetapkan istiadat diraja
  - D Mengetuai utusan diplomatik
- 14 Bukti pembabitan orang Melayu dalam bidang kesenian sebelum kedatangan Islam di Tanah Melayu adalah penemuan
- A Batu Bersurat Sungai Tersat
  - B Candi Angkor Wat
  - C Candi di Bukit Pendiati
  - D Rangka kapal di Pontian
- 15 Berikut merupakan mata wang yang digunakan di Tanah Melayu pada abad ke-17

- Ducats
- Lion Dollars
- Rix Dollars

Imperialis manakah yang memperkenalkan mata wang tersebut?

- A Sepanyol
  - B British
  - C Belanda
  - D Portugis
- 16 Mengapakah pihak pemerintah mengenakan cukai terhadap kegiatan perdagangan?
- A Menjadi sebahagian daripada pendapatan kerajaan
  - B Mengelakkan pedagang asing memungut keuntungan berlebihan
  - C Menjaga kepentingan pedagang tempatan
  - D Mengelak terlalu ramai pedagang asing berdagang

**SULIT**

6

1249/1

- 17 Pengajaran yang diperoleh melalui zaman Renaissance adalah
- ketabahan menghadapi dugaan dan cabaran dalam kehidupan
  - kekuatan rohani dan fizikal dalam kehidupan
  - keberanian untuk meneroka bidang baru
  - kekukuhan kewangan

- 18 Dialog berikut berlaku di Eropah pada abad ke-17.

**Tokoh A** : Hasil keluaran kilang kita semakin meningkat.  
**Tokoh B** : Tapi, kita tidak dapat menjual kesemuanya dalam negara.  
**Tokoh C** : Apakah tindakan kita, tuan ?

Apakah tindakan yang diambil oleh tokoh A ?

- Mencari pasaran
  - Mencipta kapal wap
  - Mendirikan lebih banyak kilang
  - Mengadakan hubungan diplomatik
- 19 Jadual di bawah menunjukkan kemerosotan penguasaan pemodal China dalam perlombongan bijih timah pada abad ke-20.

Tahun	Pemodal Eropah	Pemodal China
1930	63%	37%
1935	66%	34%
1937	68%	32%

Mengapakah perkara tersebut berlaku?

- Pemodal China kekurangan modal
  - Penggunaan teknologi kapal korek
  - Berlakunya kemelesetan ekonomi di Tanah Melayu
  - Persaingan berlaku dalam bidang perlombongan dan pertanian
- 20 British mengisytiharkan Tanah Simpanan Melayu supaya orang Melayu tidak
- boleh hidup dengan kaya-raya
  - bekerjasama dengan pihak British
  - mencemburui kaum lain
  - menanam tanaman komersial

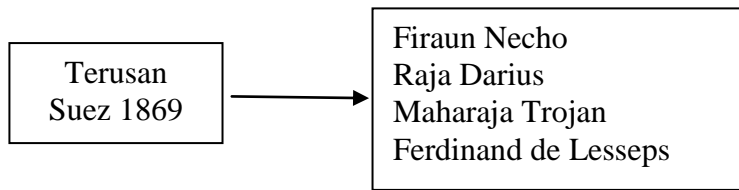
[Lihat Halaman Sebelah  
**SULIT**

SULIT

7

1249/1

21 Berikut adalah tokoh-tokoh yang terlibat dalam pembinaan Terusan Suez.



Apakah kepentingan Terusan Suez pada abad ke-19?

- A Menjalin hubungan diplomatik
  - B Menjimatkan kos pentadbiran
  - C Menyatukan kuasa-kuasa imperialis
  - D Membuktikan ketinggian teknologi
- 22 Apakah tujuan gerakan nasionalisme di Thailand pada tahap kedua?
- A Menentang penguasaan ekonomi kapitalis Cina dan Barat
  - B Menentang kuasa mutlak raja
  - C Membantah sistem pendidikan Barat
  - D Membantah kelemahan sistem pentadbiran
- 23 Jadual berikut menunjukkan kerajaan yang dibentuk oleh Tok Janggut di Pasir Puteh pada tahun 1913.

Tokoh	Jawatan
Engku Besar Jeram	Raja
Che Ishak	Pegawai Daerah
Tok Janggut	X

Apakah X?

- A Bendahara
- B Setiausaha
- C Menteri Besar
- D Perdana Menteri

[Lihat Halaman Sebelah  
SULIT

**SULIT**

8

1249/1

24 Senarai berikut merujuk kepada negeri-negeri warisan Kesultanan Melayu Melaka.

- |  |
|--|
| <ul style="list-style-type: none"> <li>• Johor</li> <li>• Perak</li> <li>• Pahang</li> </ul> |
|--|

Mengapakah negeri tersebut dianggap sedemikian?

- A Mengamalkan sistem Pembesar Empat Lipatan
- B Mengahwini kerabat diraja
- C Merupakan negeri naungan
- D Mewarisi Adat Papatih

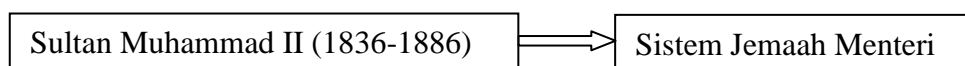
25 Pernyataan berikut adalah berkaitan konsep kedaulatan.

Kedaulatan bagi negara moden ialah kekuasaan yang dimiliki oleh sesebuah negara atau pemerintah terhadap rakyat sesebuah wilayah
--

Konsep kedaulatan bagi Kesultanan Melayu Melaka adalah merujuk

- A negara bebas daripada campur tangan kuasa asing
- B negeri atau kawasan pemerintahan diperintah oleh raja
- C melambangkan ketaatan rakyat kepada raja
- D menjadi simbol keagungan sesebuah kerajaan

26 Rajah di bawah menerangkan sistem pemerintahan di Kelantan



Penubuhan Jemaah Menteri oleh Sultan Muhammad II menunjukkan

- A Kelantan mempelopori sistem pemerintahan demokrasi
- B Kelantan mempunyai pentadbiran yang mantap
- C kewibawaan pemerintahan sultan
- D kecekapan pentadbiran sultan

27 Sir Harold Mac Michael telah mendapatkan tandatangan daripada Raja-raja Melayu untuk menerima penubuhan Malayan Union.

Apakah reaksi serta-merta orang Melayu terhadap tindakan beliau?

- A Penubuhan UMNO
- B Orang Melayu mengadakan demonstrasi
- C Pemimpin Melayu berkumpul di Kuala Kangsar
- D Orang Melayu mengadakan mogok

[Lihat Halaman Sebelah  
**SULIT**



SULIT

9

1249/1

28 Mengapakah surat di bawah dikeluarkan oleh pihak British kepada rakyat Sarawak?

- Surat Pekeliling Bil. 9
- 338 orang kakitangan awam meletak jawatan

- A Penjajahan tentera Jepun di Sarawak
- B Penguasaan Keluarga Brooke di Sarawak
- C Penentangan penduduk Sarawak terhadap Keluarga Brooke
- D Penentangan penduduk Sarawak terhadap penyerahan Sarawak

29 Mengapakah penubuhan Jawatankuasa Antara Kaum (CLC) merupakan titik permulaan kerjasama kaum di Tanah Melayu?

- A Kesanggupan UMNO untuk berunding dengan kaum lain demi masa depan negara
- B Persetujuan UMNO untuk membuka keahlian kepada orang bukan Melayu
- C Persetujuan British untuk memberikan kemerdekaan kepada Tanah Melayu
- D Kerjasama UMNO, MCA dan MIC membentuk Parti Perikatan

30. Senarai di bawah merupakan tokoh kemerdekaan negara.

- H.S. Lee
- Tunku Abdul Rahman
- Tun V. T Sambanthan

Apakah keistimewaan cara tokoh-tokoh di atas mencapai kemerdekaan negara?

- A Revolusi
- B Rundingan
- C Peperangan
- D Penentangan

31 Rajah di bawah merupakan peristiwa penting dalam sejarah pembentukan Malaysia.

Tahun	1966
Tempat	Bangkok
Peristiwa	<b>Rundingan Malaysia – Indonesia</b> <i>Wakil Malaysia : Dato' Abdul Razak Hussein</i> <i>Wakil Indonesia : En. Adam Malik</i>

Apakah tujuan rundingan di atas diadakan ?

- A Menamatkan konfrontasi
- B Membanteras ancaman komunis
- C Menggalakkan pertukaran budaya
- D Meningkatkan kerjasama ekonomi

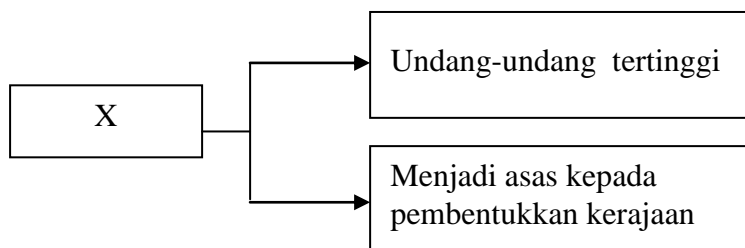
**SULIT**

10

**1249/1**

**32** Apakah cadangan yang dikemukakan oleh Suruhanjaya Cobbold untuk menarik penyertaan Sabah dan Sarawak ke dalam Malaysia?

- I Menjamin kedudukan pribumi.
  - II Menentukan dasar imigresen
  - III Menyegerakan kemerdekaan.
  - IV Memajukan ekonomi penduduk
- A** I dan II
  - B** I dan IV
  - C** II dan III
  - D** III dan IV



**33** Berdasarkan maklumat di atas, X ialah

- A** akta
- B** ordinan
- C** perlembagaan
- D** undang-undang

**34** Rajah di bawah berkaitan dengan Perlembagaan Malaysia.

X bertindak membakar Jalur Gemilang dalam satu perhimpunan

Berdasarkan Perkara 25, Perlembagaan Malaysia. X boleh

- A** dibuang negeri
- B** dihukum penjara
- C** dikenakan denda
- D** dilucutkan kerakyataan

**[Lihat Halaman Sebelah  
SULIT**

**SULIT**

11

**1249/1**

- 35** Apakah fungsi Suruhanjaya Pilihan Raya ?
- I Mengendalikan kawasan pilihan raya
  - II Menentukan calon-calon pilihan raya
  - III Mengendalikan pendaftaran pemilih
  - IV Menentukan sempadan bahagian-bahagian pilihan raya
- A** I dan II
  - B** I dan IV
  - C** II dan III
  - D** III dan IV

- 36** Tokoh di bawah telah memperkerusi Jawatankuasa Pelajaran pada tahun 1955.



Beliau mencadangkan sistem

- A** perguruan dan pengajaran yang sama
- B** persekolahan dan peperiksaan yang sama
- C** persekolahan dan kurikulum yang sama
- D** perguruan dan bahasa pengantar yang sama

**[Lihat Halaman Sebelah  
SULIT**

SULIT

12

1249/1

- 37 Logo di bawah merupakan logo temasya Sukan Malaysia.



Apakah yang dapat dikaitkan dengan temasya sukan di atas?

- A Diadakan tiga tahun sekali
  - B Diadakan di Stadium Merdeka
  - C Melibatkan penyertaan kaum tertentu
  - D Mengeratkan perpaduan antara kaum dan negeri
- 38 Apakah kesan Perang Dunia Kedua terhadap tanah jajahan barat?
- A Memberi peluang menjajah semula
  - B Menanggung perbelanjaan peperangan
  - C Mencapai kemerdekaan daripada penjajah
  - D Menghadapi peperangan sesama sendiri
- 39 Mengapakah MAPHILINDO ditubuhkan ditubuhkan pada tahun 1963?
- A Menentang penjajahan
  - B Mengeratkan hubungan antara negara
  - C Menyelesaikan pertelingkahan antara negara anggota
  - D Melindungi negara Malaysia yang baru ditubuhkan
- 40 K-ekonomi merupakan ekonomi berlandaskan pengetahuan. Apakah sumber paling berharga dalam menjayakannya?
- A Teknologi
  - B Modal intelektual
  - C Pasaran dalam negara
  - D Kemudahan prasarana

**KERTAS SOALAN TAMAT**